



**ДОМ  
УЧИТЕЛЯ**



**ЕКАТ  
ЕРИН  
БУРГ**



**Педагогические находки по  
подготовке  
к сдаче ОГЭ по географии**

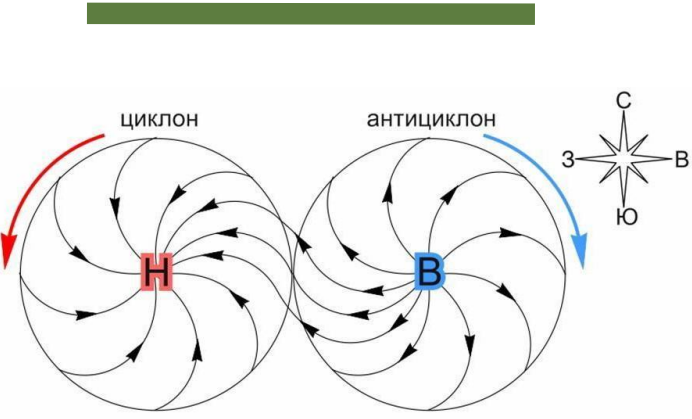
12.03.2026 года





# Задание 5

**Как запомнить – циклон, антициклон...?  
Где низкое давление, а где высокое???**



ВЫСОКО

А
Н
Т
И
Ц
И
К
Л
О
Н

# В

НИЗКО

Ц
И
К
Л
О
Н

# Н

# ЦИКЛОН



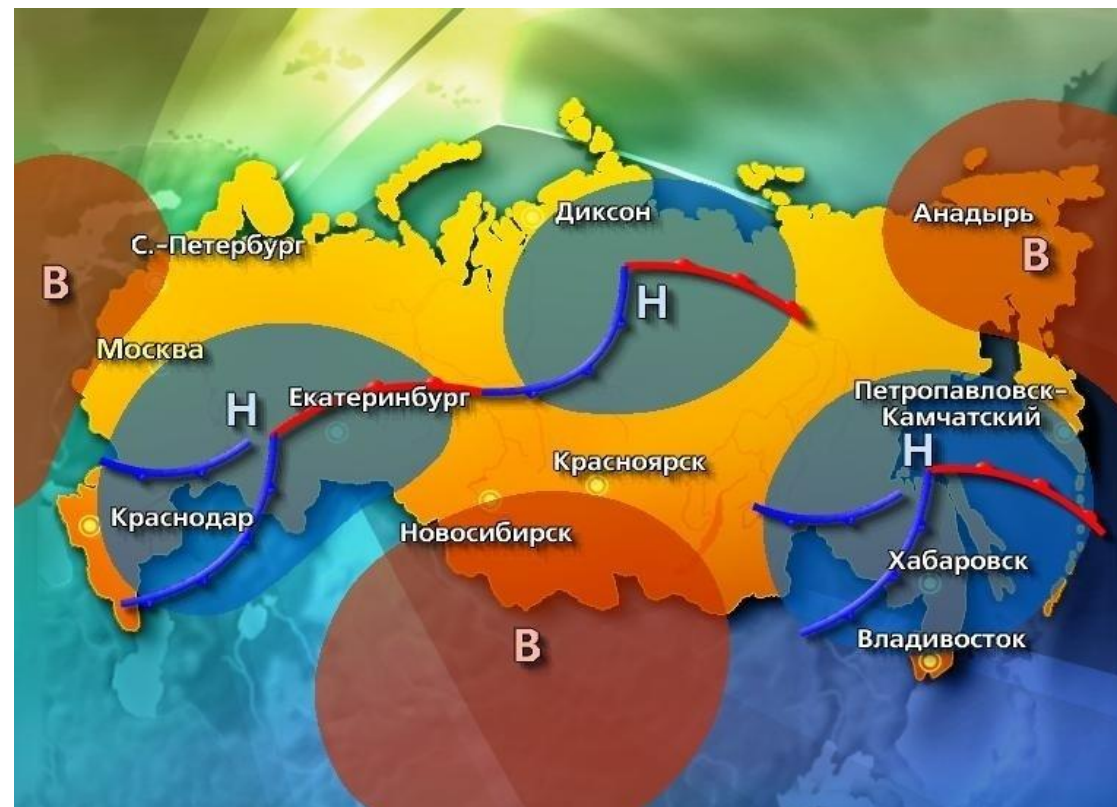
Можно расположить буквы в алфавитном порядке:

**А - В, Н - Ц**

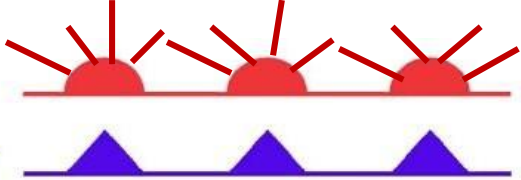
**Вихрь - Давление**

**А - В**  
**Ц - Н**

**Как запомнить – циклон, антициклон...?  
Где низкое давление, а где высокое???**



Теплый фронт



Холодный фронт



## Задание 6



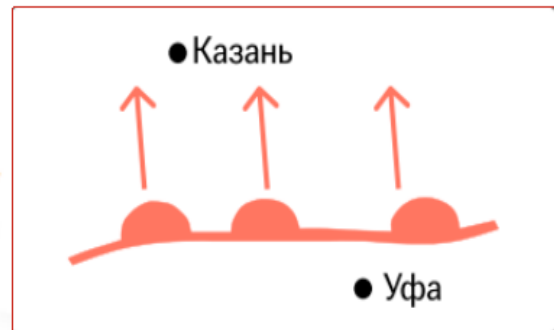
### ПРИЁМ «ДОРИСУЙ СТРЕЛКИ» (задание №6)

#### Тёплый атмосферный фронт

- Возникает, когда теплая воздушная масса надвигается и вытесняет холодный воздух. Приносит потепление.

**Важно: полукруги должны смотреть на город!!!**

На рисунке потепление ожидается в Казани.

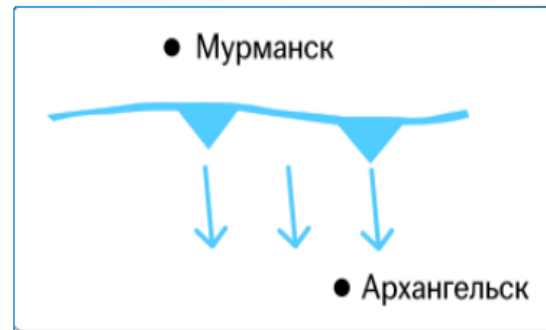



#### Холодный атмосферный фронт

Возникает, когда холодная воздушная масса надвигается и вытесняет теплый воздух. Приносит похолодание.

**Важно: зубчики должны смотреть на город!!!**

На рисунке похолодание ожидается в Архангельске.

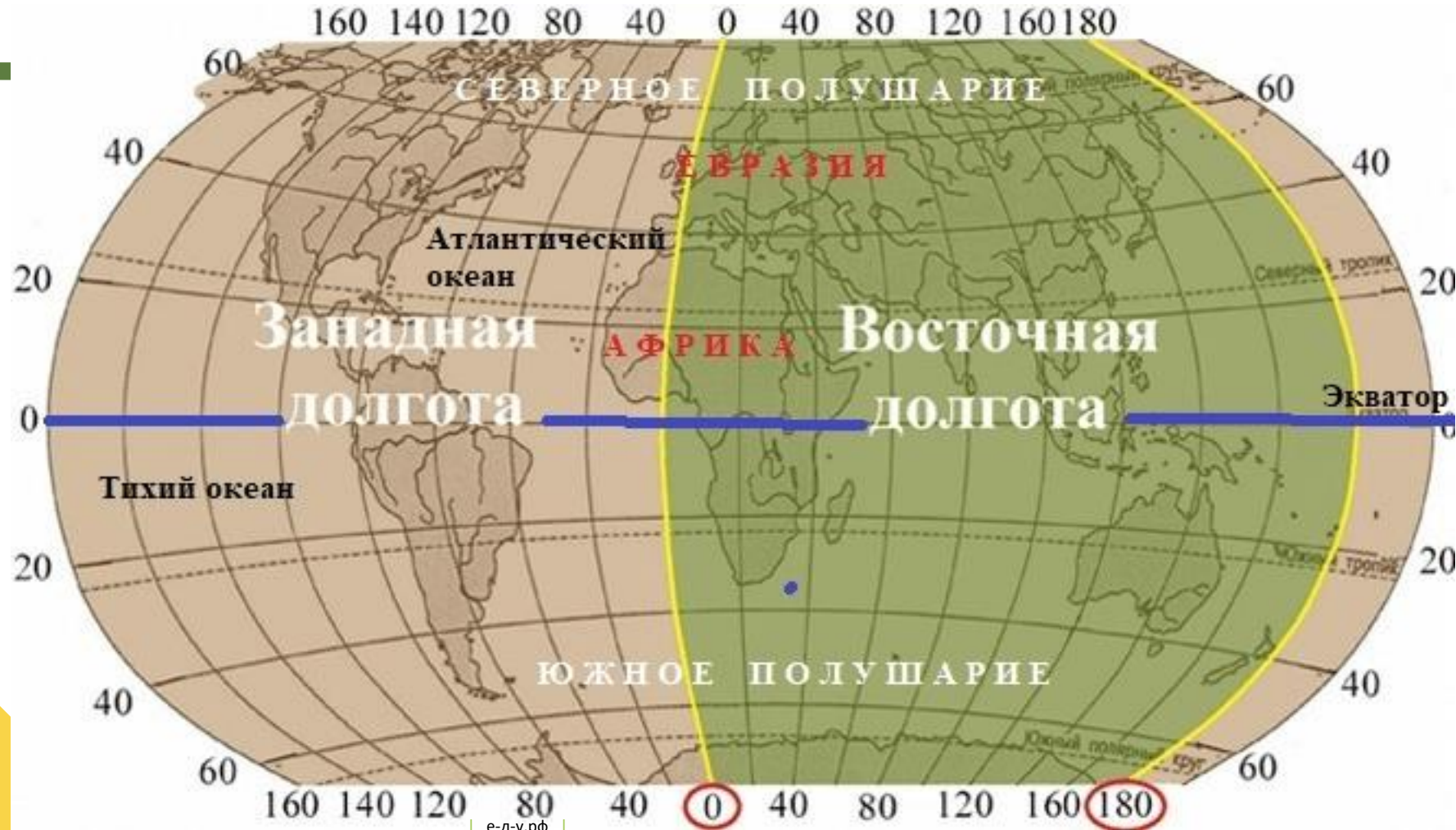


# Задание 7

кСЮШа и ЗаВод

Широта – северная и южная

Долгота – западная и восточная





Параллели

Меридианы



Широта

Долгота

**Широта** - это **горизонтальная линия** на карте. Для простоты запоминания: "Как мы измеряем **широкий** человек или нет? - мы измеряем его талию веревкой, которой обхватываем ее **горизонтально**."

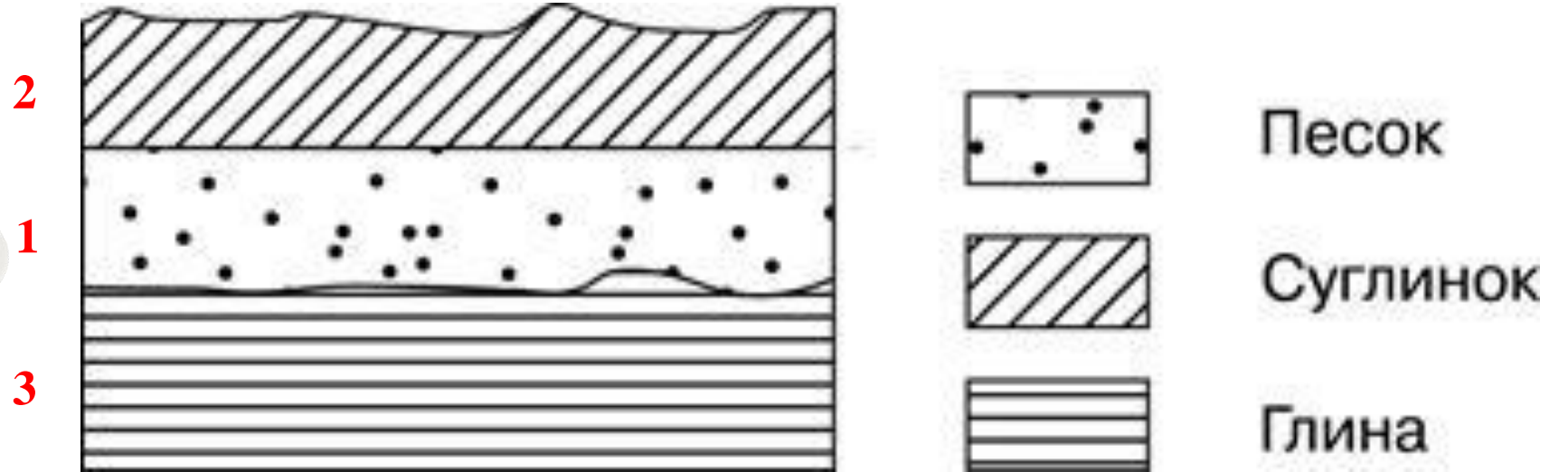
**Долгота** - это **вертикальная линия** на карте. Также можем провести аналогию для запоминания, что мы определяем **длинный** человек или нет, поставив его вертикально и измерив рост.





# Задание 8

*Молодые* горные породы *сверху*, *древние* - *снизу*



1. песок
2. суглинок
3. глина

1. Подписываем слои цифрами (буквами)
2. Переписываем последовательность сверху

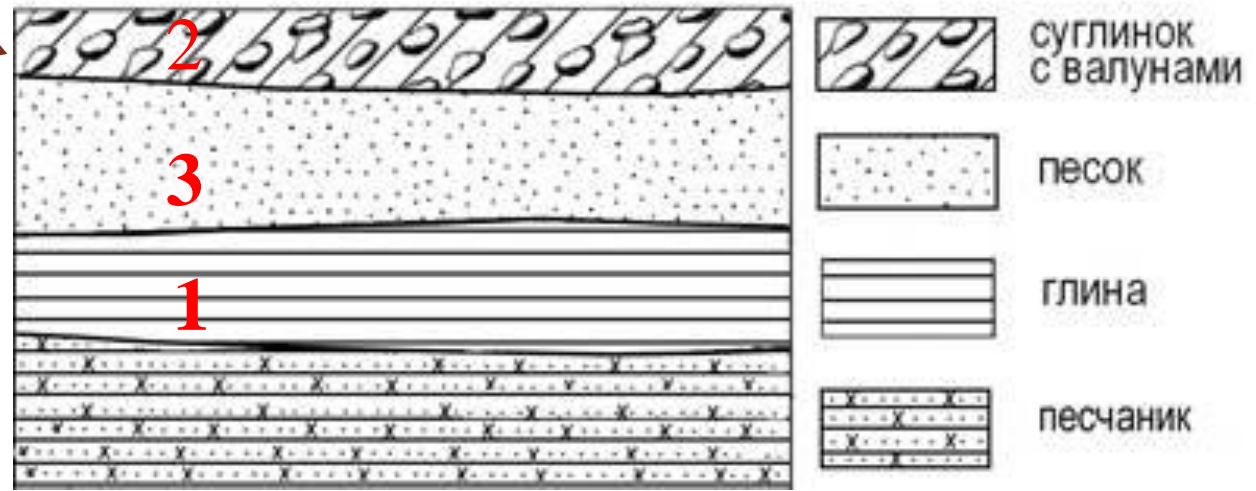


# Копаем сверху

Самый молодой



Самый древний



Расположите показанные на рисунке слои горных пород в порядке увеличения их возраста (от самого молодого до самого древнего). Запишите в таблицу получившуюся последовательность цифр.

1. Глина
2. Суглинок с валунами
3. Песок

1. Подписываем слои цифрами (буквами)
2. Переписываем последовательность цифр (букв) сверху

Как запомнить быстро и навсегда значение слов иммиграция и эмиграция?

## Задание 23



### Приём «Составление слова» для выполнения задания № 23

В каком году из указанных в таблице было зафиксировано наименьшее число эмигрантов?


Международная миграция населения в РФ (Человек)

Годы	2017	2018	2019	2020	2021
Прибыло	524452	565685	701234	594146	667922
Выбыло	377155	440831	416131	487672	238020

**Э, ты куда?** Эмиграция ( выбывшие)



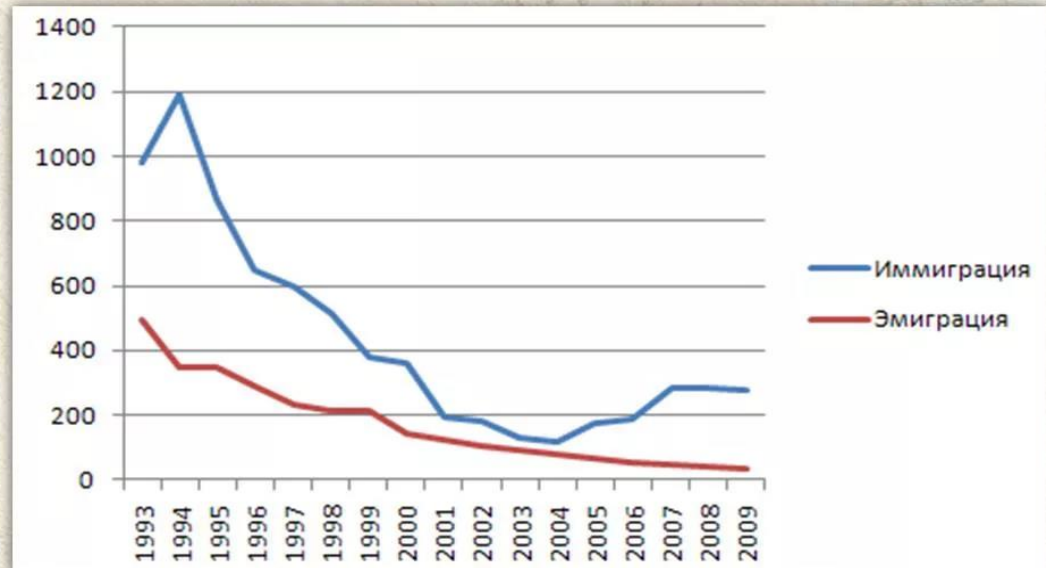
**И зачем ты приехал?** Иммиграция ( прибывшие)



Лайфхак!



## Миграционный прирост в России



В каком году из перечисленных, на постоянное место жительства в Россию из других стран въехало наименьшее количество людей?

**Как запомнить быстро и навсегда значение слов иммиграция и эмиграция?**

Вопросы:

- Чаще всего люди мечтают купить какой автомобиль - отечественный или импортный? (Импортный)
- Импортный автомобиль откуда? – из-за границы. Значит и люди, которые едут из-за границы - ИММИГРАНТЫ.
- Наша страна продает (экспортирует) нефть и газ за границу, в другие страны. Значит можно запомнить, что люди, выезжающие за границу, называются ЭМИГРАНТАМИ.

# Задание 25



## Приём «Составление смысловых фраз»

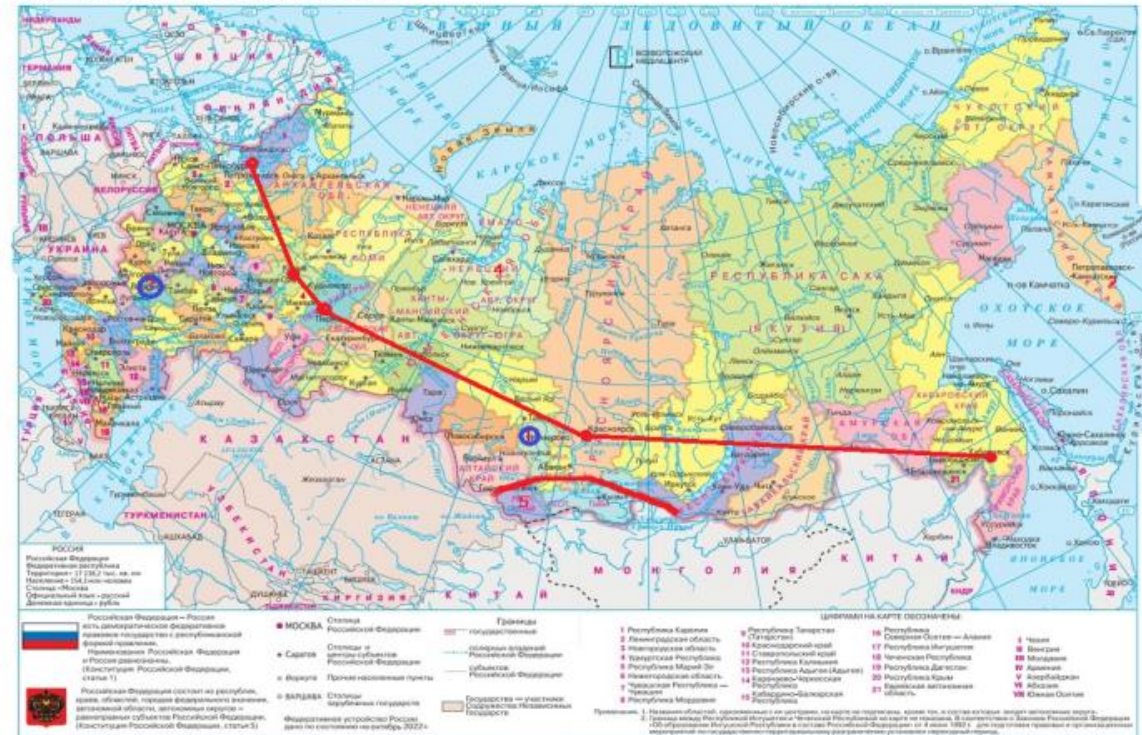
( задание 25 )

В каких двух из перечисленных регионов России средняя плотность населения наибольшая? Запишите в таблицу цифры, под которыми указаны эти регионы. ( вариант 12, ОГЭ География: типовые экзаменационные варианты: 30 вариантов/ Э.М. Амбарцумовой, 2024 )

- 1) Кемеровская область- Кузбасс
- 2) Камчатский край
- 3) Воронежская область
- 4) Ямало- Ненецкий автономный округ
- 5) Республика Алтай



РОССИЙСКАЯ ФЕДЕРАЦИЯ





# Задание 26

## Встречаем Новый год



Новый день начинается на востоке, а значит там люди первыми встречают Новый год. **Как же запомнить, где восток?**



- Вспоминаем какой у Японии флаг.
- Что означает красный круг? Это Солнце ВСТАЁТ. А где оно встаёт? На ВОСТОКЕ. Значит здесь и начинается день.
- Самый близкий к востоку город первым встречает Новый год, самый последний, тот, который на карте будет самым западным.





# КАК НОВЫЙ ГОД ШАГАЕТ ПО РОССИИ?



Всходит на востоке

**ВОС**ток - Солнце  
**ВОСХОДИТ**- **ВОСХОД**

Редактор: Елена Слободян  
Дизайнер: Александр Минибаев

АРГУМЕНТЫ  
И ФАКТЫ AIF.RU



**ЕКАТ  
ЕРИН  
БУРГ**



**Спасибо  
за внимание!**

