



ВЕЛИКАЯ ОТЕЧЕСТВЕННАЯ ВОЙНА: ФОРМАТ ЕДИНОГО ГОСУДАРСТВЕННОГО ЭКЗАМЕНА

РОССИЯ – МОЯ ИСТОРИЯ

С В Е Р Д Л О В С К А Я О Б Л А С Т Ь

27 МАРТА 2025 ГОДА

АВТОР ПРЕЗЕНТАЦИИ: И.С. ОГОНОВСКАЯ



**Назовите даты начала и конца Великой
Отечественной войны**

ЧАСТЬ 1. 12 ЗАДАНИЙ С КРАТКИМ ОТВЕТОМ

- УСТАНОВЛЕНИЕ СООТВЕТСТВИЯ ЭЛЕМЕНТОВ, ДАННЫХ В НЕСКОЛЬКИХ ИНФОРМАЦИОННЫХ РЯДАХ;
- ОПРЕДЕЛЕНИЕ ПОСЛЕДОВАТЕЛЬНОСТИ РАСПОЛОЖЕНИЯ ДАННЫХ ЭЛЕМЕНТОВ;
- ВЫБОР И ЗАПИСЬ ПРАВИЛЬНЫХ ОТВЕТОВ ИЗ ПРЕДЛОЖЕННОГО ПЕРЕЧНЯ ОТВЕТОВ;
- ОПРЕДЕЛЕНИЕ ПО УКАЗАННЫМ ПРИЗНАКАМ СЛОВА (СЛОВСОЧЕТАНИЯ), ТЕРМИНА, НАЗВАНИЯ, ИМЕНИ, ВЕКА, ГОДА;
- ЗАДАНИЯ 2, 8-11 – **1 БАЛЛ**
- ЗАДАНИЯ 1, 3, 5, 7 – **2 БАЛЛА**
- ЗАДАНИЯ 6, 12 – **2 БАЛЛА**
- ЗАДАНИЕ 4 – **3 БАЛЛА**

**ИСТОРИЧЕСКОЕ
ВРЕМЯ.
ДАТА!!!**

ЧАСТЬ 2. 9 ЗАДАНИЙ С РАЗВЕРНУТЫМ ОТВЕТОМ

ЗАДАНИЯ 13,
14, 15, 16, 19 –

0-2 БАЛЛА

ЗАДАНИЯ 17,
18, 20, 21 – **0-**

3 БАЛЛА

- ЗАДАНИЯ 13, 14. АНАЛИЗ ПИСЬМЕННОГО ИСТОЧНИКА (АТТРИБУЦИЯ, АНАЛИЗ ПРОБЛЕМАТИКИ НА ОСНОВЕ ИСТОРИЧЕСКИХ ЗНАНИЙ, ИЗВЛЕЧЕНИЕ ИНФОРМАЦИИ).
- ЗАДАНИЯ 15, 16. АНАЛИЗ ИЗОБРАЖЕНИЙ, СВЯЗАННЫХ С ИСТОРИЕЙ КУЛЬТУРЫ (ФОРМУЛИРОВКА И ОБЪЯСНЕНИЕ ВЫВОДОВ, ОПРЕДЕЛЕНИЕ СВЯЗАННЫХ С ИЗОБРАЖЕНИЕМ ФАКТОВ).
- ЗАДАНИЯ 17. ВЕЛИКАЯ ОТЕЧЕСТВЕННАЯ ВОЙНА (АНАЛИЗ ДВУХ ИСТОРИЧЕСКИХ ИСТОЧНИКОВ: СОБЫТИЕ И СВЯЗАННЫЕ С НИМ ДАННЫЕ).
- ЗАДАНИЕ 18. ПРИЧИННО-СЛЕДСТВЕННЫЕ СВЯЗИ.
- ЗАДАНИЕ 19. ИСТОРИЧЕСКИЕ ПОНЯТИЯ, ТЕРМИНЫ (ИСПОЛЬЗОВАНИЕ ИХ В ИСТОРИЧЕСКОМ КОНТЕКСТЕ).
- ЗАДАНИЕ 20. СРАВНЕНИЕ ИСТОРИЧЕСКИХ ЯВЛЕНИЙ, ПРОЦЕССОВ, СОБЫТИЙ.
- ЗАДАНИЕ 21. АРГУМЕНТАЦИЯ ТОЧКИ ЗРЕНИЯ.



29 октября
1941 г. –
июль 1942 г.
КОГДА?

Севастополь
ГДЕ?

Сражение
ЧТО?



Акор
КТО?

250 дней

**ИСТОРИЧЕСКОЕ СОБЫТИЕ – ЕДИНИЧНЫЙ
НЕПОВТОРИМЫЙ ИСТОРИЧЕСКИЙ ФАКТ**

ЗАДАНИЕ 1. УСТАНОВИТЕ СООТВЕТСТВИЕ МЕЖДУ **СОБЫТИЯМИ И ГОДАМИ**: К КАЖДОЙ ПОЗИЦИИ ПЕРВОГО СТОЛБЦА ПОДБЕРИТЕ СООТВЕТСТВУЮЩУЮ ПОЗИЦИЮ ИЗ ВТОРОГО СТОЛБЦА

СОБЫТИЕ



ГОД

- А) ВВЕДЕНИЕ ПАСПОРТНОЙ СИСТЕМЫ В СССР
- Б) НАЧАЛО КРЫМСКОЙ ВОЙНЫ
- В) НАЧАЛО КОНТРНАСТУПЛЕНИЯ КРАСНОЙ АРМИИ ПОД МОСКВОЙ
- Г) ПОДПИСАНИЕ ДОГОВОРА О ПРИНЯТИИ ЗАПОРОЖСКОЙ ОБЛАСТИ В СОСТАВ РОССИИ

- 1) 1853
- 2) 1917
- 3) 1932
- 4) 1941
- 5) 1943
- 6) 2022

А	Б	В	Г

ИСТОРИКО-КУЛЬТУРНЫЙ СТАНДАРТ (2013)

ОСНОВНЫЕ СОБЫТИЯ ВТОРОЙ МИРОВОЙ / ВЕЛИКОЙ ОТЕЧЕСТВЕННОЙ ВОЙН

- 1 СЕНТЯБРЯ 1939 – 2 СЕНТЯБРЯ 1945 – ВТОРАЯ МИРОВАЯ ВОЙНА
- 22 ИЮНЯ 1941 – 9 МАЯ 1945 – ВЕЛИКАЯ ОТЕЧЕСТВЕННАЯ ВОЙНА
- 24 ИЮНЯ 1941 – СОЗДАНИЕ СОВЕТА ПО ЭВАКУАЦИИ
- 10 ИЮЛЯ-10 СЕНТЯБРЯ 1941 – СМОЛЕНСКОЕ СРАЖЕНИЕ
- 8 СЕНТЯБРЯ 1941 – НАЧАЛО БЛОКАДЫ ЛЕНИНГРАДА
- 30 СЕНТЯБРЯ 1941 – НАЧАЛО БИТВЫ ПОД МОСКВОЙ
- 7 НОЯБРЯ 1941 – ПАРАД НА КРАСНОЙ ПЛОЩАДИ
- 7 НОЯБРЯ 1941 – ОФИЦИАЛЬНОЕ РЕШЕНИЕ США О РАСПРОСТРАНЕНИИ ЛЕНД-ЛИЗА НА СССР
- 5-6 ДЕКАБРЯ 1941 – ПЕРЕХОД СОВЕТСКИХ ВОЙСК В КОНТРНАСТУПЛЕНИЕ ПОД МОСКВОЙ
- 17 ИЮЛЯ 1942 – 2 ФЕВРАЛЯ 1943 – СТАЛИНГРАДСКАЯ БИТВА
- 25 ИЮЛЯ 1942 – НАЧАЛО БИТВЫ ЗА КАВКАЗ
- 28 ИЮЛЯ 1942 – ПРИКАЗ № 227 («НИ ШАГУ НАЗАД!»)
- 19 НОЯБРЯ 1942 – НАЧАЛО КОНТРНАСТУПЛЕНИЯ ПОД СТАЛИНГРАДОМ
- 12-18 ЯНВАРЯ 1943 – ПРОРЫВ БЛОКАДЫ ЛЕНИНГРАДА
- 5 ИЮЛЯ – 23 АВГУСТА 1943 – КУРСКАЯ БИТВА
- 5 АВГУСТА 1943 – ОСВОБОЖДЕНИЕ ОРЛА И БЕЛГОРОДА, ПЕРВЫЙ САЛЮТ В МОСКВЕ
- 3 АВГУСТА – 15 СЕНТЯБРЯ 1943 – ПАРТИЗАНСКАЯ ОПЕРАЦИЯ «РЕЛЬСОВАЯ ВОЙНА»
- 6 НОЯБРЯ 1943 – ОСВОБОЖДЕНИЕ КИЕВА
- 28 НОЯБРЯ-1 ДЕКАБРЯ 1943 – ТЕГЕРАНСКАЯ КОНФЕРЕНЦИЯ
- 27 ЯНВАРЯ 1944 – ПОЛНОЕ ОСВОБОЖДЕНИЕ ЛЕНИНГРАДА ОТ ВРАЖЕСКОЙ БЛОКАДЫ
- 26 МАРТА 1944 – ВЫХОД СОВЕТСКИХ ВОЙСК НА РУМЫНСКУЮ ГРАНИЦУ, НАЧАЛО ОСВОБОЖДЕНИЯ КРАСНОЙ АРМИЕЙ СТРАН ЕВРОПЫ (1944-1945)
- 6 ИЮНЯ 1944 – ВЫСАДКА СОЮЗНИКОВ ВО ФРАНЦИИ, ОТКРЫТИЕ ВТОРОГО ФРОНТА
- 23 ИЮНЯ – 29 АВГУСТА 1944 – БЕЛОРУССКАЯ НАСТУПАТЕЛЬНАЯ ОПЕРАЦИЯ СОВЕТСКИХ ВОЙСК
- 1943–1944 – ДЕПОРТАЦИЯ «РЕПРЕССИРОВАННЫХ НАРОДОВ» СССР
- 27 ЯНВАРЯ 1945 – ОСВОБОЖДЕНИЕ ОСВЕНЦИМА
- 4-11 ФЕВРАЛЯ 1945 – ЯЛТИНСКАЯ КОНФЕРЕНЦИЯ
- 16 АПРЕЛЯ - 2 МАЯ 1945 – БИТВА ЗА БЕРЛИН
- 25 АПРЕЛЯ – 26 ИЮНЯ 1945 – КОНФЕРЕНЦИЯ ОБЪЕДИНЕННЫХ НАЦИЙ В САН-ФРАНЦИСКО. ПРИНЯТИЕ УСТАВА ООН
- 9 МАЯ 1945 (ПО МОСК. ВР.) – БЕЗОГОВОРочНАЯ КАПИТУЛЯЦИЯ ГЕРМАНИИ, ОКОНЧАНИЕ ВЕЛИКОЙ ОТЕЧЕСТВЕННОЙ ВОЙНЫ
- 17 ИЮЛЯ-2 АВГУСТА 1945 – ПОТСДАМСКАЯ КОНФЕРЕНЦИЯ
- 9 АВГУСТА-2 СЕНТЯБРЯ 1945 – СОВЕТСКО-ЯПОНСКАЯ ВОЙНА
- 2 СЕНТЯБРЯ 1945 – КАПИТУЛЯЦИЯ ЯПОНИИ И ОКОНЧАНИЕ ВТОРОЙ МИРОВОЙ ВОЙНЫ



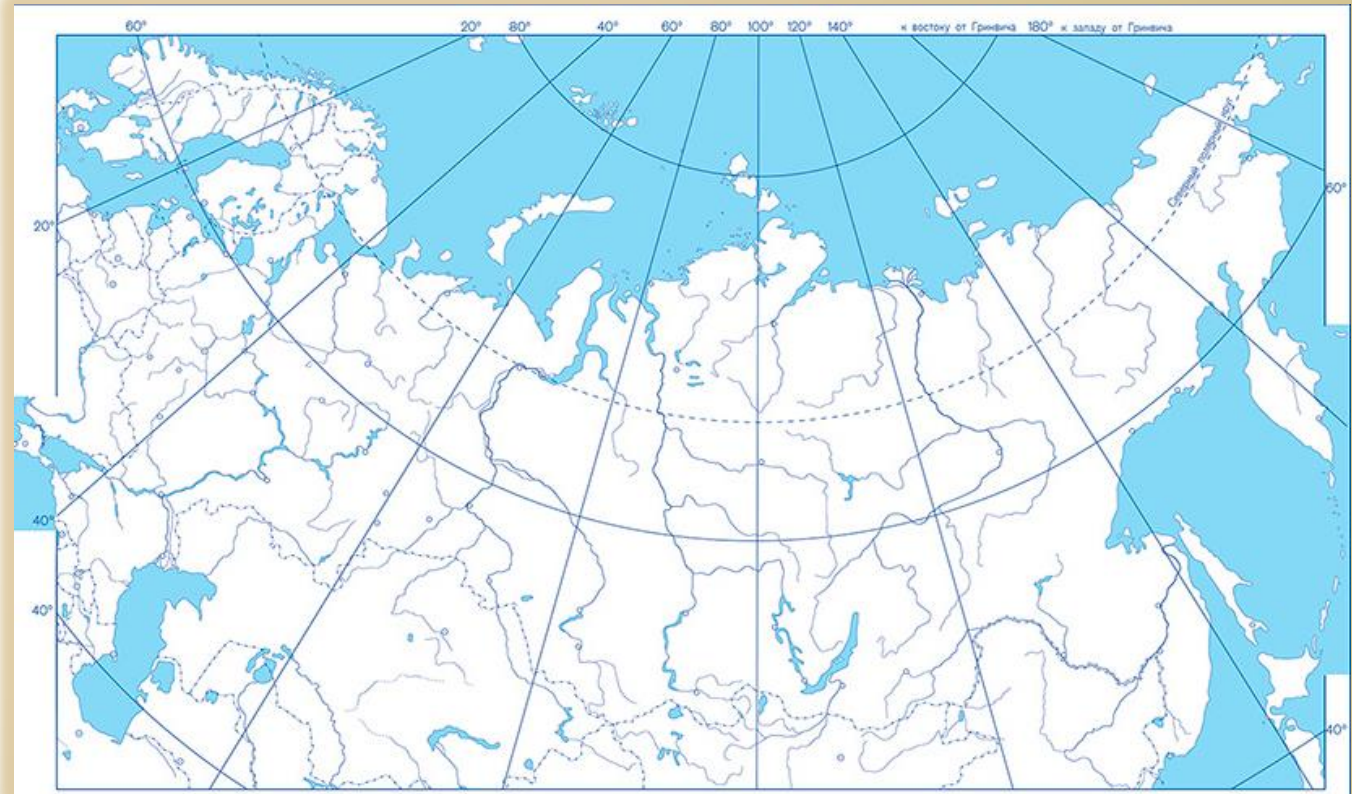
ЗАДАЧА. ВЫЯСНИТЬ, КАКИЕ ГОРОДА НАМ УЖЕ ВСТРЕЧАЛИСЬ И В СВЯЗИ С КАКИМИ СОБЫТИЯМИ

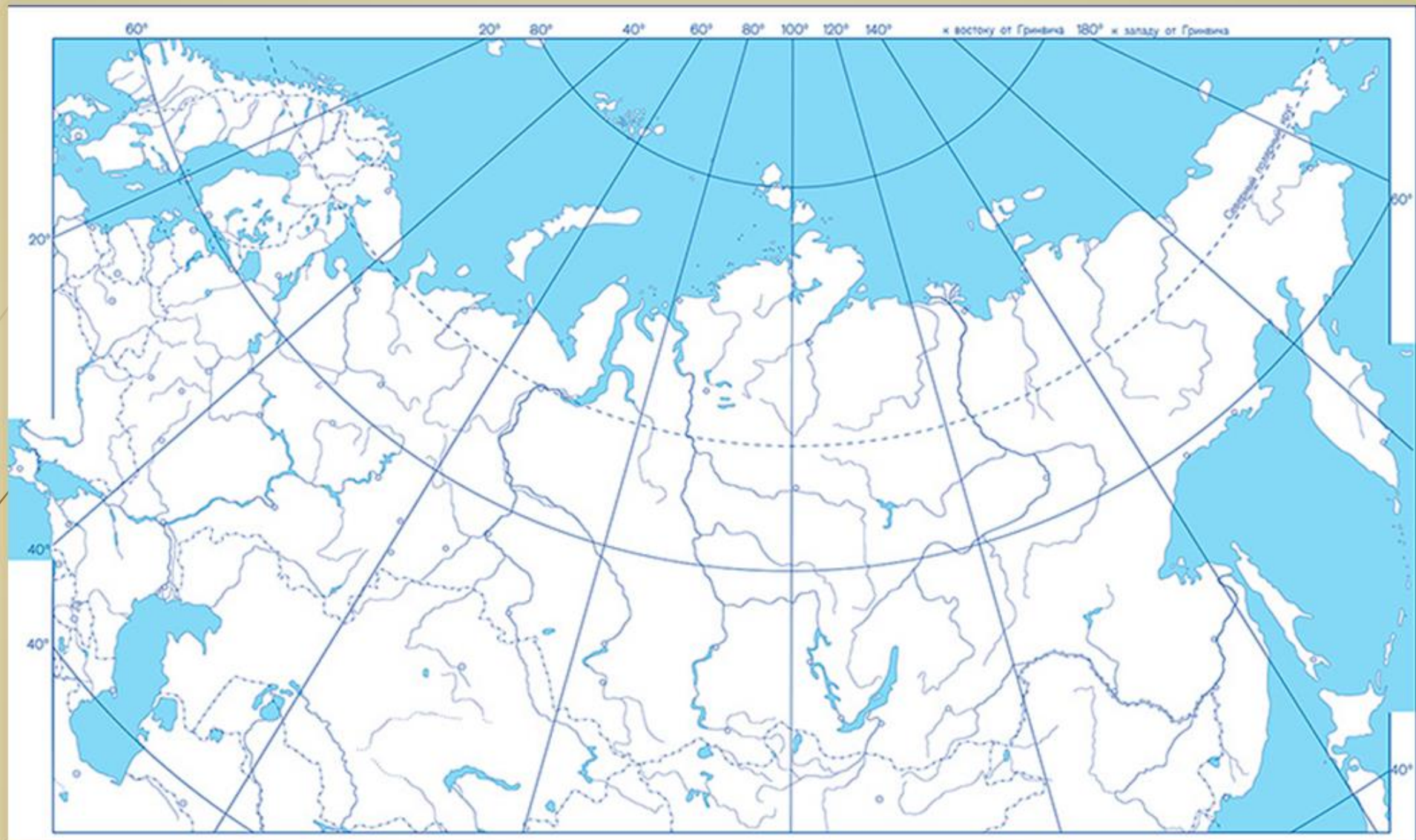
- СМОЛЕНСК
- МОСКВА
- ЦАРИЦЫН – СТАЛИНГРАД
- САНКТ-ПЕТЕРБУРГ – ЛЕНИНГРАД
- КУРСК
- ОРЕЛ
- БЕЛГОРОД
- КИЕВ
- МИНСК
- ЯЛТА

- ТЕГЕРАН
- ОСВЕНЦИМ (АУШВИЦ)
- БЕРЛИН
- ПОТСДАМ
- САН-ФРАНЦИСКО

РАБОТА С КАРТОЙ. РАСПОЛОЖИТЕ ГОРОДА НА КАРТЕ

- СМОЛЕНСК
- МОСКВА
- ЦАРИЦЫН – СТАЛИНГРАД
- САНКТ-ПЕТЕРБУРГ – ЛЕНИНГРАД
- КУРСК
- ОРЕЛ
- БЕЛГОРОД
- КИЕВ
- МИНСК
- ЯЛТА





ОСНОВНЫЕ ЭТАПЫ ВЕЛИКОЙ ОТЕЧЕСТВЕННОЙ ВОЙНЫ



285. Жуков Н., Климашин В.
Отстоим Москву! 1941



1) НАЧАЛЬНЫЙ ПЕРИОД (22 ИЮНЯ 1941 – НОЯБРЬ 1942):

- ПОГРАНИЧНЫЕ БОИ
- ОТСТУПЛЕНИЕ КРАСНОЙ АРМИИ
- ОБОРОНИТЕЛЬНЫЕ БОИ
- БИТВА ЗА МОСКВУ
- ОБОРОНА СТАЛИНГРАДА;

2) КОРЕННОЙ ПЕРЕЛОМ (НОЯБРЬ 1942 – КОНЕЦ 1943):

- КОНТРНАСТУПЛЕНИЕ ПОД СТАЛИНГРАДОМ
- КУРСКАЯ БИТВА
- ФОРСИРОВАНИЕ ДНЕПРА;

3) ЗАКЛЮЧИТЕЛЬНЫЙ ПЕРИОД (НАЧАЛО 1944 – МАЙ 1945):

- ОСВОБОЖДЕНИЕ ТЕРРИТОРИИ СССР
- ОСВОБОЖДЕНИЕ ЕВРОПЫ
- БЕРЛИНСКАЯ И ПРАЖСКАЯ ОПЕРАЦИИ

ОСНОВНЫЕ СРАЖЕНИЯ, ОПЕРАЦИИ


- **22 ИЮНЯ 1941 – 9 МАЯ 1945** – ВЕЛИКАЯ ОТЕЧЕСТВЕННАЯ ВОЙНА
- **10 ИЮЛЯ-10 СЕНТЯБРЯ 1941** – СМОЛЕНСКОЕ СРАЖЕНИЕ
- **8 СЕНТЯБРЯ 1941** – НАЧАЛО БЛОКАДЫ ЛЕНИНГРАДА
- **30 СЕНТЯБРЯ 1941** – НАЧАЛО БИТВЫ ПОД МОСКВОЙ
- **5-6 ДЕКАБРЯ 1941** – ПЕРЕХОД СОВЕТСКИХ ВОЙСК В КОНТРНАСТУПЛЕНИЕ ПОД МОСКВОЙ
- **17 ИЮЛЯ 1942 – 2 ФЕВРАЛЯ 1943** – СТАЛИНГРАДСКАЯ БИТВА
- **25 ИЮЛЯ 1942** – НАЧАЛО БИТВЫ ЗА КАВКАЗ
- **19 НОЯБРЯ 1942** – НАЧАЛО КОНТРНАСТУПЛЕНИЯ ПОД СТАЛИНГРАДОМ
- **12-18 ЯНВАРЯ 1943** – ПРОРЫВ БЛОКАДЫ ЛЕНИНГРАДА
- **5 ИЮЛЯ – 23 АВГУСТА 1943** – КУРСКАЯ БИТВА
- **5 АВГУСТА 1943** – ОСВОБОЖДЕНИЕ ОРЛА И БЕЛГОРОДА, ПЕРВЫЙ САЛЮТ В МОСКВЕ
- **3 АВГУСТА – 15 СЕНТЯБРЯ 1943** – ПАРТИЗАНСКАЯ ОПЕРАЦИЯ «РЕЛЬСОВАЯ ВОЙНА»
- **6 НОЯБРЯ 1943** – ОСВОБОЖДЕНИЕ КИЕВА
- **27 ЯНВАРЯ 1944** – ПОЛНОЕ ОСВОБОЖДЕНИЕ ЛЕНИНГРАДА ОТ ВРАЖЕСКОЙ БЛОКАДЫ
- **26 МАРТА 1944** – ВЫХОД СОВЕТСКИХ ВОЙСК НА РУМЫНСКУЮ ГРАНИЦУ, НАЧАЛО ОСВОБОЖДЕНИЯ КРАСНОЙ АРМИЕЙ СТРАН ЕВРОПЫ (1944-1945)
- **23 ИЮНЯ – 29 АВГУСТА 1944** – БЕЛОРУССКАЯ НАСТУПАТЕЛЬНАЯ ОПЕРАЦИЯ СОВЕТСКИХ ВОЙСК
- **27 ЯНВАРЯ 1945** – ОСВОБОЖДЕНИЕ ОСВЕНЦИМА
- **16 АПРЕЛЯ - 2 МАЯ 1945** – БИТВА ЗА БЕРЛИН
- **9 МАЯ 1945** (ПО МОСК. ВР.) – БЕЗОГОВОРочНАЯ КАПИТУЛЯЦИЯ ГЕРМАНИИ, ОКОНЧАНИЕ ВЕЛИКОЙ ОТЕЧЕСТВЕННОЙ ВОЙНЫ
- **9 АВГУСТА – 2 (3) СЕНТЯБРЯ 1945** – СОВЕТСКО-ЯПОНСКАЯ ВОЙНА

МЕЖДУНАРОДНЫЕ СОБЫТИЯ

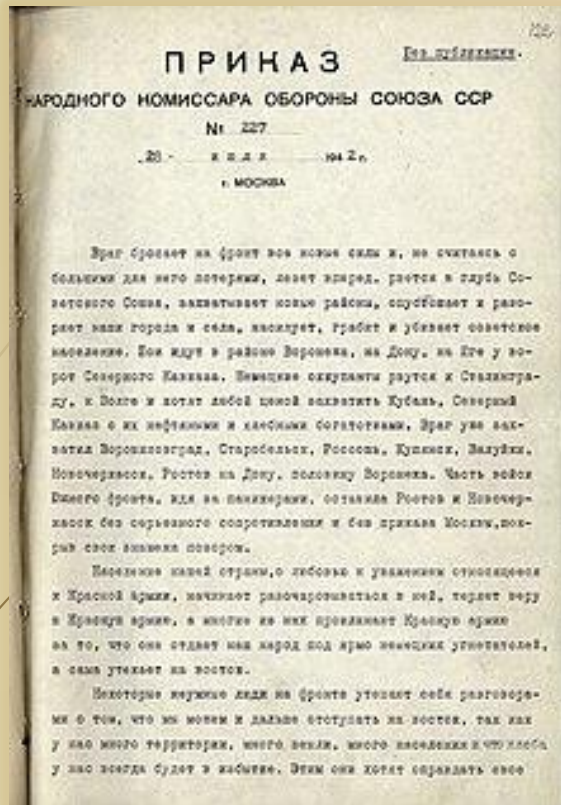


- **1 СЕНТЯБРЯ 1939 – 2 (3) СЕНТЯБРЯ 1945** – ВТОРАЯ МИРОВАЯ ВОЙНА
- **7 НОЯБРЯ 1941** – ОФИЦИАЛЬНОЕ РЕШЕНИЕ США О РАСПРОСТРАНЕНИИ ЛЕНД-ЛИЗА НА СССР
- **28 НОЯБРЯ-1 ДЕКАБРЯ 1943** – ТЕГЕРАНСКАЯ КОНФЕРЕНЦИЯ
- **6 ИЮНЯ 1944** – ВЫСАДКА СОЮЗНИКОВ ВО ФРАНЦИИ, ОТКРЫТИЕ ВТОРОГО ФРОНТА
- **4-11 ФЕВРАЛЯ 1945** – ЯЛТИНСКАЯ КОНФЕРЕНЦИЯ
- **25 АПРЕЛЯ – 26 ИЮНЯ 1945** – КОНФЕРЕНЦИЯ ОБЪЕДИНЕННЫХ НАЦИЙ В САН-ФРАНЦИСКО. ПРИНЯТИЕ УСТАВА ООН
- **17 ИЮЛЯ-2 АВГУСТА 1945** – ПОТСДАМСКАЯ КОНФЕРЕНЦИЯ
- **2 (3) СЕНТЯБРЯ 1945** – КАПИТУЛЯЦИЯ ЯПОНИИ И ОКОНЧАНИЕ ВТОРОЙ МИРОВОЙ ВОЙНЫ





Н.М. Шверник
Председатель
совета по
эвакуации
(16 июля–
25 декабря
1941).
Председатель
комиссии
по
эвакуации
(с 22 июня
1942)



ДРУГОЕ

- **24 ИЮНЯ 1941** – СОЗДАНИЕ СОВЕТА ПО ЭВАКУАЦИИ
- **7 НОЯБРЯ 1941** – ПАРАД НА КРАСНОЙ ПЛОЩАДИ В МОСКВЕ
- **28 ИЮЛЯ 1942** – ПРИКАЗ № 227 («НИ ШАГУ НАЗАД!»)
- **1943–1944** – ДЕПОРТАЦИЯ «РЕПРЕССИРОВАННЫХ НАРОДОВ» СССР



СВЕРХ ИСТОРИКО-КУЛЬТУРНОГО СТАНДАРТА

- ОСВОБОЖДЕНИЕ СЕВАСТОПОЛЯ ОТ НЕМЕЦКО-ФАШИСТСКИХ ЗАХВАТЧИКОВ -
- ПРАЖСКАЯ ОПЕРАЦИЯ, ОСВОБОЖДЕНИЕ ПРАГИ СОВЕТСКИМИ ВОЙСКАМИ
- ВСТРЕЧА НА ЭЛЬБЕ
- БОЙ У РАЗЪЕЗДА ДУБОСЕКОВО
- КОРСУНО-ШЕВЧЕНКОВСКАЯ ОПЕРАЦИЯ
- ОСВОБОЖДЕНИЕ МИНСКА ОТ НЕМЕЦКО-ФАШИСТСКИХ ЗАХВАТЧИКОВ
- ВЗЯТИЕ КЁНИГСБЕРГА СОВЕТСКИМИ ВОЙСКАМИ
- ОСВОБОЖДЕНИЕ ВИЛЬНЮСА ОТ НЕМЕЦКО-ФАШИСТСКИХ ЗАХВАТЧИКОВ
- ЛЕНИНГРАДСКО-НОВГОРОДСКАЯ СТРАТЕГИЧЕСКАЯ НАСТУПАТЕЛЬНАЯ ОПЕРАЦИЯ
- ОСВОБОЖДЕНИЕ БУДАПЕШТА ОТ НЕМЕЦКО-ФАШИСТСКИХ ВОЙСК

- ОСВОБОЖДЕНИЕ КРЫМА ОТ ФАШИСТСКИХ ВОЙСК, КРЫМСКАЯ НАСТУПАТЕЛЬНАЯ ОПЕРАЦИЯ
- ОСВОБОЖДЕНИЕ ВЕНЫ СОВЕТСКИМИ ВОЙСКАМИ
- ВОСТОЧНО-ПРУССКАЯ СТРАТЕГИЧЕСКАЯ НАСТУПАТЕЛЬНАЯ ОПЕРАЦИЯ
- ОСВОБОЖДЕНИЕ КЛИНА ОТ НЕМЕЦКО-ФАШИСТСКИХ ВОЙСК
- ЗАВЕРШЕНИЕ СТРАТЕГИЧЕСКОЙ ВОЕННОЙ ОПЕРАЦИИ «КОЛЬЦО»
- НАЧАЛО ВИСЛО-ОДЕРСКОЙ ОПЕРАЦИИ
- ЗАХВАТ НЕМЕЦКО-ФАШИСТСКИМИ ВОЙСКАМИ КИЕВА
- КАРПАТСКИЙ ПАРТИЗАНСКИЙ РЕЙД
- СРАЖЕНИЕ ЗА ЗЕЛОВСКИЕ ВЫСОТЫ
- ОСВОБОЖДЕНИЕ ОДЕССЫ ОТ НЕМЕЦКО-ФАШИСТСКИХ ЗАХВАТЧИКОВ

КОДОВЫЕ НАЗВАНИЯ НЕМЕЦКИХ ОПЕРАЦИЙ

- **ОПЕРАЦИЯ «БАРБАРОССА»** — ВОЕННАЯ ОПЕРАЦИЯ ПО ЗАХВАТУ ТЕРРИТОРИИ СССР ДО ЛИНИИ АРХАНГЕЛЬСК-АСТРАХАНЬ
- **ОПЕРАЦИЯ «ПОЛЯРФУКС»** — ОПЕРАЦИЯ ПО ЗАХВАТУ МУРМАНСКА.
- **ОПЕРАЦИЯ «ТАЙФУН»** — ОПЕРАЦИЯ ПО ЗАХВАТУ МОСКВЫ
- **«КРЕМЛЬ»** - ОПЕРАЦИЯ ПО ДЕЗИНФОРМАЦИИ СОВЕТСКОГО ПОЛИТИЧЕСКОГО РУКОВОДСТВА И ВОЕННОГО КОМАНДОВАНИЯ ПРОВОДИВШАЯСЯ ВЕСНОЙ 1942 Г. С ЦЕЛЬЮ УБЕДИТЬ, ЧТО ГЛАВНОЙ ЦЕЛЬЮ НЕМЦЕВ ВО ВРЕМЯ ВЕСЕННЕ-ЛЕТНЕЙ КАМПАНИИ 1942 Г. ПО-ПРЕЖНЕМУ БУДЕТ ЗАХВАТ МОСКВЫ.
- **ОПЕРАЦИЯ «АЙСШТОСС»** — ОПЕРАЦИЯ ЛЮФТВАФФЕ ПО УНИЧТОЖЕНИЮ СИЛ БАЛТИЙСКОГО ФЛОТА
- **ОПЕРАЦИЯ «ЗЕЙДЛИЦ»** — ОПЕРАЦИЯ ПО ОКРУЖЕНИЮ СОВЕТСКИХ ЧАСТЕЙ ПОД РЖЕВОМ
- **ПЛАН «БЛАУ»** — КОДОВОЕ НАЗВАНИЕ ОПЕРАЦИИ ПО ЗАХВАТУ КАВКАЗА
- **ПЛАН «КЛАУЗЕВИЦ»** — НАЗВАНИЕ ОПЕРАЦИИ ПО ОКРУЖЕНИЮ СОВЕТСКИХ ВОЙСК ПОД РОСТОВОМ-НА-ДОНУ
- **ОПЕРАЦИЯ «ВИНТЕРГЕВИТТЕР»** — ОПЕРАЦИЯ ПО ВЫВЕДЕНИЮ ИЗ ОКРУЖЕНИЯ ПОД СТАЛИНГРАДОМ 6-АРМИИ ФРИДРИХА ПАУЛЮСА
- **ОПЕРАЦИЯ «БЮФФЕЛЬ»** — ОПЕРАЦИЯ ПО ВЫВОДУ НЕМЕЦКИХ ВОЙСК ИЗ РЖЕВСКОГО ВЫСТУПА
- **ОПЕРАЦИЯ «ЦИТАДЕЛЬ»** — НАСТУПЛЕНИЕ НЕМЕЦКИХ ВОЙСК НА КУРСКОЙ ДУГЕ
- **ОПЕРАЦИЯ «ДВОЙНАЯ ГОЛОВА» И ОПЕРАЦИЯ «ЦЕЗАРЬ»** — КОНТРНАСТУПЛЕНИЕ НЕМЕЦКИХ ВОЙСК В ПРИБАЛТИКЕ

КОДОВЫЕ НАЗВАНИЯ СОВЕТСКИХ ОПЕРАЦИЙ

- **«УРАН»** - ОПЕРАЦИЯ ПО РАЗГРОМУ НЕМЕЦКИХ ВОЙСК ПОД СТАЛИНГРАДОМ.
- **«КОЛЬЦО»** - НАСТУПАТЕЛЬНАЯ ОПЕРАЦИЯ, ОСУЩЕСТВЛЁННАЯ 10 ЯНВАРЯ – 2 ФЕВРАЛЯ 1943 Г. ЦЕЛЮЮ БЫЛО УНИЧТОЖЕНИЕ ОКРУЖЁННОЙ ПОД СТАЛИНГРАДОМ ГРУППИРОВКИ НЕМЕЦКИХ ВОЙСК (6-Я ПОЛЕВАЯ И 4-Я ТАНКОВАЯ НЕМЕЦКИЕ АРМИИ ПОД ОБЩИМ КОМАНДОВАНИЕМ ГЕНЕРАЛА Ф. ПАУЛЮСА).
- **«ИСКРА»** - ОПЕРАЦИЯ ПО ПРОРЫВУ БЛОКАДЫ ЛЕНИНГРАДА. ПРОВОДИЛАСЬ 12–18 ЯНВАРЯ 1943 Г. ВОЙСКАМИ ВОЛХОВСКОГО (ГЕНЕРАЛ АРМИИ К.А. МЕРЕЦКОВ) И ЛЕНИНГРАДСКОГО (ГЕНЕРАЛ Л.А. ГОВОРОВ) ФРОНТОВ. В РЕЗУЛЬТАТЕ СОВЕТСКИЕ ВОЙСКА СОЕДИНИЛИСЬ В РАЙОНЕ СИНЯВИНО И СУМЕЛИ СОЗДАТЬ «КОРИДОР» ШИРИНОЙ 8–11 КМ.
- **«КУТУЗОВ»** - НАСТУПАТЕЛЬНАЯ ОПЕРАЦИЯ, РЕЗУЛЬТАТОМ КОТОРОЙ СТАЛО ОСВОБОЖДЕНИЕ ОРЛА 5 АВГУСТА 1943 Г. УЧАСТВОВАЛИ ЗАПАДНЫЙ (ГЕНЕРАЛ-ПОЛКОВНИК В.Д. СОКОЛОВСКИЙ), БРЯНСКИЙ (ГЕНЕРАЛ-ПОЛКОВНИК М.М. ПОПОВ) И ЦЕНТРАЛЬНЫЙ (ГЕНЕРАЛ АРМИИ К.К. РОКОССОВСКИЙ) ФРОНТЫ.
- **«РУМЯНЦЕВ»** - НАСТУПАТЕЛЬНАЯ ОПЕРАЦИЯ, РЕЗУЛЬТАТОМ КОТОРОЙ СТАЛО ОСВОБОЖДЕНИЕ БЕЛГОРОДА 5 АВГУСТА И ХАРЬКОВА 23 АВГУСТА 1943 Г. ОСУЩЕСТВЛЯЛИ СТЕПНОЙ (ГЕНЕРАЛ-ПОЛКОВНИК И.С. КОНЕВ), ВОРОНЕЖСКИЙ (ГЕНЕРАЛ АРМИИ Н.Ф. ВАТУТИН) И ЮГО-ЗАПАДНЫЙ (ГЕНЕРАЛ-ПОЛКОВНИК Р.Я. МАЛИНОВСКИЙ) ФРОНТЫ.
- **«РЕЛЬСОВАЯ ВОЙНА», «КОНЦЕРТ»** - ПАРТИЗАНСКИЕ ОПЕРАЦИИ В АВГУСТЕ–СЕНТЯБРЕ (ОКТАБРЕ) 1943 Г., С ПОМОЩЬЮ КОТОРЫХ НА ДЛИТЕЛЬНОЕ ВРЕМЯ БЫЛИ ДЕЗОРГАНИЗОВАНЫ ЖЕЛЕЗНОДОРОЖНЫЕ ПЕРЕВОЗКИ В ТЫЛУ ВРАГА.
- **«ЯНВАРСКИЙ ГРОМ»** (КРАСНОСЕЛЬСКО-РОПШИНСКАЯ ОПЕРАЦИЯ / НЕВА-2) - НАСТУПАТЕЛЬНАЯ ОПЕРАЦИЯ СОВЕТСКИХ ВОЙСК ЛЕНИНГРАДСКОГО ФРОНТА ПРОТИВ 18-И НЕМЕЦКОЙ АРМИИ, ОСАЖДАВШЕЙ ЛЕНИНГРАД. ЧАСТЬ ЛЕНИНГРАДСКО-НОВГОРОДСКОЙ СТРАТЕГИЧЕСКОЙ ОПЕРАЦИИ.
- **«БАГРАТИОН»** - НАСТУПЛЕНИЕ СОВЕТСКИХ ВОЙСК ЛЕТОМ 1944 Г., В РЕЗУЛЬТАТЕ КОТОРОГО БЫЛА ОСВОБОЖДЕНА НЕ ТОЛЬКО ВСЯ БЕЛОРУССИЯ, НО И ЧАСТЬ ЛИТВЫ И ПОЛЬШИ.
- **«ШКВАЛ»** - ОПЕРАЦИЯ ПО ОТВЛЕЧЕНИЮ СИЛ ПРОТИВНИКА ОТ ЛЕНИНГРАДА В ТО ВРЕМЯ, КОГДА ТАМ ИСПОЛНЯЛАСЬ 7-Я СИМФОНИЯ ШОСТАКОВИЧА. ДЛИЛАСЬ 80 МИНУТ. ТРИ ТЫСЯЧИ КРУПНОКАЛИБЕРНЫХ СНАРЯДОВ БЫЛИ ВЫПУЩЕНЫ ИЗ ДАЛЬНОБОЙНЫХ ОРУДИЙ ПО ЗАРАНЕЕ РАЗВЕДАННЫМ ЦЕЛЯМ ПРОТИВНИКА - АРТИЛЛЕРИЙСКИМ ПОЗИЦИЯМ, ШТАБАМ И АЭРОДРОМАМ.

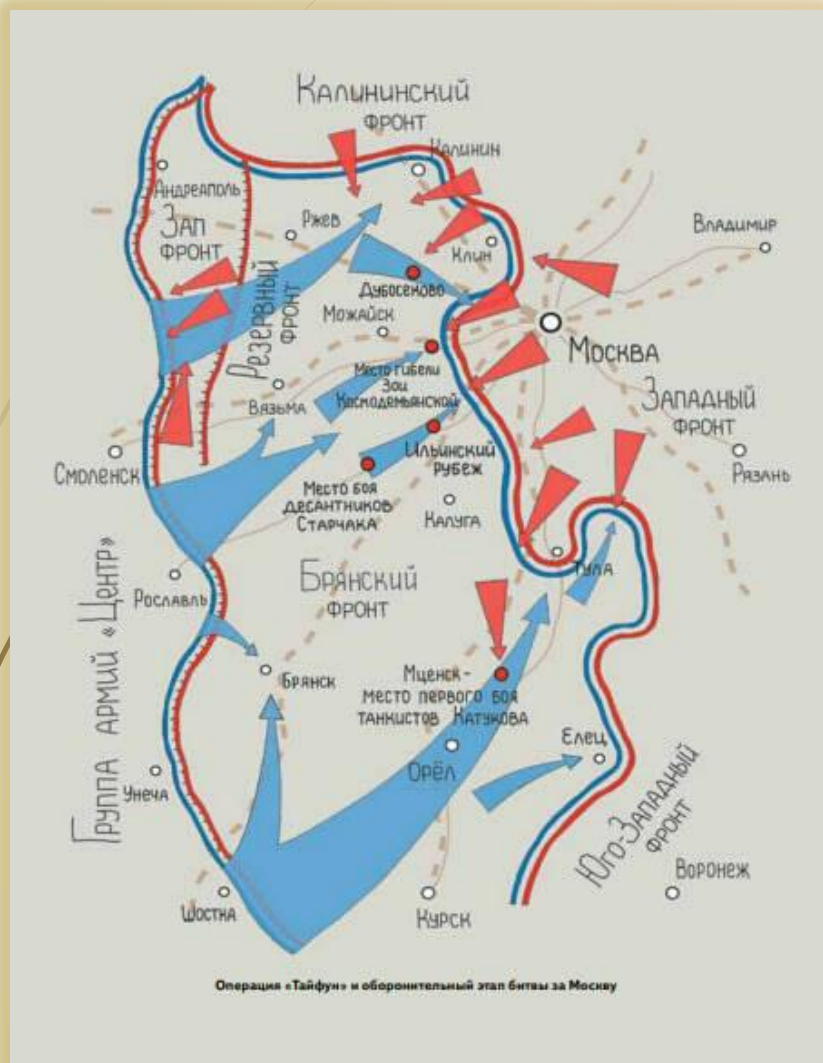
НОРМАНДСКАЯ ОПЕРАЦИЯ «ОВЕРЛОРД» (6 июня – 25 августа 1944 г.)



ЗАДАНИЕ 1. У УСТАНОВИТЕ СООТВЕТСТВИЕ МЕЖДУ СОБЫТИЯМИ И УЧАСТНИКАМИ: К КАЖДОЙ ПОЗИЦИИ ПЕРВОГО СТОЛБЦА ПОДБЕРИТЕ СООТВЕТСТВУЮЩУЮ ПОЗИЦИЮ ИЗ ВТОРОГО СТОЛБЦА

- ЯССКО-КИШИНЕВСКАЯ ОПЕРАЦИЯ – Р.Я. МАЛИНОВСКИЙ (2-Й УКРАИНСКИЙ ФРОНТ), Ф.И. ТОЛБУХИН (3-Й УКРАИНСКИЙ ФРОНТ)
- ОСВОБОЖДЕНИЕ БУДАПЕШТА ОТ НЕМЕЦКО-ФАШИСТСКИХ ВОЙСК – Р.Я. МАЛИНОВСКИЙ
- КУРСКАЯ БИТВА – К.К. РОКОССОВСКИЙ
- БИТВА ЗА БЕРЛИН – И.С. КОНЕВ
- ОПЕРАЦИЯ «БАГРАТИОН» – И.Д. ЧЕРНЯХОВСКИЙ
- КОРСУНЬ-ШЕВЧЕНКОВСКАЯ ОПЕРАЦИЯ – Н.Ф. ВАТУТИН (1-Й УКРАИНСКИЙ ФРОНТ), И.С. КОНЕВ (2-Й УКРАИНСКИЙ ФРОНТ)
- ОСВОБОЖДЕНИЕ МИНСКА – И.Д. ЧЕРНЯХОВСКИЙ
- ОСВОБОЖДЕНИЕ КИЕВА – Н.Ф. ВАТУТИН
- КРЫМСКАЯ НАСТУПАТЕЛЬНАЯ ОПЕРАЦИЯ – Ф.И. ТОЛБУХИН
- НАЧАЛЬНИК ГЕНЕРАЛЬНОГО ШТАБА В ПЕРИОД БИТВЫ ЗА МОСКВУ – Б.М. ШАПОШНИКОВ
- ВЗЯТИЕ КЕНИГСБЕРГА – А.М. ВАСИЛЕВСКИЙ
- МАНЬЧЖУРСКАЯ ОПЕРАЦИЯ – А.М. ВАСИЛЕВСКИЙ
- ВОСТОЧНО-ПРУССКАЯ ОПЕРАЦИЯ – И.Д. ЧЕРНЯХОВСКИЙ
- ЗАВЕРШЕНИЕ ОПЕРАЦИИ «КОЛЬЦО» - К.К. РОКОССОВСКИЙ
- НАЧАЛО БЕЛОРУССКОЙ НАСТУПАТЕЛЬНОЙ ОПЕРАЦИИ – Г.К. ЖУКОВ
- КАРПАТСКИЙ ПАРТИЗАНСКИЙ РЕЙД – С.А. КОВПАК
- ОБОРОНИТЕЛЬНЫЕ БОИ НА ЗАПАДНОМ ФРОНТЕ – Д.Г. ПАВЛОВ


БИТВА ЗА МОСКВУ (30 СЕНТЯБРЯ 1941 – 20 АПРЕЛЯ 1942)



ДЕЛИТСЯ НА ДВА ПЕРИОДА:

- **ОБОРОНИТЕЛЬНЫЙ** (30 СЕНТЯБРЯ — 5 ДЕКАБРЯ 1941 ГОДА)
- **НАСТУПАТЕЛЬНЫЙ**, КОТОРЫЙ СОСТОИТ ИЗ ДВУХ ЭТАПОВ: КОНТРНАСТУПЛЕНИЯ (5 ДЕКАБРЯ 1941 ГОДА — 7 ЯНВАРЯ 1942 ГОДА) И НАСТУПЛЕНИЯ СОВЕТСКИХ ВОЙСК (7 ЯНВАРЯ — 20 АПРЕЛЯ 1942 ГОДА).
- **ФРОНТЫ:**
- **ЗАПАДНЫЙ** (11 СЕНТЯБРЯ – 10 ОКТЯБРЯ, ГЕНЕРАЛ-ПОЛКОВНИК **И.С. КОНЕВ**; 12 ОКТЯБРЯ 1941 – 26 АВГУСТА 1942 – ГЕНЕРАЛ АРМИИ **Г.К. ЖУКОВ**)
- **КАЛИНИНСКИЙ** (17 ОКТЯБРЯ 1941 – АВГУСТ 1942, ГЕНЕРАЛ-ПОЛКОВНИК **И. С. КОНЕВ**)
- **РЕЗЕРВНЫЙ** (МАРШАЛ **С.М. БУДЕННЫЙ**)
- **БРЯНСКИЙ** (ГЕНЕРАЛ-ПОЛКОВНИК **А.И. ЕРЕМЕНКО**)
- **ПРАВОЕ КРЫЛО ЮГО-ЗАПАДНОГО ФРОНТА** ГЕНЕРАЛ-ПОЛКОВНИК **М.П. КИРПОНОС** – ПОГИБ В СЕНТЯБРЕ 1941 г.; ПОСЛЕ – **С.К. ТИМОШЕНКО**)

БЕЖК



ВОЛОКОЛАМСКОЕ ШОССЕ



**Иван Васильевич
Панфилов
(1892 – 18 ноября
1941)**




**Лев Михайлович
Доватор
(1903 – 19
декабря 1941)**

- **ЗДЕСЬ САМООТВЕРЖЕННО СРАЖАЛИСЬ ВОЙСКА СОВЕТСКОЙ 16-Й АРМИИ К. РОКОССОВСКОГО:**
 - **316-Я СТРЕЛКОВАЯ ДИВИЗИЯ ГЕНЕРАЛ-МАЙОРА И. В. ПАНФИЛОВА,**
 - **ОТДЕЛЬНЫЙ КУРСАНТСКИЙ ПОЛК УЧИЛИЩА ИМЕНИ ВЕРХОВНОГО СОВЕТА РСФСР ПОЛКОВНИКА С. И. МЛАДЕНЦЕВА,**
 - **78-Я СТРЕЛКОВАЯ ДИВИЗИЯ ГЕНЕРАЛ-МАЙОРА А. П. БЕЛОБОРОДОВА,**
 - **2-Й ГВАРДЕЙСКИЙ КАВАЛЕРИЙСКИЙ КОРПУС ГЕНЕРАЛ-МАЙОРА Л. М. ДОВАТОРА,**
 - **1-Я ГВАРДЕЙСКАЯ ТАНКОВАЯ БРИГАДА ПОЛКОВНИКА М. Е. КАТУКОВА.**

СТАЛИНГРАДСКАЯ БИТВА. ОПЕРАЦИЯ «УРАН»

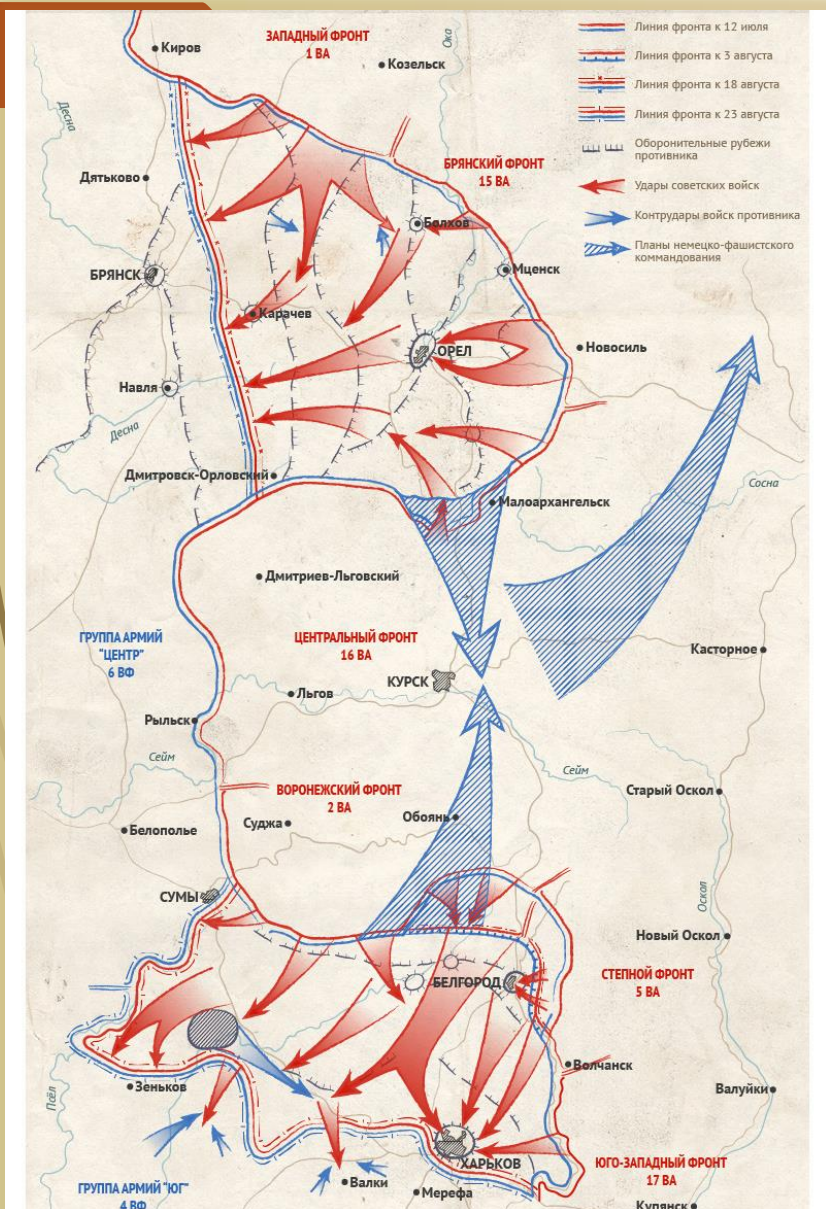


- ▶ ТРИ ФРОНТА:
- ▶ ЮГО-ЗАПАДНЫЙ (ГЕНЕРАЛ Н. Ф. ВАТУТИН)
- ▶ СТАЛИНГРАДСКИЙ (ГЕНЕРАЛ А. И. ЕРЁМЕНКО)
- ▶ ДОНСКОЙ (ГЕНЕРАЛ К. К. РОКОССОВСКИЙ)
- ▶ КООРДИНИРОВАНИЕ ДЕЙСТВИЙ ТРЁХ ФРОНТОВ ОСУЩЕСТВЛЯЛ НАЧАЛЬНИК ГЕНЕРАЛЬНОГО ШТАБА А. М. ВАСИЛЕВСКИЙ.



ВЕР


КУРСКАЯ БИТВА (5 ИЮЛЯ – 23 АВГУСТА 1943)



ТРИ ФРОНТА:

- **ЦЕНТРАЛЬНЫЙ ФРОНТ - К.К. РОКОССОВСКИЙ;**
- **ВОРОНЕЖСКИЙ ФРОНТ - Н.Ф. ВАТУТИН;**
- **СТЕПНОЙ ФРОНТ - И.С. КОНЕВ.**

ВРК



БИТВА ЗА ДНЕПР (25 АВГУСТА – 23 ДЕКАБРЯ 1943)



БЕЛОРУССКИЙ + 4 УКРАИНСКИХ

Р + ВКМТ

- ▶ ЗАДЕЙСТВОВАНО ПЯТЬ ФРОНТОВ:
- ▶ ЦЕНТРАЛЬНЫЙ ФРОНТ (20 ОКТЯБРЯ ПЕРЕИМЕНОВАН В БЕЛОРУССКИЙ ФРОНТ) ГЕНЕРАЛ АРМИИ К.К. РОКОССОВСКИЙ (20 ОКТЯБРЯ 1943 — 24 ФЕВРАЛЯ 1944, 5 — 16 АПРЕЛЯ 1944).
- ▶ ВОРОНЕЖСКИЙ ФРОНТ (20 ОКТЯБРЯ ПЕРЕИМЕНОВАН В 1-Й УКРАИНСКИЙ ФРОНТ) (ГЕНЕРАЛ АРМИИ Н.Ф. ВАТУТИН)
- ▶ СТЕПНОЙ ФРОНТ (20 ОКТЯБРЯ ПЕРЕИМЕНОВАН В 2-Й УКРАИНСКИЙ ФРОНТ) (ГЕНЕРАЛ АРМИИ И.С. КОНЕВ, 20 ОКТЯБРЯ 1943 - 21 МАЯ 1944)
- ▶ ЮГО-ЗАПАДНЫЙ ФРОНТ (20 ОКТЯБРЯ ПЕРЕИМЕНОВАН В 3-Й УКРАИНСКИЙ ФРОНТ) ГЕНЕРАЛ АРМИИ Р.Я. МАЛИНОВСКИЙ, 20 ОКТЯБРЯ 1943 - 15 МАЯ 1944)
- ▶ ЮЖНЫЙ ФРОНТ (20 ОКТЯБРЯ ПЕРЕИМЕНОВАН В 4-Й УКРАИНСКИЙ ФРОНТ) (ГЕНЕРАЛ АРМИИ Ф.И. ТОЛБУХИН, 20 ОКТЯБРЯ 1943 - 15 МАЯ 1944)



ОБОРОНА ЛЕНИНГРАДА (8 СЕНТЯБРЯ 1941 – 27 ЯНВАРЯ 1944)



- КОМАНДУЮЩИЕ ЛЕНИНГРАДСКИМ ФРОНТОМ:
- 5-14 СЕНТЯБРЯ 1941 - МАРШАЛ СОВЕТСКОГО СОЮЗА **К.Е. ВОРОШИЛОВ**
- 14 СЕНТЯБРЯ - 10 ОКТЯБРЯ 1941 - ГЕНЕРАЛ АРМИИ **Г.К. ЖУКОВ**
- 10-26 ОКТЯБРЯ 1941 - ГЕНЕРАЛ-МАЙОР **И.И. ФЕДЮНИНСКИЙ**
- 27 ОКТЯБРЯ 1941 - 9 ИЮНЯ 1942 - ГЕНЕРАЛ-ЛЕЙТЕНАНТ **М.С. ХОЗИН**
- 10 ИЮНЯ 1942 - 24 ИЮЛЯ 1945 - ГЕНЕРАЛ-ЛЕЙТЕНАНТ АРТИЛЛЕРИИ, С 15 ЯНВАРЯ 1943 ГЕНЕРАЛ-ПОЛКОВНИК, С 17 НОЯБРЯ 1943 ГЕНЕРАЛ АРМИИ, С 18 ИЮНЯ 1944 МАРШАЛ СОВЕТСКОГО СОЮЗА **А.А. ГОВОРОВ.**
- КОМАНДУЮЩИЙ ВОЛХОВСКИМ ФРОНТОМ: ГЕНЕРАЛ АРМИИ **К.А. МЕРЕЦКОВ**

ЗАДАНИЕ 5. УСТАНОВИТЕ СООТВЕТСТВИЕ МЕЖДУ СОБЫТИЯМИ (ЯВЛЕНИЯМИ, ПРОЦЕССАМИ) И ИХ УЧАСТНИКАМИ: К КАЖДОЙ ПОЗИЦИИ ПЕРВОГО СТОЛБЦА ПОДБЕРИТЕ СООТВЕТСТВУЮЩУЮ ПОЗИЦИЮ ИЗ ВТОРОГО СТОЛБЦА

Установите соответствие между событиями (явлениями, процессами) и участниками этих событий (явлений, процессов): к каждой позиции первого столбца подберите соответствующую позицию из второго столбца.

СОБЫТИЯ (ЯВЛЕНИЯ, ПРОЦЕССЫ)	УЧАСТНИКИ
А) битва за Берлин	1) В.А. Корнилов
Б) Гражданская война в России	2) П.А. Столыпин
В) Крымская война	3) А.В. Колчак
Г) Смутное время в России	4) В.И. Шуйский
	5) Б.И. Морозов
	6) М.В. Кантария

Запишите в таблицу выбранные цифры под соответствующими буквами.

Ответ:	А	Б	В	Г

БЕРЛИНСКАЯ ОПЕРАЦИЯ (16 АПРЕЛЯ – 8 МАЯ 1945)



- 1-Й БЕЛОРУССКИЙ ФРОНТ (МАРШАЛ Г.К. ЖУКОВ)
- 2-Й БЕЛОРУССКИЙ ФРОНТ (МАРШАЛ К.К. РОКОССОВСКИЙ)
- 1-Й УКРАИНСКИЙ ФРОНТ (МАРШАЛ И.С. КОНЕВ)
- 18-Я ВОЗДУШНАЯ АРМИЯ (ГЛАВНЫЙ МАРШАЛ АВИАЦИИ А. Е. ГОЛОВАНОВ)
- ДНЕПРОВСКАЯ ВОЕННАЯ ФЛОТИЛИЯ (КОНТР-АДМИРАЛ В. В. ГРИГОРЬЕВ)
- КРАСНОЗНАМЁННЫЙ БАЛТИЙСКИЙ ФЛОТ (АДМИРАЛ В. Ф. ТРИБУЦ)

ЖРК

ЗАДАНИЕ 5. УСТАНОВИТЕ СООТВЕТСТВИЕ: ФРОНТ – КОМАНДУЮЩИЙ ФРОНТОМ

ФРОНТ	КОМАНДУЮЩИЙ ФРОНТОМ
А. СТЕПНОЙ	1. Л.А. ГОВОРОВ
Б. ВОЛХОВСКИЙ	2. К.К. РОКОССОВСКИЙ
В. ЦЕНТРАЛЬНЫЙ	3. Н.Ф. ВАТУТИН
Г. ВОРОНЕЖСКИЙ	4. К.А. МЕРЕЦКОВ
Д. ЛЕНИНГРАДСКИЙ	5. И.С. КОНЕВ

ЗАДАНИЕ 7. УСТАНОВИТЕ СООТВЕТСТВИЕ МЕЖДУ ПАМЯТНИКАМИ КУЛЬТУРЫ И ИХ КРАТКИМИ ХАРАКТЕРИСТИКАМИ: К КАЖДОЙ ПОЗИЦИИ ПЕРВОГО СТОЛБЦА ПОДБЕРИТЕ СООТВЕТСТВУЮЩУЮ ПОЗИЦИЮ ИЗ ВТОРОГО СТОЛБЦА.

- А) «ЗАДОНЩИНА»
- Б) КИНОФИЛЬМ «ЛЕТЯТ ЖУРАВЛИ»
- В) «ПОВЕСТЬ О ЕРШЕ ЕРШОВИЧЕ, СЫНЕ ЩЕТИННИКОВЕ»
- Г) КАРТИНА «УТРО СТРЕЛЕЦКОЙ КАЗНИ»

- 1) АВТОР – И.Е. РЕПИН
- 2) ДАННЫЙ ПАМЯТНИКИ КУЛЬТУРЫ СОЗДАН В ПЕРИОД РУКОВОДСТВА СТРАНОЙ Л.И. БРЕЖНЕВА
- 3) ДАННЫЙ ПАМЯТНИКИ КУЛЬТУРЫ СОЗДАН В ПЕРИОД РУКОВОДСТВА СТРАНОЙ Н.С. ХРУЩЕВА
- 4) ДАННЫЙ ПАМЯТНИКИ КУЛЬТУРЫ СОЗДАН В XVII ВЕКЕ
- 5) АВТОР – В.И. СУРИКОВ
- 6) ДАННЫЙ ПАМЯТНИКИ КУЛЬТУРЫ ПОСВЯЩЕН СОБЫТИЯМ XIV ВЕКА

А	Б	В	Г

ЗАДАНИЕ 7. ПАМЯТНИК КУЛЬТУРЫ... СООТВЕТСТВИЕ


- РОМАН, ПОВЕСТЬ, РАССКАЗ
- СТИХОТВОРЕНИЕ, ПОЭМА
- КИНОФИЛЬМ
- КАРТИНА
- ПЕСНЯ
- СКУЛЬПТУРНЫЙ ПАМЯТНИК
- АРХИТЕКТУРНЫЙ ПАМЯТНИК



- КРАТКАЯ ХАРАКТЕРИСТИКА
- АВТОР
- ДАТА (ПЕРИОД СОЗДАНИЯ)
- МЕСТО
- ГЕРОЙ
- СЮЖЕТ



ПРОЗА, ПОЭЗИЯ



А



Б



В



Г



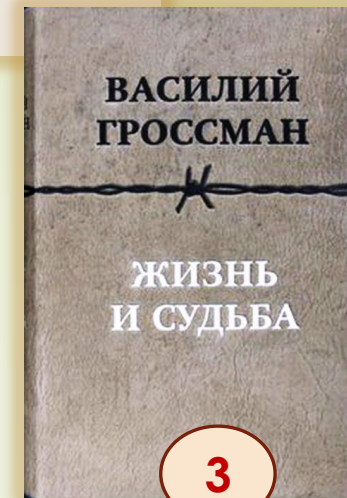
Д




1



2



3



4



5

МУЗЫКА (ПЕСНИ, СИМФОНИИ)

МУЗЫКА	АВТОР
«СВЯЩЕННАЯ ВОЙНА»	А.Г. НОВИКОВ
«МОЯ МОСКВА» («ДОРОГАЯ МОЯ СТОЛИЦА»)	Д.Д. ШОСТАКОВИЧ
«СЕДЬМАЯ СИМФОНИЯ»	И.О. ДУНАЕВСКИЙ
«ТЕМНАЯ НОЧЬ»	А.А. АЛЕКСАНДРОВ
«ЭХ, ДОРОГИ»	Н.В. БОГОСЛОВСКИЙ

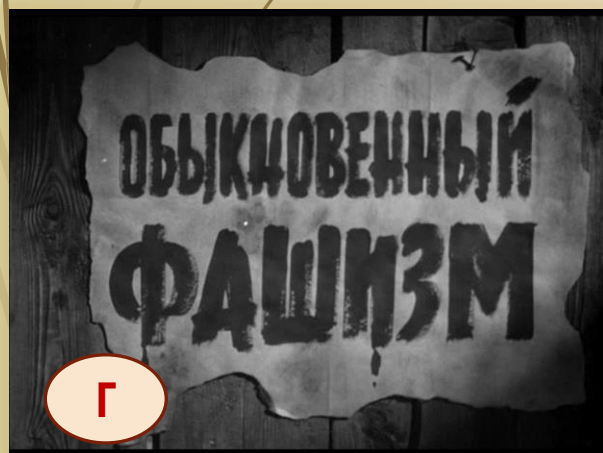




ФИЛЬМ - КИНОРЕЖИССЕР



- 1. МИХАИЛ РОММ
- 2. СТАНИСЛАВ РОСТОЦКИЙ
- 3. СЕРГЕЙ БОНДАРЧУК
- 4. МИХАИЛ КОЛАТОЗОВ
- 5. ЛЕОНИД БЫКОВ



КАРТИНА - АВТОР



- 1. КОНСТАНТИН ЮОН
- 2. АЛЕКСАНДР ДЕЙНЕКА
- 3. АРКАДИЙ ПЛАСТОВ
- 4. СЕРГЕЙ ГЕРАСИМОВ
- 5. КУКРЫНИКСЫ

ПАМЯТНИК - ГОРОД



ЗАДАНИЕ 8. РАССМОТРИТЕ ИЗОБРАЖЕНИЕ И ВЫПОЛНИТЕ ЗАДАНИЕ



- ЗАПОЛНИТЕ ПРОПУСК В ПРЕДЛОЖЕНИИ:
«СОБЫТИЕ, ЮБИЛЕЮ КОТОРОГО ПОСВЯЩЕНА
МАРКА, ПРОИЗОШЛО В ТЫСЯЧА ДЕВЯТЬСОТ
_____ ГОДУ».

ОТВЕТ ЗАПИШИТЕ СЛОВОМ
(СЛОВСОЧЕТАНИЕМ СЛОВ).

- ОТВЕТ: _____.





? месяц



? дата

?
ГОД



10К 1984

ПОЧТА СССР

ОРУЖИЕ ПОБЕДЫ



Т-34 - СРЕДНИЙ ТАНК

?
конструктор

С ПРАЗДНИКОМ ПОБЕДЫ!




Белгород. Музей-диорама "Курская битва". Фрагмент.

РОССИЯ ROSSIA

?
Дата

10 руб.



4
ПОЧТА СССР



? Год
разгрома

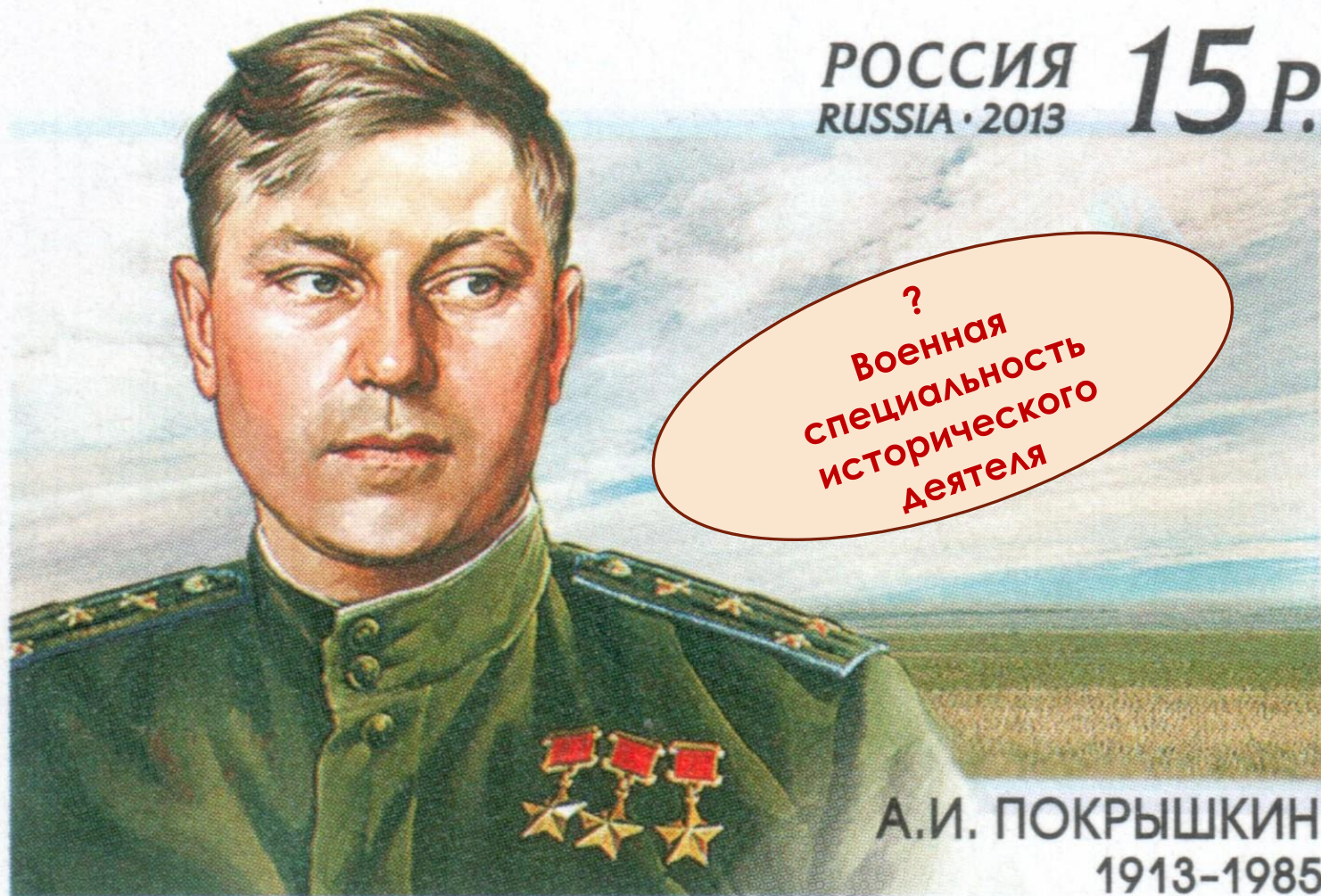
30-ЛЕТИЕ РАЗГРОМА ФАШИСТСКИХ
ВОЙСК ПОД ЛЕНИНГРАДОМ



?
Месяц

РОССИЯ
RUSSIA • 2013

15 P.



?
Военная
специальность
исторического
деятели

А.И. ПОКРЫШКИН
1913-1985



?
Месяц
завершения
битвы

ВЕЛИКАЯ ОТЕЧЕСТВЕННАЯ ВОЙНА 1941-1945г.г.



ОБОРОНА
ОДЕССЫ

?
Год



4 коп.

ПОЧТА СССР 1961



?
Битва

**УКАЖИТЕ НАЗВАНИЕ БИТВЫ, В ПАМЯТЬ О КОТОРОЙ СОЗДАН
МЕМОРИАЛЬНЫЙ ПАМЯТНИК,
НАЗВАННЫЙ НА ПОЧТОВОМ КОНВЕРТЕ.**



40 - ЛЕТИЕ ОСВОБОЖДЕНИЯ
ГГ. ОРЛА, БЕЛГОРОДА
ОТ ФАШИСТСКИХ ЗАХВАТЧИКОВ
В ВЕЛИКОЙ ОТЕЧЕСТВЕННОЙ
ВОЙНЕ



СС  СР

40 ЛЕТИЕ ОСВОБОЖДЕНИЯ
ГОРОДА
ОРЛА
ОТ ФАШИСТСКИХ
ЗАХВАТЧИКОВ




?
Месяц


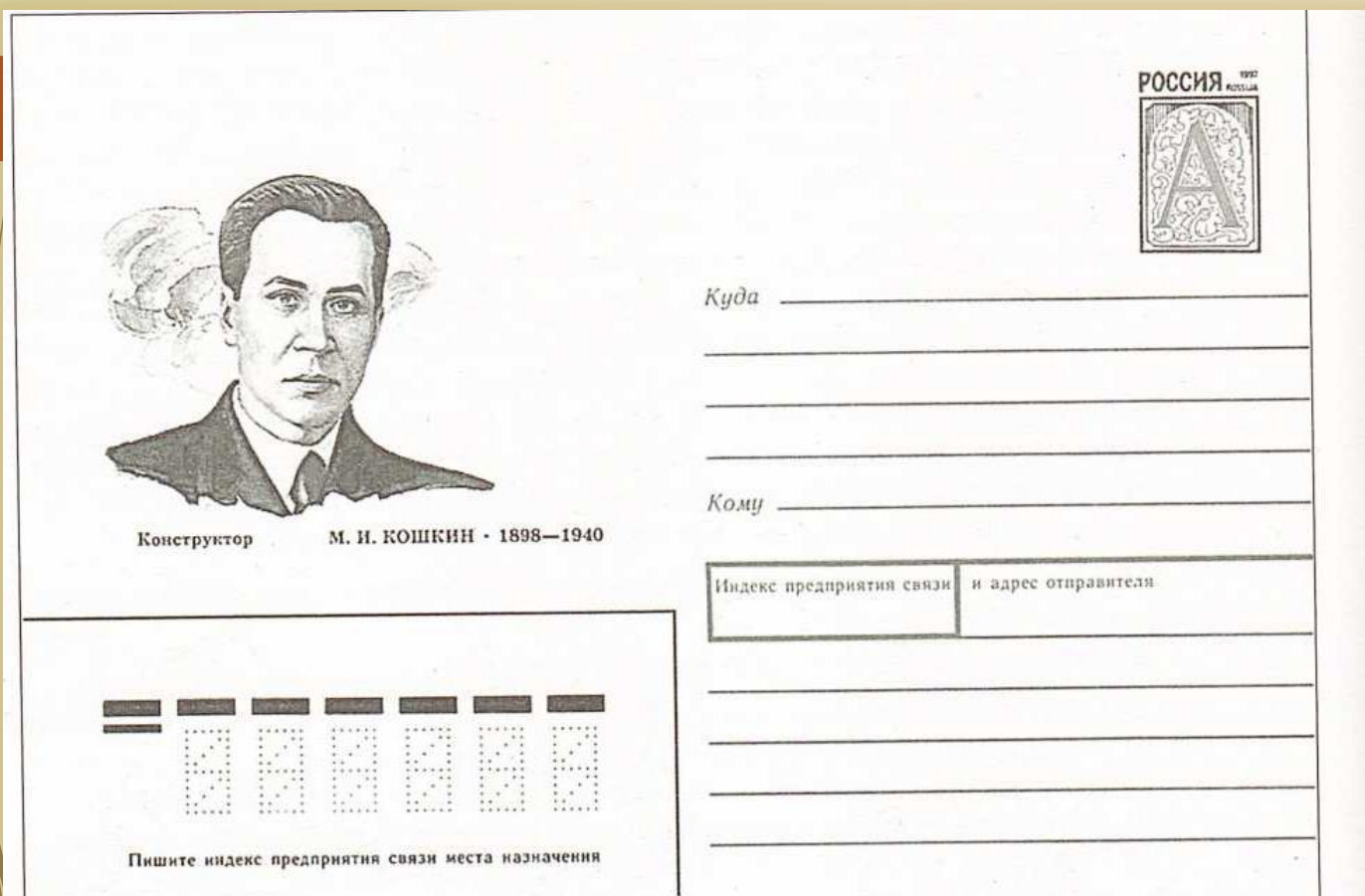
Куда _____

Кому _____

Индекс предприятия связи
и адрес отправителя



Индекс предприятия связи места назначения



**УКАЖИТЕ ВИД ВООРУЖЕНИЯ, СОЗДАТЕЛЕМ КОТОРОГО
БЫЛ ИЗОБРАЖЕННЫЙ НА КОНВЕРТЕ КОНСТРУКТОР**




Герой Социалистического Труда
генерал-майор инженерно-артиллерийской службы
В. А. ДЕГТЯРЕВ
1880—1949



Куда _____

Кому _____

Индекс предприятия связи
и адрес отправителя




Индекс предприятия связи места назначения

**Укажите вид вооружения,
создателем которого был этот человек.**



**Укажите военную профессию исторического деятеля,
в память о котором выпущен данный значок**

ЗАДАНИЕ 8. РАССМОТРИТЕ ИЗОБРАЖЕНИЯ И ВЫПОЛНИТЕ ЗАДАНИЯ



- ▶ ЗАПОЛНИТЕ ПРОПУСК В ПРЕДЛОЖЕНИИ: «СОБЫТИЕ, ЮБИЛЕЮ КОТОРОГО ПОСВЯЩЕНА ПАМЯТНАЯ МЕДАЛЬ, ПРОИЗОШЛО В ТЫСЯЧА ДЕВЯТЬСОТ _____ ГОДУ». ОТВЕТ ЗАПИШИТЕ СЛОВИЦАМИ (СЛОВСОЧЕТАНИЕМ СЛОВ).

- ▶ ОТВЕТ: _____.



? Название битвы

ЗАДАНИЕ 8.



ЗАДАНИЕ 8. РАССМОТРИТЕ ИЗОБРАЖЕНИЕ И ВЫПОЛНИТЕ ЗАДАНИЕ.



➤ УКАЖИТЕ ФАМИЛИЮ КОНСТРУКТОРА ОРУЖИЯ, ИЗОБРАЖЕННОГО НА ДАННОМ ЖЕТОНЕ.

➤ ОТВЕТ: _____.

ЗАДАНИЕ 8. РАССМОТРИТЕ ИЗОБРАЖЕНИЕ И ВЫПОЛНИТЕ ЗАДАНИЕ



► **УКАЖИТЕ ФАМИЛИЮ
КОНСТРУКТОРА САМОЛЕТА**

_____.

СЕРИЯ МОНЕТ «ОРУЖИЕ ВЕЛИКОЙ ПОБЕДЫ»

Авиация (В.М. Петляков, Н.Н. Поликарпов, С.В. Ильюшин, С.А. Лавочкин, А.Н. Туполев, А.С. Яковлев)



СЕРИЯ МОНЕТ «ОРУЖИЕ ВЕЛИКОЙ ПОБЕДЫ»

Артиллерия и танки (В.Г. Грабин, Ж.Я. Котин, М.И. Кошкин, Ф.Ф. Петров, П.М. Горюнов, М.Н. Логинов)



СЕРИЯ МОНЕТ «ОРУЖИЕ ВЕЛИКОЙ ПОБЕДЫ»

Стрелковое оружие (С.Г. Симонов, Г.С. Шпагин, А.И. Судаев, Ф.В. Токарев)



СЕРИЯ МОНЕТ «ОРУЖИЕ ВЕЛИКОЙ ПОБЕДЫ».

Морской флот (Л.Л. Ермаш, А.И. Маслов,
Б.М. Малинин,)





ЗАДАНИЕ 8. РАССМОТРИТЕ ИЗОБРАЖЕНИЕ И ВЫПОЛНИТЕ ЗАДАНИЕ.



► ЗАПОЛНИТЕ ПРОПУСК В ПРЕДЛОЖЕНИИ: «ИЗОБРАЖЕННЫЕ НА ПАМЯТНОЙ МОНЕТЕ БОЕВЫЕ МАШИНЫ ВПЕРВЫЕ НАНЕСЛИ УДАР ПО ВРАГУ В _____ ГОДУ. ОТВЕТ ЗАПИШИТЕ СЛОВОМ (СЛОВСОЧЕТАНИЕМ СЛОВ).

ГОРОДА-ГЕРОИ СССР



Город-герой	Дата Указа Президиума Верховного Совета СССР
БРЕСТСКАЯ КРЕПОСТЬ	8 мая 1965 г.
ВОЛГОГРАД	8 мая 1965 г.
КЕРЧЬ	14 сентября 1973 г.
КИЕВ	8 мая 1965 г.
ЛЕНИНГРАД	8 мая 1965 г.
МИНСК	26 июня 1974 г.
МОСКВА	8 мая 1965 г.
МУРМАНСК	6 мая 1985 г.
НОВОРОССИЙСК	14 сентября 1973 г.
ОДЕССА	8 мая 1965 г.
СЕВАСТОПОЛЬ	8 мая 1965 г.
СМОЛЕНСК	6 мая 1985 г.
ТУЛА	7 декабря 1976 г.

ЗАВОЕВАНИЕ ГЕРМАНИЕЙ СТРАН ЕВРОПЫ. СОПРОТИВЛЕНИЕ АГРЕССОРУ В СССР

Европа		СССР, города СССР	
ПОЛЬША	36 дней	СССР	1418 дней
ДАНИЯ	6 часов	БРЕСТСКАЯ КРЕПОСТЬ	29 дней
НОРВЕГИЯ	32 дня	СМОЛЕНСК	63 дня
БЕЛЬГИЯ	8 дней	КИЕВ	82 дня
ГОЛЛАНДИЯ	6 дней	ОДЕССА	73 дня
ЛЮКСЕМБУРГ	1 день	ЛЕНИНГРАД	872 дня
ФРАНЦИЯ	43 дня	СЕВАСТОПОЛЬ	250 дней
ГРЕЦИЯ	24 дня	ДОМ ПАВЛОВА В СТАЛИНГРАДЕ	58 дней
ЮГОСЛАВИЯ	12 дней		

МЕМОРИАЛ «МУЖЕСТВО». БРЕСТСКАЯ КРЕПОСТЬ





ЛЕНИНГРАД



ЛЕНИНГРАДСКОМУ ГОРОДУ
ЗАЩИТНИКАМ КОТОРЫЕ
УМЕРЛИ ЗА СВОЮ
ОТЕЧЕСТВЕННУЮ ВОЙНУ

ПОДВИГ ЛЕНИНГРАДА



Михаил Аникушин. Монумент героическим защитникам Ленинграда на площади Победы, Санкт-Петербург, 1975



Пискаревское мемориальное кладбище. Мать-Родина. 1960.

ЗДЕСЬ ЛЕЖАТ ЛЕНИНГРАДЦЫ.
ЗДЕСЬ ГОРОЖАНЕ МУЖЧИНЫ, ЖЕНЩИНЫ, ДЕТИ.
РЯДОМ С НИМИ СОЛДАТЫ-КРАСНОАРМЕЙЦЫ.
ВСЕЮ ЖИЗНЬЮ СВОЕЮ
ОНИ ЗАЩИЩАЛИ ТЕБЯ, ЛЕНИНГРАД,
КОЛЫБЕЛЬ РЕВОЛЮЦИИ.
ИХ ИМЕН БАГРОДНЫХ МЫ ЗДЕСЬ ПЕРЕЧИСЛИТЬ НЕ СМОЖЕМ,
ТАК ИХ МНОГО ПОД ВЕЧНОЙ ОХРАНОЙ ГРАНИТА
НО ЗНАЙ, ВНИМАЮЩИЙ ЭТИМ КАМНЯМ
НИКТО НЕ ЗАБЫТ И НИЧТО НЕ ЗАБЫТО.

22 ДЕКАБРЯ 1942 г. УЧРЕЖДЕНА МЕДАЛЬ «ЗА ОБОРОНУ ЛЕНИНГРАДА» (ХУДОЖНИК Н.И. МОСКАЛЁВ)

ОФИЦИАЛЬНОЕ ЗВАНИЕ «ГОРОД-ГЕРОЙ» ПРИСВОЕНО УКАЗОМ ПРЕЗИДИУМА ВЕРХОВНОГО СОВЕТА СССР ОТ 8 МАЯ 1965 г.





**ХАТЫНЬ.
НЕПОКОРЕННЫЙ
ЧЕЛОВЕК. 1969**

**Скульптор:
Сергей
Селиханов.
Архитекторы:
Юрий Градов,
Валентин
Занкович,
Леонид Левин**


БОЛГАРИЯ. ПЛОВДИВ



**СЕРИЯ «ГОРОДА-ГЕРОИ
РОССИИ». 2000**



МОНЕТЫ УКРАИНЫ




ЗАДАНИЕ 8. РАССМОТРИТЕ ИЗОБРАЖЕНИЕ И ВЫПОЛНИТЕ ЗАДАНИЕ.



- ▶ ЗАПОЛНИТЕ ПРОПУСК В ПРЕДЛОЖЕНИИ «ДАННОЙ МЕДАЛЬЮ НАГРАЖДАЛИСЬ УЧАСТНИКИ СОБЫТИЙ, ПРОИЗОШЕДШИХ В ТЫСЯЧА ДЕВЯТЬСОТ _____ ГОДУ. ОТВЕТ ЗАПИШИТЕ СЛОВОМ (СОЧЕТАНИЕМ СЛОВ).
- ▶ ОТВЕТ: _____.

РЕКОМЕНДУЕМАЯ ЛИТЕРАТУРА



МЕДАЛИ ЗА ОБОРОНУ СОВЕТСКИХ ГОРОДОВ И РЕГИОНОВ



За оборону Москвы.
Утверждена 1 мая 1944 г.



За оборону Одессы. Утверждена
22 декабря 1942 г.



За оборону Севастополя.
Утверждена 22 декабря 1942 г.



За оборону Сталинграда.
Учреждена 22 декабря 1942 г.



За оборону Ленинграда.
Учреждена 22 декабря 1942 г.



За оборону Кавказа.
Учреждена 1 мая 1944 г.



За оборону Советского Заполярья.
Учреждена 5 декабря 1944 г.



За оборону Киева. Утверждена
21 июня 1961 г.

ОБОРОНА СОВЕТСКИХ ГОРОДОВ И РЕГИОНОВ

**ВЕЛИКАЯ
ОТЕЧЕСТВЕННАЯ
ВОЙНА**

1418 ДНЕЙ

**ОБОРОНА
КИЕВА**
(7 июля – 26
сентября 1941)

82 ДНЯ

**ОБОРОНА
МОСКВЫ**
(22 июля 1941 –
25 января 1942)

**ОБОРОНА
ОДЕССЫ**
(5 августа – 16
октября 1941)

73 ДНЯ

**ОБОРОНА
СЕВАСТОПОЛЯ**
(30 октября 1941
– 3 июля 1942)

250 ДНЕЙ

**ОБОРОНА
СТАЛИНГРАДА**
(17 июля – 18
ноября 1942)

**ОБОРОНА
ЛЕНИНГРАДА**
(сентябрь 1941
– январь 1944)

**ОБОРОНА
КАВКАЗА**
(июль 1942 –
октябрь 1943)

**ОБОРОНА
СОВЕТСКОГО
ЗАПОЛЯРЬЯ**
(июнь 1941 –
ноябрь 1944)

МЕДАЛИ ЗА ОСВОБОЖДЕНИЕ ГОРОДОВ



**За освобождение Белграда.
Учреждена 9 июня 1945 г.**



**За освобождение Варшавы.
Учреждена 9 июня 1945 г.**



**За освобождение Праги.
Учреждена 9 июня 1945 г.**

МЕДАЛИ ЗА ВЗЯТИЕ ГОРОДОВ



ДРУГИЕ МЕДАЛИ



ЗАДАНИЯ 9-12. ИСТОРИЧЕСКАЯ КАРТА



- **ЗАДАНИЕ 9.** ЗАПОЛНИТЕ ПРОПУСК В ПРЕДЛОЖЕНИИ «СОБЫТИЯ, ОБОЗНАЧЕННЫЕ НА КАРТЕ, ПРОИЗОШЛИ В _____ ГОДУ».

ОТВЕТ ЗАПИШИТЕ СЛОВОМ (СЛОВСОЧЕТАНИЕМ СЛОВ).

- **ЗАДАНИЕ 10.** УКАЖИТЕ НАЗВАНИЕ ГОРОДА, ОБОЗНАЧЕННОГО НА СХЕМЕ ЦИФРОЙ 2.

- **ЗАДАНИЕ 11.**

Прочтите текст о событиях, отражённых на схеме, и, используя схему, укажите название города, которое дважды пропущено в этом тексте.

«19 июля Степной фронт был введён в контрнаступление на Белгородско-Харьковском направлении. В ходе контрнаступления войска фронта преодолели глубоко эшелонированную оборону противника, овладели Белгородом и 23 августа взяли штурмом Харьков. Разгром немцев под Харьковом и Мерефой открыл войскам фронта путь на _____ и далее к Днепру. Перед войсками была поставлена задача нанести удар в направлении _____, выйти на среднее течение Днепра, форсировать его и обеспечить плацдармы для развёртывания сил на Правобережной Украине».

Ответ: _____

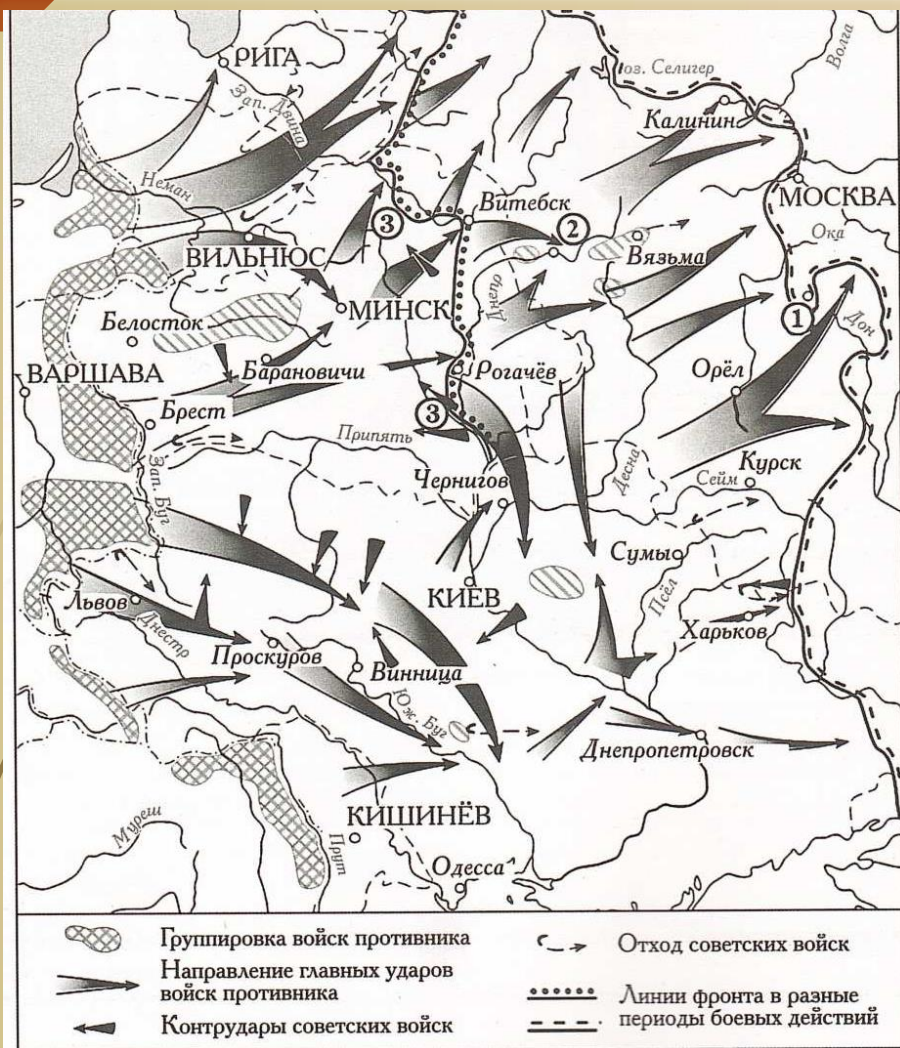
Какие суждения, относящиеся к схеме, являются верными? Запишите цифры, под которыми они указаны.

- **ЗАДАНИЕ 12.**

- 1) Обозначенное на схеме наступление противника с севера и юга в направлении города, отмеченного на схеме цифрой «2», началось в сентябре.
- 2) Участником событий, обозначенных на схеме, был К.К. Рокоссовский.
- 3) Город, обозначенный на схеме цифрой «1», был освобождён от фашистов в декабре.
- 4) На схеме обозначены города, в честь освобождения которых от фашистов в Москве был произведён первый победный салют с момента начала Великой Отечественной войны.
- 5) В ходе наступления советских войск, обозначенного на данной схеме, был освобождён город Смоленск.
- 6) На данной схеме обозначены действия советских войск в ходе операции «Уран».

Ответ: _____

ЗАДАНИЕ 9-12. РАССМОТРИТЕ СХЕМУ И ВЫПОЛНИТЕ ЗАДАНИЯ.



9. УКАЖИТЕ МЕСЯЦ, КОГДА КРАСНАЯ АРМИЯ ПЕРЕШЛА В КОНТРАНАСТУПЛЕНИЕ С МАКСИМАЛЬНОГО ПРОДВИЖЕНИЯ ВОЙСК ПРОТИВНИКА, ОБОЗНАЧЕННОЙ НА СХЕМЕ.

10. УКАЖИТЕ НАЗВАНИЕ ГОРОДА, ОБОЗНАЧЕННОГО НА СХЕМЕ ЦИФРОЙ 1.

11. Прочтите текст о событиях, отражённых на схеме, и, используя схему, укажите название города, которое трижды пропущено в этом тексте.

«Молниеносного штурма _____ у оккупантов не получилось: столица советской республики в устье Западной Двины оборонялась несколько дней. Вражеские войска захватили _____ 1 июля. Артобстрел был начат 29 июня, но ополчение отчаянно сопротивлялось. Впрочем, наступление врага оказалось настолько лавинообразным, масштабным и стремительным, что удержать столичный центр практически не было шансов. Тем не менее, вооружённые комсомольские подразделения под командованием Криша Годкална сделали всё возможное, чтобы воспрепятствовать стремительному захвату _____».

Ответ: _____.

12. Какие суждения, относящиеся к схеме, являются верными? Запишите цифры, под которыми они указаны.

- 1) На схеме обозначены «котлы» окружения, в которые попадали части Красной армии.
- 2) Линия фронта, обозначенная на схеме цифрой «3», образовалась к концу сентября.
- 3) Цифрой «2» на схеме обозначен г. Смоленск.
- 4) На схеме обозначен город, в котором находилась приграничная крепость, прославившаяся героизмом своих защитников в первые недели войны.
- 5) В период, когда начались события, обозначенные на схеме стрелками, существовало независимое государство Польша.
- 6) Участником обозначенных на схеме событий был Д.Г. Павлов.

ЗАДАНИЕ 9-12. РАССМОТРИТЕ СХЕМУ И ВЫПОЛНИТЕ ЗАДАНИЯ.



9

Напишите название, которое в период событий, изображённых на схеме, носил город, обозначенный цифрой «1».

10

Вставьте пропущенное словосочетание в следующем предложении: «Изображённые на схеме события положили начало _____ в Великой Отечественной войне, завершившемуся в ходе битвы за Днепр».

11

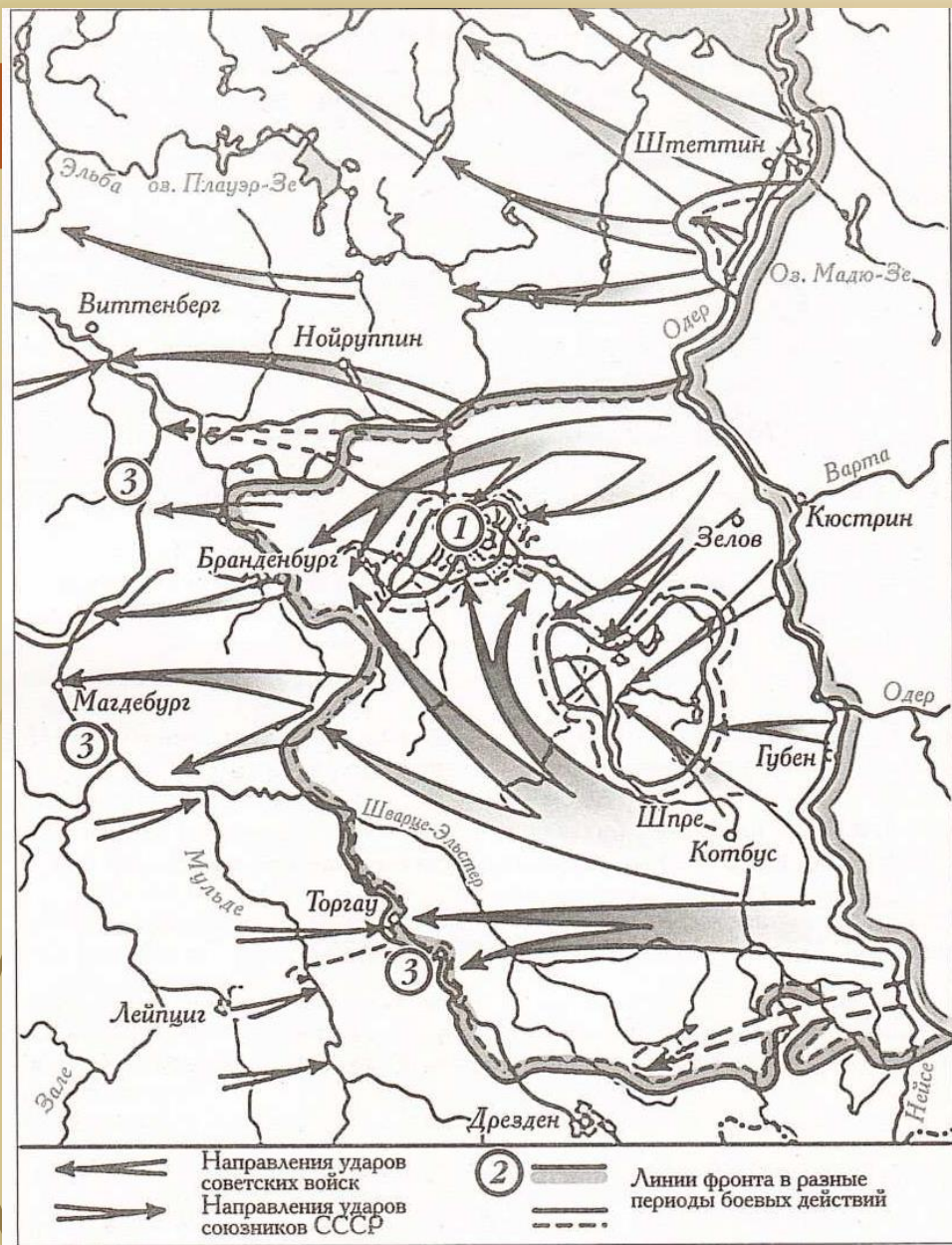
Прочтите текст о событиях, отражённых на схеме, и, используя схему, укажите название реки, которое пропущено в этом тексте.

«После битвы войска Юго-Западного и Южного фронта в феврале освободили восток Донбасса вместе с Ворошиловградом. Фронт установился по линии реки _____, русло которой находится недалеко от Ворошиловграда, а южнее — примерно по реке Миус до Таганрога. В течение лета бои за донбасский плацдарм не прекращались: вермахт превратил его в надёжный и укреплённый пункт».

12

Какие суждения, относящиеся к схеме, являются верными? Запишите цифры, под которыми они указаны.

- 1) Одним из двух обозначенных на схеме фронтов командовал Г.К. Жуков.
- 2) В ходе изображённых на схеме событий Красная армия осуществила операцию «Уран».
- 3) Уничтоженную фашистскую группировку, обозначенную на схеме цифрой «3», возглавлял фельдмаршал Ф. Паулюс.
- 4) В ходе обозначенных на схеме боевых действий советские войска освободили Миллерово.
- 5) Участником обозначенных на схеме боевых действий был В.В. Талалихин.
- 6) Цифрой «2» на схеме обозначено место соединения войск Юго-Западного и Сталинградского фронтов.



9 Укажите название месяца, когда началось наступление Красной армии с линии фронта, обозначенной в легенде схемы цифрой «2».

10 Укажите название города, обозначенного на схеме цифрой «1».

11 Прочтите отрывок из сочинения историка о событиях, отражённых на схеме, и, используя схему, укажите название реки, которое дважды пропущено в тексте.

«Захватив в апреле Лейпциг, 69-я американская дивизия продолжала двигаться к востоку, и наш 273-й полк 20 апреля подошёл к реке _____. Каждый солдат знал, что русские наступают в нашем направлении. Фашистская Германия должна была неизбежно потерпеть поражение.»

Но вот когда это произойдёт, и кто из нас доживёт до победы — это волновало каждого. Нам было приказано остановиться у реки _____ и не проводить никаких разведывательных операций к востоку от неё. Потом высшее командование разрешило выслать патрули к востоку от реки, но не далее, чем на 5 миль.

Вчетвером мы сели в «джип». На нём был установлен пулемёт, но ни ракетницы, ни радио не было. Мы проехали несколько миль на северо-восток. Это была именно та дорога, которая привела в Торгау и позволила нам стать вторым патрулём, который встретился с Красной Армией».

12 Какие суждения, относящиеся к схеме, являются верными? Запишите цифры, под которыми они указаны.

- 1) Военная операция, обозначенная на схеме стрелками, завершила Вторую мировую войну.
- 2) На схеме обозначены действия англо-американских войск.
- 3) Цифрой «3» на схеме трижды обозначена река Эльба.
- 4) В военной операции по взятию города, обозначенного на схеме цифрой «1», принимали участие войска 1-го и 2-го Белорусских фронтов, 1-го Украинского фронта.
- 5) В ходе событий, обозначенных на схеме стрелками, был освобождён Дрезден.
- 6) На схеме обозначены действия Красной армии в ходе операции «Кольцо».



9. УКАЖИТЕ НАЗВАНИЕ ГОРОДА, ОБОЗНАЧЕННОГО НА СХЕМЕ ЦИФРОЙ «1».

10. УКАЖИТЕ НАЗВАНИЕ ГОРОДА, ОБОЗНАЧЕННОГО НА СХЕМЕ ЦИФРОЙ «2», В РАЙОНЕ КОТОРОГО ПРОИЗОШЛО СОЕДИНЕНИЕ ВОЙСК ДВУХ ФРОНТОВ КРАСНОЙ АРМИИ.

11. УКАЖИТЕ НАЗВАНИЕ ПЕРИОДА В ХОДЕ ВОЙНЫ, НАЧАЛО КОТОРОМУ ПОЛОЖИЛИ СОБЫТИЯ, ОБОЗНАЧЕННЫЕ НА СХЕМЕ.

12. КАКИЕ СУЖДЕНИЯ, ОТНОСЯЩИЕСЯ К СХЕМЕ, ЯВЛЯЮТСЯ ВЕРНЫМИ? ВЫБЕРИТЕ ТРИ СУЖДЕНИЯ ИЗ ШЕСТИ ПРЕДЛОЖЕННЫХ.

1) НА СХЕМЕ ОБОЗНАЧЕНЫ БОЕВЫЕ ДЕЙСТВИЯ ДО КОНЦА 1943 Г.

2) СОБЫТИЯ, ОБОЗНАЧЕННЫЕ НА СХЕМЕ, ЯВИЛИСЬ ПЕРВЫМ НАСТУПЛЕНИЕМ КРАСНОЙ АРМИИ В ХОДЕ ВЕЛИКОЙ ОТЕЧЕСТВЕННОЙ ВОЙНЫ.

3) НА СХЕМЕ ОБОЗНАЧЕНЫ БОЕВЫЕ ДЕЙСТВИЯ КРАСНОЙ АРМИИ В ХОДЕ ОПЕРАЦИИ «УРАН».

4) УЧАСТНИКОМ СОБЫТИЙ, ОБОЗНАЧЕННЫХ НА СХЕМЕ, ЯВЛЯЛСЯ К.К.РОКОССОВСКИЙ.

5) В КОЛЬЦЕ ОКРУЖЕНИЯ, ОБОЗНАЧЕННОМ НА СХЕМЕ, ОКАЗАЛОСЬ БОЛЕЕ 2 МЛН НЕМЕЦКИХ СОЛДАТ.

6) СОБЫТИЯ, ОБОЗНАЧЕННЫЕ НА СХЕМЕ СТРЕЛКАМИ, НАЧАЛИСЬ В НОЯБРЕ 1942 Г.



➤ КАКИЕ НАСЕЛЕННЫЕ ПУНКТЫ ОБОЗНАЧЕНЫ НА СХЕМЕ ЦИФРАМИ 1, 2, 3 И 4?

- 1 – КУРСК.
- 2 - ПРОХОРОВКА.
- 3 - ОРЕЛ.
- 4 - БЕЛГОРОД. 5
- 5 – РЕКА ДНЕПР.

➤ СЛЕДОМ ЗА КУРСКОЙ БИТВОЙ НАЧАЛАСЬ БИТВА ЗА ДНЕПР. ГЛАВНЫМ ДОСТИЖЕНИЕМ БИТВЫ ЗА ДНЕПР СТАЛО ОСВОБОЖДЕНИЕ КИЕВА В НОЯБРЕ 1943 ГОДА.

➤ 7 - ЛИНИЯ ФРОНТА НА МОМЕНТ ЗАВЕРШЕНИЯ ЭТОЙ БИТВЫ В КОНЦЕ ДЕКАБРЯ 1943 ГОДА.

ЗАДАНИЕ 13-14

Из воспоминаний советского разведчика

«Находясь в Москве, мне было трудно понять, почему на Западном фронте Германии возникло состояние ни войны, ни мира, которое вошло в историю Второй мировой войны под названием "странная война".

В этой продолжавшейся несколько месяцев "странной войне" тогдашние мировые державы Великобритания и Франция, которые в экономическом отношении были сильнее, да и в военном отношении никак не слабее гитлеровской Германии, стояли, так сказать, с ружьём к ноге, при запрете стрелять, перед противником, которому им пришлось объявить войну. При этом, что касается численности войск и вооружения, французские и английские соединения имели огромный перевес, по крайней мере пока шла война против Польши, над противостоявшими им дивизиями Германии. Главные ударные силы военной машины фашистской Германии были брошены против Польши. Там находились почти все её военно-воздушные силы и почти все танковые соединения.

Конечно, такая "странная война" вполне устраивала гитлеровскую Германию. Её целью со стороны Англии и Франции было побудить Гитлера к тому, чтобы его агрессивная военная машина не останавливалась в Польше, а сразу же двинулась дальше, на Советский Союз. Как я понимал, этой "странной войной" Гитлеру хотели дать понять, что империалистические западные державы готовы простить ему прежние "грехи", если он хотя бы теперь начнёт войну против Советского Союза. Во всяком случае, было ясно, что после того как английские и французские организаторы Мюнхена продали германскому фашистскому империализму своего союзника — _____, они готовы пожертвовать также и Польшей.

Это становившееся всё более очевидным намерение, естественно, приходилось учитывать и Советскому Союзу в своей политике, направленной на обеспечение себе как можно более длительной мирной передышки. Ему было необходимо по возможности быстрее и всесторонне подготовиться к тому, чтобы успешно выдержать приближавшееся тяжёлое испытание».

13

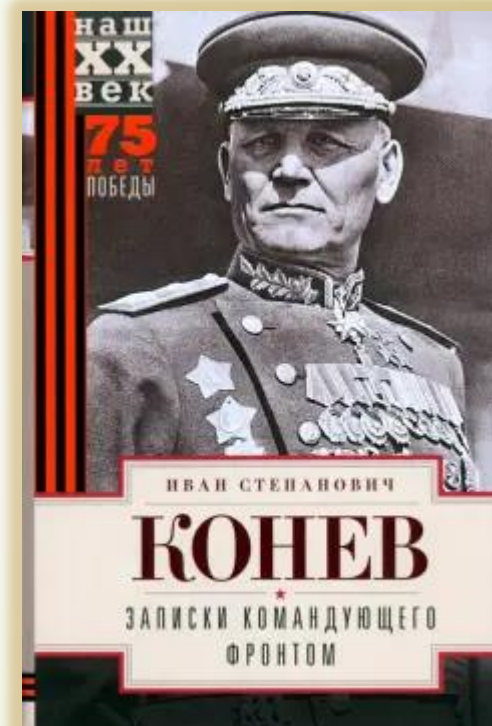

Укажите год начала «странной войны», о которой пишет автор. Назовите народно-го комиссара иностранных дел СССР в период этой войны. Укажите название государства, пропущенное в тексте.

14

В чём автор видит главную особенность «странной войны»? В чём, по мнению автора, состояла цель Англии и Франции в этой войне? Для чего, по мнению автора, Советскому Союзу была необходима «как можно более длительная мирная передышка»?

При ответе избегайте цитирования избыточного текста, не содержащего положений, которые должны быть приведены по условию задания.

РАБОТА С ИСТОЧНИКОМ



ЗАДАНИЕ 17. ПРОЧТИТЕ ОТРЫВКИ ИЗ ВОСПОМИНАНИЙ СОВРЕМЕННОК

А

«Предполагалось, что 2-я гвардейская бригада получит новые Т-34 из резерва Верховного Главнокомандования. А за неделю до наступления вдруг стало известно, что новых танков не будет...

Что делать? До наступления оставались считанные дни. Тут было над чем задуматься. Срок ничтожно мал, а танки... один без катков, у другого нет башни, третий с покалеченной трансмиссией, четвёртый нуждается в замене деталей двигателя... Казалось, перед ремонтниками стоит невыполнимая задача. Но Краснознамённый батальон (только в конце марта ему вручили орден Красного Знамени за героизм личного состава в период ремонта танков) с честью вышел из труднейшего положения. За сутки до начала операции «Багратион» танковая бригада была полностью укомплектована добротнo отремонтированными боевыми машинами!»

Б

«Немцы сопротивлялись упорно. В конце концов нам удалось заставить их сдаться. Они ползали на коленях, молили о пощаде, показывая фотокарточки своих «киндер», «маток». Дали нам некоторые сведения о паричской обороне. Тут мы поняли, почему они так упорно сопротивлялись: за их бугром плескалось... море, настоящее море. Даже пулемётчик Рябцев, парень местный, рот от удивления открыл... Оказалось, что гитлеровцы наскоро соорудили из брёвен и земли плотину на скалковской (в деревне Скалка) речушке, при её впадении в Березину. Речка вышла из берегов, затопив всю низменность»

1. УКАЖИТЕ ГОД, К КОТОРОМУ ОТНОСЯТСЯ ОБА СОБЫТИЯ.
2. УКАЖИТЕ ОДНО ЛЮБОЕ НАЗВАНИЕ ОСВОБОЖДЕННОЙ СТОЛИЦЫ РЕСПУБЛИКИ СССР
3. ПОЧЕМУ, СОГЛАСНО ОДНОМУ ИЗ ОТРЫВКОВ, ЗА СПИНОЙ ОБОРОНЯВШИХСЯ НЕМЦЕВ «ПЛЕСКАЛОСЬ НАСТОЯЩЕЕ МОРЕ»?

Правильный ответ должен содержать следующие элементы:

1) год — 1944;

2) название столицы, например:

— Минск;

— Вильнюс;

— Рига;

— Таллин;

— Кишинёв;

— Петрозаводск;

(Может быть указано название другой столицы.)

3) ответ на вопрос: «гитлеровцы наскоро соорудили из брёвен и земли плотину на скалковской (в деревне Скалка) речушке, при её впадении в Березину».

Каждый из элементов 1 и 2 ответа может быть засчитан только при условии отсутствия неверных позиций в этом элементе наряду с верной. Элемент 3 ответа может быть представлен как в форме цитат, так и в форме сжатого воспроизведения основных идей соответствующего фрагмента текста. Поскольку в задании требуется найти в тексте данную в явном виде конкретную информацию, не засчитывается при оценивании элемента 3 ответа переписанный целиком объёмный отрывок текста, включающий наряду с верным элементом избыточную информацию

Содержание верного ответа и указания по оцениванию (допускаются иные формулировки ответа, не искажающие его смысл)	Баллы
Правильно указаны год, название столицы, дан ответ на вопрос	3
Правильно указаны только два элемента	2
Правильно указан только один элемент	1
Приведены рассуждения общего характера, не соответствующие требованию задания. ИЛИ Ответ неправильный	0
	<i>Максимальный балл</i> 3

ЗАДАНИЕ 17. ПРОЧТИТЕ ОТРЫВКИ ИЗ ВОСПОМИНАНИЙ СОВРЕМЕННОКОВ

1. УКАЖИТЕ ГОД, К КОТОРОМУ ОТНОСЯТСЯ ОБА СОБЫТИЯ.
2. УКАЖИТЕ КОМАНДУЮЩЕГО 1-М БЕЛОРУССКИМ ФРОНТОМ В ЭТО ВРЕМЯ.
3. КАК АВТОР ОДНОГО ИЗ ОТРЫВКОВ ХАРАКТЕРИЗУЕТ АТМОСФЕРУ В БЕРЛИНЕ В ЭТОТ ВРЕМЯ?

ФРАГМЕНТЫ ИСТОЧНИКОВ

- | | |
|----|--|
| А) | <p>«Утром 16 апреля на всех участках фронта советские войска успешно продвигались вперёд. Однако противник, придя в себя, начал оказывать противодействие со стороны Зееловских высот своей артиллерией, миномётами, а со стороны Берлина появились группы бомбардировщиков. И чем дальше продвигались наши войска к Зееловским высотам, тем сильнее нарастало сопротивление врага. Зееловские высоты господствовали над окружающей местностью, имели крутые скаты и являлись во всех отношениях серьёзным препятствием на пути к Берлину. Сплошной стеной стояли они перед нашими войсками, закрыв собой плато, на котором должно было развернуться сражение на ближних подступах к Берлину».</p> |
| Б) | <p>«В те дни Гитлер, как известно, вёл себя как одержимый, заявив даже, что немецкий народ недостойн такого руководителя, как он. Относясь с ненавистью к собственному народу, он готов был мстить ему за бесславное крушение своей кровавой авантюры.</p> <p>В Берлине царила атмосфера истерически молниеносных расправ, предельной жестокости. И эта атмосфера, вселяя страх, безусловно, продлила агонию немецкой столицы.</p> <p>Кого только не было там, на Тельтов-канале, особенно в батальонах фольксштурма, состоявших из кадровых солдат, стариков и подростков, которые плакали, но дрались и поджигали фаустпатронами наши танки».</p> |

Правильный ответ должен содержать следующие элементы:

1) год — 1945;

2) командующий — Г.К. Жуков;

3) ответ на вопрос: «атмосфера истерически молниеносных расправ, предельной жестокости».

Каждый из элементов 1 и 2 ответа может быть засчитан только при условии отсутствия неверных позиций в этом элементе наряду с верной. Элемент 3 ответа может быть представлен как в форме цитат, так и в форме сжатого воспроизведения основных идей соответствующего фрагмента текста. Поскольку в задании требуется найти в тексте данную в явном виде конкретную информацию, не засчитывается при оценивании элемента 3 ответа переписанный целиком объёмный отрывок текста, включающий наряду с верным элементом избыточную информацию

Правильно указаны год, командующий, дан ответ на вопрос

3

Правильно указаны только два элемента

2

Правильно указан только один элемент

1

Приведены рассуждения общего характера, не соответствующие требованию задания.

0

ИЛИ Ответ неправильный

Максимальный балл

3

ЗАДАНИЕ 17. ПРОЧТИТЕ ОТРЫВКИ ИЗ ВОСПОМИНАНИЙ СОВРЕМЕННОКОВ

1. УКАЖИТЕ НАЗВАНИЕ БИТВЫ, ОПИСАННОЙ В ОБОИХ ОТРЫВКАХ.
2. УКАЖИТЕ КОМАНДУЮЩЕГО ЗАПАДНЫМ ФРОНТОМ В ПЕРИОД, КОГДА ОКОНЧИЛАСЬ ЭТА БИТВА.
3. В ЧЕМ СОСТОЯЛО ТРУДНОЕ ПОЛОЖЕНИЕ КОННИКОВ?

А) «Проезжая Протву, вспомнил своё детство. Всю местность в этом районе я знал прекрасно, так как в юные годы исходил её вдоль и поперёк. В десяти километрах от Обнинского, где остановился штаб Резервного фронта, моя родная деревня Стрелковка. Сейчас там остались мать, сестра и её четверо детей. Как они? Что, если заехать? Нет, невозможно, время не позволяет! Но что будет с ними, если туда придут фашисты? Как они поступят с моими близкими, если узнают, что они родные генерала Красной Армии? Наверняка расстреляют! При первой же возможности надо вывезти их.

Через две недели деревня Стрелковка, как и весь Угодско-Заводский район, была занята немецкими войсками. К счастью, я успел вывезти мать и сестру с детьми.

Мои земляки оказали врагу серьёзный отпор. В районе был организован партизанский отряд, который возглавил мужественный борец за Родину, умный организатор, комсомолец-пограничник Виктор Карасёв».

Б) «Бои за Скирманово — с 11 по 14 ноября — прошли очень удачно. Артиллеристам, миномётчикам и «катюшам» удалось нанести фашистам большой урон, а дружные атаки пехоты, поддержанные танками, довершили дело. Большую пользу принесла, во-первых, сильная группа автоматчиков-ополченцев, пробравшаяся ночью перед атакой в расположение противника, а во-вторых, выдвинувшиеся во фланг и почти в тыл гитлеровцам кавалеристы такого боевого генерала, как Плиев. Правда, герои конники сами попали в трудное положение, поскольку после завершения операции им пришлось с боем пробиваться назад. Но сражаться в тылу врага им было не впервой, и своё дело они выполнили с честью.

Разгром немецко-фашистских войск, занимавших Скирманово и другие селения, был полный. 10-я немецкая танковая дивизия, предназначенная для перехвата Волоколамского шоссе, с большими потерями откатилась далеко назад».

Правильный ответ должен содержать следующие элементы:

1) название битвы — Московская;

2) командующий — Г.К. Жуков;

3) ответ на вопрос: «после завершения операции конникам пришлось с боем пробиваться назад».

Каждый из элементов 1 и 2 ответа может быть засчитан только при условии отсутствия неверных позиций в этом элементе наряду с верной. Элемент 3 ответа может быть представлен как в форме цитат, так и в форме сжатого воспроизведения основных идей соответствующего фрагмента текста. Поскольку в задании требуется найти в тексте данную в явном виде конкретную информацию, не засчитывается при оценивании элемента 3 ответа переписанный целиком объёмный отрывок текста, включающий наряду с верным элементом избыточную информацию

Правильно указаны название битвы, командующий, дан ответ на вопрос

3

Правильно указаны только два элемента

2

Правильно указан только один элемент

1

Приведены рассуждения общего характера, не соответствующие требованию задания.

0

ИЛИ Ответ неправильный

Максимальный балл

3

ЗАДАНИЕ 17. ПРОЧТИТЕ ОТРЫВКИ ИЗ ВОСПОМИНАНИЙ СОВРЕМЕННОКОВ

1. УКАЖИТЕ НАЗВАНИЕ БИТВЫ, ПРОПУЩЕННОЕ В ОБОИХ ОТРЫВКАХ.
2. УКАЖИТЕ КОМАНДУЮЩЕГО ВТОРЫМ БЕЛОРУССКИМ ФРОНТОМ, КОГДА КРАСНАЯ АРМИЯ ШЗАХВАТИЛА ЭТОТ ГОРОД.
3. КАКИЕ НЕ УВЕНЧАВШИЕСЯ УСПЕХОМ ПОПЫТКИ ПРЕДПРИНИМАЛИ ГИТЛЕР И ЕГО ОКРУЖЕНИЕ НЕЗАДОЛГО ДО НАЧАЛА ОПЕРАЦИИ?

ФРАГМЕНТЫ ИСТОЧНИКОВ

- А) «В пределах города бои обрели крайнее ожесточение. Сходились вплотную. Часто в одном доме были и немцы, и наши. Дрались гранатами, ножами и чем попало. Громадные, неуклюжие гаубицы нашей бригады вывезли на прямую наводку и в упор, как из пистолетов, разбивали из них стены и баррикады. Было много потерь среди оружейной прислуги. Старички, провоевавшие всю войну в относительной безопасности около пушек, которые обычно стреляли из тыла, теперь вынуждены были драться врукопашную и испытать те же опасности, что и пехота. Одним словом, кровушка лилась рекой. Один Рейхстаг стоил, вероятно, нескольких тысяч жизней. Находившаяся в _____ артиллерия могла бы в пять минут сравнять его с землей вместе с оборонявшимся гарнизоном. Но надо было сохранить это здание — символ Германии — и водрузить на нём флаг Победы».
- Б) «Как теперь известно из истории, попытки Гитлера и его окружения добиться сепаратных соглашений с нашими союзниками не увенчались успехом. Мы и тогда, в период войны, не хотели верить, что наши союзники могут пойти на какой бы то ни было сговор с немецко-фашистским командованием. Однако в атмосфере того времени, насыщенной не только фактами, но и слухами, мы не вправе были абсолютно исключить и такую возможность.
- Это обстоятельство придавало предстоящей операции, я бы сказал, особую остроту. И уж во всяком случае нам приходилось считаться с тем, что, встав наконец перед необходимостью испытать до дна горечь военного поражения, фашистские руководители предпочтут сдать _____ американцам и англичанам, перед ними будут открывать путь, а с нами будут жестоко, до последнего солдата, сражаться».

Правильный ответ должен содержать следующие элементы:

1) название битвы — Битва за Берлин;

2) командующий — К.К. Рокоссовский;

3) ответ на вопрос: «добиться сепаратных соглашений с нашими союзниками».

Каждый из элементов 1 и 2 ответа может быть засчитан только при условии отсутствия неверных позиций в этом элементе наряду с верной. Элемент 3 ответа может быть представлен как в форме цитат, так и в форме сжатого воспроизведения основных идей соответствующего фрагмента текста. Поскольку в задании требуется найти в тексте данную в явном виде конкретную информацию, не засчитывается при оценивании элемента 3 ответа переписанный целиком объёмный отрывок текста, включающий наряду с верным элементом избыточную информацию

Правильно указаны название битвы, командующий, дан ответ на вопрос

3

Правильно указаны только два элемента

2

Правильно указан только один элемент

1

Приведены рассуждения общего характера, не соответствующие требованию задания.

0

ИЛИ Ответ неправильный

Максимальный балл

3

ЗАДАНИЕ 17. ПРОЧТИТЕ ОТРЫВКИ ИЗ ВОСПОМИНАНИЙ СОВРЕМЕННОКОВ

ФРАГМЕНТЫ ИСТОЧНИКОВ

1. УКАЖИТЕ НАЗВАНИЕ БИТВЫ, ОПИСАННОЙ В ОБОИХ ОТРЫВКАХ.
2. УКАЖИТЕ НАЗВАНИЕ МЕСЯЦА, КОГДА ОКОНЧИЛАСЬ ЭТА БИТВА.
3. ДЛЯ ЧЕГО В СРАЖЕНИЕ БЫЛА ВВЕДЕНА 4-Я ГВАРДЕЙСКАЯ АРМИЯ?

А) «Опасаясь окружения своей харьковской группировки, противник собрал войска в составе трёх танковых дивизий и 11 августа нанёс контрудар по 1-й танковой армии и частям 6-й гвардейской армии. Ослабленные части 1-й танковой армии и 6-й гвардейской армии, не выдержав удара, начали отход на более выгодные рубежи.

Тогда на помощь им была брошена 5-я гвардейская танковая армия. Завязалось ожесточённое сражение, длившееся несколько дней. Общими усилиями враг к исходу 16 августа был остановлен. 18 августа противник нанёс контрудар из района Ахтырки. Для его ликвидации в сражение была дополнительно введена 4-я гвардейская армия, прибывшая из резерва Ставки. Командовал ею генерал Г. И. Кулик. К сожалению, он плохо справлялся со своими обязанностями, и вскоре его пришлось освободить от командования.

17 августа армии Степного фронта подошли вплотную к Харькову, завязав сражение на его окраинах».

Б) «Ожесточённые бои развернулись 7 июля в районе Поньрей. Но и здесь противник не добился успеха. Огромные потери подорвали его силы. Гитлеровское командование было вынуждено 9 июля прекратить наступление.

Напряжённая борьба шла в те дни в полосе Воронежского фронта. Главный удар противника обрушился на войска 6-й гвардейской армии генерала И. М. Чистякова. К исходу 6 июля немецким танковым корпусам, наступавшим на Обоянь, удалось на узком участке преодолеть главную полосу обороны. Но дальнейшее продвижение врага было задержано. На корочанском направлении к исходу второго дня наступления фашистские войска захватили плацдарм на восточном берегу Северского Донца и на узком участке фронта вышли ко второй полосе обороны 7-й гвардейской армии, которой командовал генерал М. С. Шумилов».

Правильный ответ должен содержать следующие элементы:

1) название битвы — Курская;

2) месяц — август;

3) ответ на вопрос: для ликвидации удара противника из района Ахтырки.

Каждый из элементов 1 и 2 ответа может быть засчитан только при условии отсутствия неверных позиций в этом элементе наряду с верной. Элемент 3 ответа может быть представлен как в форме цитат, так и в форме сжатого воспроизведения основных идей соответствующего фрагмента текста. Поскольку в задании требуется найти в тексте данную в явном виде конкретную информацию, не засчитывается при оценивании элемента 3 ответа переписанный целиком объёмный отрывок текста, включающий наряду с верным элементом избыточную информацию

Правильно указаны название битвы, месяц, дан ответ на вопрос

3

Правильно указаны только два элемента

2

Правильно указан только один элемент

1

Приведены рассуждения общего характера, не соответствующие требованию задания.
ИЛИ Ответ неправильный

0

Максимальный балл

3

ЗАДАНИЕ 17. ПРОЧТИТЕ ОТРЫВКИ ИЗ ВОСПОМИНАНИЙ СОВРЕМЕННОКОВ

1. **УКАЖИТЕ КОДОВОЕ НАЗВАНИЕ СТРАТЕГИЧЕСКОЙ НАСТУПАТЕЛЬНОЙ ОПЕРАЦИИ, О СОБЫТИЯХ КОТОРОЙ ИДЕТ РЕЧЬ.**
2. **НАЗОВИТЕ КОМАНДУЮЩЕГО 1-М БЕЛОРУССКИМ ФРОНТОМ В ХОДЕ ЭТОЙ ОПЕРАЦИИ.**
3. **ПОЧЕМУ ОТХОД С РУБЕЖА ЖЛОБИН – РОГАЧЕВ ПРОТИВНИК НАЧАЛ СЛИШКОМ ПОЗДНО?**

ФРАГМЕНТЫ ИСТОЧНИКОВ

- | | |
|----|---|
| А) | <p>«Прорыв обороны противника развивался медленно. Видя это, А. В. Горбатов обратился с просьбой разрешить ему выполнить свой первоначальный план и нанести удар танковым корпусом севернее. Я поддержал предложение А. В. Горбатова. Операция вполне удалась. Противник был опрокинут, и танкисты В. С. Бахарова, выигрывая фланг группировки противника, стремительно двинулись к Бобруйску, отрезая немцам единственный путь отхода через реку Березину. После этого удачного манёвра наших войск противник начал отход с рубежа Жлобин—Рогачёв, но было уже поздно. Единственный мост у Бобруйска 26 июня был в руках танкистов В. С. Бахарова».</p> |
| Б) | <p>«28 июня Ставка возложила на 1-й Белорусский фронт следующую задачу: частью сил наступать на Минск, а главными силами — на Слуцк, Барановичи, чтобы отрезать противнику пути отхода на юго-запад, и во взаимодействии с войсками 3-го Белорусского фронта как можно быстрее завершить окружение минской группировки фашистских войск.</p> <p>В эти дни командиры наших подвижных соединений проявили высокое воинское искусство. 2 июля сильным ударом в центре 1-й гвардейский танковый корпус генерала Панова прорвал оборону 12-й немецкой дивизии и совместно с пехотой 82-й дивизии овладел районом Пуховичей. Конно-механизированная группа генерала Плиева устремилась на Слуцк. На рассвете 2 июля гвардейцы-кавалеристы овладели Столбцами, Городзей и Несвижем, перерезав коммуникации минской группировки на Барановичи, Брест, Лунинец».</p> |

Правильный ответ должен содержать следующие элементы:

- 1) название операции — «Багратион»;
- 2) командующий 1-м Белорусским фронтом — К.К. Рокоссовский;
- 3) ответ на вопрос: «единственный мост у Бобруйска 26 июня был в руках танкистов Б.С. Бахарова».

Каждый из элементов 1 и 2 ответа может быть засчитан только при условии отсутствия неверных позиций в этом элементе наряду с верной. Элемент 3 ответа может быть представлен как в форме цитат, так и в форме сжатого воспроизведения основных идей соответствующего фрагмента текста. Поскольку в задании требуется найти в тексте данную в явном виде конкретную информацию, не засчитывается при оценивании элемента 3 ответа переписанный целиком объёмный отрывок текста, включающий наряду с верным элементом избыточную информацию

Правильно указаны название операции, командующий фронтом, дан ответ на вопрос	3
Правильно указаны только два элемента	2
Правильно указан только один элемент	1
Приведены рассуждения общего характера, не соответствующие требованию задания. ИЛИ Ответ неправильный	0
Максимальный балл	3

ЗАДАНИЕ 17. ПРОЧТИТЕ ОТРЫВКИ ИЗ ВОСПОМИНАНИЙ СОВРЕМЕННОКОВ

ФРАГМЕНТЫ ИСТОЧНИКОВ

- | | |
|----|---|
| А) | <p>«8 сентября противник, захватив Шлиссельбург, перерезал последнюю для нас сухопутную коммуникацию и блокировал Ленинград. Линия нашей обороны остановилась здесь по западному берегу Невы. Широкая, полноводная река являлась серьёзной преградой для гитлеровских войск, однако и её надо было оборонять, так как к Шлиссельбургу и Ладоге вышли немецкие отборные части. Враг оттеснил нашу 54-ю армию от основных сил Ленинградского фронта, но она не позволила гитлеровским войскам двинуться на восток и остановила их на рубеже Липка—Рабочий посёлок—Гайтолово. С этого момента армия начала подчиняться не фронту, а непосредственно Ставке ВТК».</p> |
| Б) | <p>«Через час действительно пришла маршевая рота... вооружённая учебными винтовками с просверленными казённиками. Выстрелить из такой винтовки невозможно при самой горячей ненависти к врагу. Её могли использовать только в рукопашной схватке. В какой-то мере облегчил наше положение обком партии, передавший дивизии несколько рабочих отрядов. Они существенно помогли 142-му полку в строительстве обороны в районе Мигаловского аэродрома, на ближних подступах к городу. Строительство обороны ещё продолжалось, когда разведка обнаружила немцев в семи километрах от Калинина. На аэродроме стояли самолёты гражданского воздушного флота, и администрация аэродрома просила нас продержаться немного, чтобы подвезти горючее и поднять машины в воздух».</p> |

Укажите год, к которому относятся события, описанные в обоих отрывках. Укажите командующего Западным фронтом до 30 июня этого года. Чем, согласно одному из отрывков, помог обороне города обком партии?

Правильный ответ должен содержать следующие элементы:

1) год — 1941;

2) командующий Западным фронтом — Д.Г. Павлов;

3) ответ на вопрос: обком партии передал оборонявшей город дивизии несколько рабочих отрядов.

Каждый из элементов 1 и 2 ответа может быть засчитан только при условии отсутствия неверных позиций в этом элементе наряду с верной. Элемент 3 ответа может быть представлен как в форме цитат, так и в форме сжатого воспроизведения основных идей соответствующего фрагмента текста. Поскольку в задании требуется найти в тексте данную в явном виде конкретную информацию, не засчитывается при оценивании элемента 3 ответа переписанный целиком объёмный отрывок текста, включающий наряду с верным элементом избыточную информацию

Правильно указаны год, командующий Западным фронтом, дан ответ на вопрос	3
Правильно указаны только два элемента	2
Правильно указан только один элемент	1
Приведены рассуждения общего характера, не соответствующие требованию задания. ИЛИ Ответ неправильный	0
Максимальный балл	3

ЗАДАНИЕ 17. ПРОЧТИТЕ ОТРЫВКИ ИЗ ВОСПОМИНАНИЙ СОВРЕМЕННОК

ФРАГМЕНТЫ ИСТОЧНИКОВ

А) «На центральном участке гитлеровцам удалось 1 декабря прорвать оборону наших войск под Наро-Фоминском. Танки и мотопехота врага устремились по шоссе на Кубинку во фланг нашей 5-й армии, но были задержаны частями, выдвинутыми из резерва.

Чтобы окончательно остановить врага и создать благоприятные условия для перехода в контрнаступление, советское командование перебросило под Москву крупные стратегические резервы. На разных участках фронта по вырвавшимся вперёд фашистским дивизиям было нанесено несколько контрударов. 1-я ударная армия генерал-лейтенанта В. И. Кузнецова 29—30 ноября атаковала немецкие войска, переправившиеся через канал Москва — Волга, и отбросила их на левый берег».

Б) «Хотя войска отступали в основном организованно, без паники, в этой сложной обстановке выполнить манёвр отхода оказалось крайне затруднительно. Поскольку артиллерия и все обозы Западного фронта имели только конную тягу, отходить в высоком темпе мы были не в силах, не говоря уже о том, что это было бы просто неправильно — на плечах поспешно отходящих войск враг легко мог бы ворваться в Москву. Превосходство в подвижности было явно на стороне врага. И быстро продвигающиеся гитлеровские корпуса отрезали путь нашим частям. Вследствие этого к 7 октября оказались в окружении дивизии 19-й и 20-й армий Западного фронта, войска 24-й и 32-й армий Резервного фронта и понёсшая тяжёлые потери в боях в районе Холм-Жирковского группа Болдина».

Укажите год, к которому относятся события, описанные в обоих отрывках. Укажите командующего Западным фронтом советских войск с 12 сентября до 11 октября этого года. Почему, согласно одному из отрывков, отступать быстро войскам Западного фронта было бы неправильно?

Правильный ответ должен содержать следующие элементы:

1) год — 1941;

2) командующий Западным фронтом — И.С. Конев;

3) ответ на вопрос: «на плечах поспешно отходящих войск враг легко мог бы ворваться в Москву».

Каждый из элементов 1 и 2 ответа может быть засчитан только при условии отсутствия неверных позиций в этом элементе наряду с верной. Элемент 3 ответа может быть представлен как в форме цитат, так и в форме сжатого воспроизведения основных идей соответствующего фрагмента текста. Поскольку в задании требуется найти в тексте данную в явном виде конкретную информацию, не засчитывается при оценивании элемента 3 ответа переписанный целиком объёмный отрывок текста, включающий наряду с верным элементом избыточную информацию

Правильно указаны год, командующий Западным фронтом, дан ответ на вопрос

3

Правильно указаны только два элемента

2

Правильно указан только один элемент

1

Приведены рассуждения общего характера, не соответствующие требованию задания.

0

ИЛИ Ответ неправильный

Максимальный балл

3

ЗАДАНИЕ 17. ПРОЧТИТЕ ОТРЫВКИ ИЗ ВОСПОМИНАНИЙ СОВРЕМЕННОК

ФРАГМЕНТЫ ИСТОЧНИКОВ

- А) «80 минут, пока под сводами зала звучала музыка, орудия врага безмолвствовали. Артиллеристы, защищавшие _____, получили приказ от командующего фронтом Л.А. Говорова во что бы то ни стало подавлять нашей огневой мощью немецкие орудия. Для этого даже была разработана специальная операция, которая получила название "Шквал".
- И наши красноармейцы постарались что надо. Покой слушателей не нарушил ни единый снаряд врага. Лишь там, за городом, гулко ухали наши зенитки, а в городе из каждого громкоговорителя звучала величественная торжественная музыка, завораживающая своей мощью и напором. Её слышали даже защищавшие город наши части. Да что там наши, даже осаждавшие город гитлеровские войска и те слышали всепобеждающую мощь Седьмой симфонии. Кстати, двое немецких солдат, воевавших под городом, уже после войны разыскали К.И. Элиасберга и признались ему: "Тогда, 9 августа 1942 года, мы поняли, что проиграем войну"».
- Б) «Зимой 1942 г. к нам на Ораниенбаумский пяточок к западу от _____ приехала группа артистов эстрады, возглавляемая Евгением Гершуни. Вид у прибывших артистов, переживших блокадную зиму, был истощённый как после тяжёлой болезни. Каждое выступление отнимало у них немало сил. Одна молодая артистка не оправилась от дистрофии, долго стоять ей было тяжело, она прилегла на топчане за сценой и, закрыв глаза, шептала стихи. Когда Гершуни объявил её номер, она поднялась на сцену и долго стояла, опустив голову. Потом собралась с силами, встрепенулась и сильным грудным голосом начала читать стихотворение Николая Тихонова "Киров с нами". С каждой фразой голос её крепчал, в глазах вспыхивали искры. Артистку долго вызывали на "бис", но у неё не хватило сил для продолжения выступления. Однако, когда командир дивизии попросил Гершуни дать ещё один концерт на командном пункте полка, воины которого ночью должны были произвести разведку боем, то все артисты согласились, несмотря на то, что выступать предстояло в полукилometре от передовой. Как много дало это выступление для утверждения уверенности воинов в неизбежной победе!».

1. УКАЖИТЕ ГОРОД, НАЗВАНИЕ КОТОРОГО ПРОПУЩЕНО В ОБОИХ ОТРЫВКАХ.
2. УКАЖИТЕ ЛЮБОГО ДЕЯТЕЛЯ СОВЕТСКОЙ КУЛЬТУРЫ, КРОМЕ НАЗВАННЫХ В ОТРЫВКАХ, СВОИ ТВОРЧЕСТВОМ ВНЕСШИЙ ВКЛАД В ПОБЕДУ.
3. ПОЧЕМУ АРТИСТЫ СОГЛАСИЛИСЬ ДАТЬ ЕЩЕ ОДИН КОНЦЕРТ?

Правильный ответ должен содержать следующие элементы:

- 1) город — Ленинград;
- 2) деятель культуры, например:
 - О.Ф. Берггольц;
 - В.И. Лебедев-Кумач;
 - Л.А. Русланова;
 - К.М. Симонов;
 - А.Т. Твардовский;
 - Л.О. Утёсов;
 - Д.Д. Шостакович;
 - К.И. Шульженко;

(Могут быть указаны другие деятели культуры.)

3) ответ на вопрос: *воины полка, перед которым предстояло выступить, «ночью должны были произвести разведку боем».*

Каждый из элементов 1 и 2 ответа может быть засчитан только при условии отсутствия неверных позиций в этом элементе наряду с верной. Элемент ответа 3 может быть представлен как в форме цитат, так и в форме сжатого воспроизведения основных идей соответствующего фрагмента текста. Поскольку в задании требуется найти в тексте данную в явном виде конкретную информацию, не засчитывается при оценивании элемента 3 ответа переписанный целиком объёмный отрывок текста, включающий наряду с верным элементом избыточную информацию

Правильно указаны город, деятель культуры, дан ответ на вопрос	3
Правильно указаны два элемента	2
Правильно указан только один элемент	1
Приведены рассуждения общего характера, не соответствующие требованию задания. ИЛИ Ответ неправильный	0
<i>Максимальный балл</i>	3

ЗАДАНИЕ 17. ПРОЧТИТЕ ОТРЫВКИ ИЗ ВОСПОМИНАНИЙ СОВРЕМЕННОКОВ

ФРАГМЕНТЫ ИСТОЧНИКОВ

А) «12 мая войска Юго-Западного фронта перешли в наступление в направлении на Харьков. Вначале эта операция развивалась успешно. Наши войска прорвали оборону противника и за трое суток продвинулись на 25—50 км. И. В. Сталин был доволен. Это дало, как вспоминает А. М. Василевский, повод Верховному бросить упрёк Генштабу в том, что по его настоянию он чуть было не отменил столь удачно развивающуюся операцию.

Но из-за нерешительности командования Юго-Западного фронта в отношении ввода в сражение танковых соединений операция дальнейшего развития не получила. Этим незамедлительно воспользовался противник.

Утром 17 мая 11 немецких дивизий из состава армейской группы Клейста перешли в наступление из района Славянск — Краматорск против советских 9-й и 57-й армий Южного фронта. Оборона была прорвана. За двое суток враг продвинулся до 50 км и вышел во фланг войскам левого крыла Юго-Западного фронта в районе Петровского».

Б) «В июне борьба за город-крепость с каждым днём становилась ожесточённее. Я ежедневно ждал вопроса Верховного Главнокомандующего: «Как в Севастополе?» Желая получать информацию из первых рук, он нередко приказывал мне докладывать ему по телефону. В ту пору Б.М. Шапошников уже сильно болел, и обязанности начальника штаба переходили в руки А.М. Василевского.

После наших неудач у Керчи мои доклады о героической борьбе защитников Севастополя вызывали у И.В. Сталина, как я видел, явно тёплое чувство. Кажется, Черчилль где-то сказал, что, находясь у власти, человек не имеет представления, «каким чертовски тяжёлым может быть положение обыкновенных рядовых людей». Но тяжёлое положение севастопольцев в тот момент мы все хорошо представляли».

1. **УКАЖИТЕ ГОД, КОГДА ПРОИЗОШЛИ УКАЗАННЫЕ СОБЫТИЯ.**
2. **УКАЖИТЕ КОДОВОЕ НАЗВАНИЕ КРУПНОЙ СТРАТЕГИЧЕСКОЙ НАСТУПАТЕЛЬНОЙ ОПЕРАЦИИ, КОТОРАЯ НАЧАЛА ПРОВОДИТЬСЯ ВО ВТОРОЙ ПОЛОВИНЕ ГОДА, О СОБЫТИЯХ КОТОРОГО ИДЕТ РЕЧЬ В ОБОИХ ОТРЫВКАХ.**
3. **ПОЧЕМУ НЕ ПОЛУЧИЛА РАЗВИТИЯ УСПЕШНО НАЧАВШАЯСЯ ОПЕРАЦИЯ, О КОТОРОЙ ИДЕТ РЕЧЬ В ОТРЫВКЕ.**

Правильный ответ должен содержать следующие элементы:

1) год — 1942;

2) кодовое название операции: «Уран»;

3) ответ на вопрос: «из-за нерешительности командования Юго-Западного фронта в отношении ввода в сражение танковых соединений операция дальнейшего развития не получила».

Каждый из элементов 1 и 2 ответа может быть засчитан только при условии отсутствия неверных позиций в этом элементе наряду с верной. Элемент ответа 3 может быть представлен как в форме цитат, так и в форме сжатого воспроизведения основных идей соответствующего фрагмента текста. Поскольку в задании требуется найти в тексте данную в явном виде конкретную информацию, не засчитывается при оценивании элемента 3 ответа переписанный целиком объёмный отрывок текста, включающий наряду с верным элементом избыточную информацию

Правильно указаны год, кодовое название операции, дан ответ на вопрос

3

Правильно указаны два элемента

2

Правильно указан только один элемент

1

Приведены рассуждения общего характера, не соответствующие требованию задания.
ИЛИ Ответ неправильный

0

Максимальный балл

3

ФРАГМЕНТЫ ИСТОЧНИКОВ

- А) «При планировании операции, исходя из общей обстановки и директивы Ставки, мы создали на правом фланге северо-западнее Дрездена ударную группировку из трёх общевойсковых армий Н. П. Пухова, В. Н. Гордова и А. С. Жадова, двух танковых армий П. С. Рыбалко и Д. Д. Лелюшенко, двух танковых корпусов П. П. Полубоярова и Е. И. Фоминых и пяти артиллерийских дивизий. Этой группировке предстояло действовать в направлении главного удара Теплице — Шанов — _____, несколько охватывая _____ с запада и юго-запада.
- Было решено также, что на главном направлении в наступление перейдут одновременно и общевойсковые, и танковые армии. Этим сразу обеспечивались максимальная мощь удара, стремительное сокрушение обороны противника и дальнейшее движение вперёд без обычных затрат времени, необходимых на ввод танковых армий в прорыв. Я считаю, это было важной особенностью данной операции».
- Б) «Эта столица занимала в планах советского Верховного Главнокомандования очень заметное место. Наше стратегическое руководство всемерно стремилось сохранить от разрушения этот чудесный древний город с его многочисленными памятниками культуры.
- И. С. Коневу было приказано бросить освободившиеся в Берлине войска правого крыла фронта в стремительное наступление в общем направлении на _____. 1-й Украинский фронт должен был отрезать пути отхода противника на запад и юго-запад, создать северный и западный фасы кольца окружения войск, сидевших в Рудных горах и Судетах. План этой операции — последней крупной операции Советских Вооружённых Сил в Европе — окончательно был разработан к 4 мая».

Укажите столицу европейского государства, название которой пропущено в обоих отрывках. Назовите любую другую европейскую столицу, освобождённую (взятую) частями Красной армии в том же году, к которому относятся события, описываемые в отрывках. Что, по словам автора одного из воспоминаний, было важной особенностью военной операции, о которой идёт речь в отрывке?

Правильный ответ должен содержать следующие элементы:

1) столица — Прага;

2) другая европейская столица, например:

— Варшава;

— Будапешт;

— Братислава;

— Вена;

— Берлин;

3) ответ на вопрос: «на главном направлении в наступление перейдут одновременно и общевойсковые, и танковые армии».

Каждый из элементов 1 и 2 ответа может быть засчитан только при условии отсутствия неверных позиций в этом элементе наряду с верной. Элемент ответа 3 может быть представлен как в форме цитат, так и в форме сжатого воспроизведения основных идей соответствующего фрагмента текста. Поскольку в задании требуется найти в тексте данную в явном виде конкретную информацию, не засчитывается при оценивании элемента 3 ответа переписанный целиком объёмный отрывок текста, включающий наряду с верным элементом избыточную информацию

Правильно указаны столица, другая европейская столица, дан ответ на вопрос

3

Правильно указаны два элемента

2

Правильно указан только один элемент

1

Приведены рассуждения общего характера, не соответствующие требованию задания.
ИЛИ Ответ неправильный

0

Максимальный балл

3

ФРАГМЕНТЫ ИСТОЧНИКОВ

- | | |
|----|---|
| А) | <p>«Как известно, немецко-фашистское командование создало для ноябрьского наступления сильные группировки. Командующий 4-й полевой армией фельдмаршал фон Клюге, имевший в своём распоряжении до двадцати дивизий, создал на флангах два ударных кулака. Левофланговая группировка этой армии начинала наступление из района Можайска, а правофланговая — из лесов юго-западнее Серпухова. Эти группировки должны были встретиться в Кунцеве, окружив значительную часть противостоявших им войск Западного фронта.</p> <p>Однако план фон Клюге был сорван в самом начале. Наша конно-механизированная группа совместно с войсками 49-й армии сковала под Серпуховом до восьми дивизий противника и тем самым обезвредила правую «клешню» фельдмаршала фон Клюге. Кроме того, немцам пришлось перебросить под Серпухов и часть резервов, предназначенных для развития удара левофланговой армейской группировки. В результате левая «клешня» тоже была ослаблена».</p> |
| Б) | <p>«Вскоре связной привёз письменный приказ об отходе, и 78-я дивизия, прикрываясь сильными арьергардами, начала переправляться через Истру в той её излучине, где стоит Ново-Иерусалимский монастырь. Мы вступали в город, который увидели впервые месяц назад. Тогда его улочки утопали в осеннем золоте лип, теперь — в снегах. Фашисты нещадно бомбили и обстреливали этот деревянный городок. Некоторые улицы выгорели дотла.</p> <p>До Кремля — сорок километров.</p> <p>Крайне трудная обстановка сложилась для нашей дивизии, которая фактически вела борьбу на два фронта. Её авангардные подразделения, переправляясь на восточный берег, с ходу вступали в бой с частями 10-й немецкой танковой дивизии, а силы прикрытия отражали ожесточённые атаки дивизии "Рейх" на западном берегу».</p> |

Укажите год, когда происходили события, описанные в обоих отрывках. Укажите советского военачальника, командовавшего войсками упоминаемого в одном из отрывков Западного фронта в период описываемых событий. Что, по словам автора одного из отрывков, мешало врагу реализовать его планы?

Правильный ответ должен содержать следующие элементы:

1) год — 1941;

2) военачальник — Г.К. Жуков;

3) ответ на вопрос:

— «Наша конно-механизированная группа совместно с войсками 49-й армии сковала под Серпуховом до восьми дивизий противника и тем самым обезвредила правую «клешню» фельдмаршала фон Клюге»;

— «немцам пришлось перебросить под Серпухов и часть резервов, предназначенных для развития удара левофланговой армейской группировки».

Каждый из элементов 1 и 2 ответа может быть засчитан только при условии отсутствия неверных позиций в этом элементе наряду с верной. Элемент ответа 3 может быть представлен как в форме цитат, так и в форме сжатого воспроизведения основных идей соответствующего фрагмента текста. Поскольку в задании требуется найти в тексте данную в явном виде конкретную информацию, не засчитывается при оценивании элемента 3 ответа переписанный целиком объёмный отрывок текста, включающий наряду с верным элементом избыточную информацию

Правильно указаны год, военачальник, дан ответ на вопрос

3

Правильно указаны два элемента

2

Правильно указан только один элемент

1

Приведены рассуждения общего характера, не соответствующие требованию задания.

0

ИЛИ Ответ неправильный

Максимальный балл

3

ЗАДАНИЕ 18. ПРИЧИННО-СЛЕДСТВЕННЫЕ СВЯЗИ

1. ПЕРВЫЕ МЕСЯЦЫ ВЕЛИКОЙ ОТЕЧЕСТВЕННОЙ ВОЙНЫ ДЛЯ СССР БЫЛИ ПРОИГРЫШНЫМИ. УКАЖИТЕ:

- А) ПОСЛЕДСТВИЕ ПОРАЖЕНИЙ В ПЕРВЫЕ МЕСЯЦЫ ВОЙНЫ ДЛЯ МОСКВЫ;
- Б) ПОСЛЕДСТВИЕ ПОРАЖЕНИЙ В ПЕРВЫЕ МЕСЯЦЫ ВОЙНЫ ДЛЯ ЭКОНОМИЧЕСКОГО ПОТЕНЦИАЛА СССР;
- В) ПРИЧИНУ ПОРАЖЕНИЯ ВОЙСК (ОКРУЖЕНИЯ) ЮГО-ЗАПАДНОГО ФРОНТА ПОД КИЕВОМ, СВЯЗАННУЮ СО СТАВКОЙ ВГК.

➤ ОТВЕТ:

- А) В ОКТЯБРЕ 1941 Г. БЫЛО ПРИНЯТО РЕШЕНИЕ О ПЕРЕНОСЕ СТОЛИЦЫ В КУЙБЫШЕВ (САМАРУ). ЧАСТЬ ВЫСШИХ ПАРТИЙНЫХ РАБОТНИКОВ ОТПРАВИЛАСЬ ТУДА, НО И. В. СТАЛИН НЕ ПОКИНУЛ МОСКВУ.
- Б) ПОСЛЕДСТВИЕМ ПОРАЖЕНИЙ В ПЕРВЫЕ МЕСЯЦЫ ВОЙНЫ МОЖНО СЧИТАТЬ ЭВАКУАЦИЮ НАСЕЛЕНИЯ И ОГРОМНОГО КОЛИЧЕСТВА ПРЕДПРИЯТИЙ НА ВОСТОК СТРАНЫ. ЗНАЧИТЕЛЬНАЯ ЧАСТЬ И ПОСЛЕ ВОЙНЫ ОСТАЛАСЬ НА ВОСТОКЕ (НАПРИМЕР, КРАСНОЯРСКИЙ ЗАВОД СИБТЯЖМАШ).
- В) СТАВКА ВГК И РУКОВОДСТВО ЮГО-ЗАПАДНОГО НАПРАВЛЕНИЯ (С. К. ТИМОШЕНКО), А ТАКЖЕ КОМАНДОВАНИЕ ЮГО-ЗАПАДНОГО ФРОНТА (М. П. КИРПОНОС) ЗАПОЗДАЛИ С ПРИНЯТИЕМ НЕОБХОДИМЫХ МЕР: ИЗ МОСКВЫ НЕ ПОСЛЕДОВАЛ ПРИКАЗ О НЕМЕДЛЕННОМ ВЫВОДЕ ВОЙСК И НАПРАВЛЕНИИ РЕЗЕРВОВ НА ПОМОЩЬ ОКРУЖЁННЫМ ЧАСТЯМ. И. В. СТАЛИН СЧИТАЛ, ЧТО КИЕВ НЕ МОЖЕТ БЫТЬ СДАН БЕЗ БОЯ.

ЗАДАНИЕ 18. ПРИЧИННО-СЛЕДСТВЕННЫЕ СВЯЗИ

2. ОСЕНЬЮ 1941 Г. ВОЗНИКЛА УГРОЗА ВЗЯТИЯ МОСКВЫ ГЕРМАНИЕЙ. УКАЖИТЕ:

- А) ПРИЧИНУ (ПРЕДПОСЫЛКУ) ПРОВАЛА НАСТУПЛЕНИЯ НЕМЦЕВ ПОД МОСКВОЙ В КОНЦЕ 1941 Г., СВЯЗАННУЮ С ЯПОНИЕЙ;
- Б) ПРИЧИНУ ПРОВЕДЕНИЯ ПАРАДА 7 НОЯБРЯ НА КРАСНОЙ ПЛОЩАДИ В МОСКВЕ;
- В) ПРИЧИНУ ПРОВАЛА НЕМЕЦКОЙ ОПЕРАЦИИ «ТАЙФУН» ПО ВЗЯТИЮ МОСКВЫ, СВЯЗАННУЮ С ОШИБКАМИ НЕМЕЦКОГО КОМАНДОВАНИЯ.

- А) ОТКАЗАВШИСЬ ОТ НАПАДЕНИЯ НА СССР, ЯПОНИЯ УДАРИЛА ПО США. ЭТО СТАЛО ИЗВЕСТНО СОВЕТСКОЙ РАЗВЕДКЕ ЗАРАНЕЕ (Р. ЗОРГЕ) И ПОЗВОЛИЛО ПЕРЕБРОСИТЬ СИЛЫ С СИБИРИ И ДАЛЬНОГО ВОСТОКА ПОД МОСКВУ К КОНЦУ НОЯБРЯ — НАЧАЛУ ДЕКАБРЯ 1941 Г. ГЕРМАНИЯ НАДЕЯЛАСЬ НА УДАР ЯПОНИИ С ДАЛЬНОГО ВОСТОКА, НЕСМОТРЯ НА СОВЕТСКО-ЯПОНСКИЙ ПАКТ О НЕЙТРАЛИТЕТЕ. СВЕЖИЕ СИБИРСКИЕ ДИВИЗИИ СЫГРАЛИ БОЛЬШУЮ РОЛЬ В ОБОРОНЕ МОСКВЫ.
- Б) В МОСКВЕ ЦАРИЛА ПАНИКА, ЭВАКУИРОВАЛИ ОГРОМНУЮ ЧАСТЬ НАСЕЛЕНИЯ. БЫЛА УГРОЗА СДАЧИ ГОРОДА. ЭТОТ ОСОБЕННЫЙ ВОЕННЫЙ ПАРАД ОКАЗАЛ ОГРОМНОЕ ВЛИЯНИЕ НА МОРАЛЬНОЕ СОСТОЯНИЕ АРМИИ И ВСЕХ ГРАЖДАН СТРАНЫ. ОН БЫЛ НЕОБХОДИМ ДЛЯ ПОДНЯТИЯ БОЕВОГО ДУХА. С РЕЧЬЮ НА ПАРАДЕ ВЫСТУПИЛ ЛИЧНО И. В. СТАЛИН, ПОКАЗАВ, ЧТО ОН НЕ ЭВАКУИРОВАЛСЯ В КУЙБЫШЕВ, И МОСКВУ СДАВАТЬ НИКТО НЕ СОБИРАЕТСЯ.
- В) КОНТРНАСТУПЛЕНИЕ СОВЕТСКИХ ВОЙСК С 5 ДЕКАБРЯ ОКАЗАЛОСЬ ПОЛНОЙ НЕОЖИДАННОСТЬЮ ДЛЯ НЕМЦЕВ. ВРАГ БЫЛ ОТБРОШЕН НА 100–250 КМ ОТ СТОЛИЦЫ В ТЕЧЕНИЕ ДЕКАБРЯ 1941 Г. — ЯНВАРЯ 1942 Г. СОЛДАТЫ И ОФИЦЕРЫ ГЕРМАНИИ ОКАЗАЛИСЬ НЕ ГОТОВЫ К НАСТУПЛЕНИЮ, ТАК КАК НЕ ВСЕ НЕМЕЦКИЕ ЧАСТИ БЫЛИ ОСНАЩЕНЫ ПОЛНОЦЕННОЙ ЗИМНЕЙ ОДЕЖДОЙ.

ЗАДАНИЕ 18. ПРИЧИННО-СЛЕДСТВЕННЫЕ СВЯЗИ

КОНТРНАСТУПЛЕНИЕ ПОД МОСКВОЙ ПРОХОДИЛО С 5 ДЕКАБРЯ 1941 Г. ПО 8 ЯНВАРЯ 1942 Г. УКАЖИТЕ:

- А) ПРИЧИНУ УСПЕХА КОНТРНАСТУПЛЕНИЯ РККА ПОД МОСКВОЙ, СВЯЗАННУЮ С ОШИБКАМИ НЕМЕЦКОГО КОМАНДОВАНИЯ;
 - Б) ПРИЧИНУ УСПЕХА КОНТРНАСТУПЛЕНИЯ РККА ПОД МОСКВОЙ, СВЯЗАННУЮ С МЕЖДУНАРОДНЫМ ФАКТОРОМ;
 - В) ПОСЛЕДСТВИЕ УСПЕШНОГО КОНТРНАСТУПЛЕНИЯ СОВЕТСКИХ ВОЙСК ПОД МОСКВОЙ ДЛЯ ДАЛЬНЕЙШИХ НАСТУПАТЕЛЬНЫХ ОПЕРАЦИЙ СССР.
- А) ЛИНИИ СНАБЖЕНИЯ БЫЛИ РАСТЯНУТЫ, ПОЭТОМУ ЛЕГКО ПОДДАВАЛИСЬ ПРОРЫВУ. ТЕХНИКА И ЛЮДИ НЕ БЫЛИ ГОТОВЫ К СУРОВОЙ ЗИМЕ.
 - Б) ПОД МОСКВУ БЫЛИ ПЕРЕБРОШЕНЫ РЕЗЕРВЫ ЛИЧНОГО СОСТАВА ИЗ СИБИРИ И ДАЛЬНЕГО ВОСТОКА, ТАК КАК ЯПОНИЯ И ТУРЦИЯ НЕ РЕШИЛИСЬ НАЧАТЬ ВОЙНУ ПРОТИВ СССР.
 - В) УСПЕХИ КОНТРНАСТУПЛЕНИЯ ПОД МОСКВОЙ В ДЕКАБРЕ 1941 Г. — ЯНВАРЕ 1942 Г. ПРИНЕСЛИ СОВЕТСКОМУ КОМАНДОВАНИЮ УВЕРЕННОСТЬ В УСПЕХЕ. ВСЛЕДСТВИЕ ЭТОГО БЫЛА РАЗРАБОТАНА И ПРОВЕДЕНА РЖЕВСКО-ВЯЗЕМСКАЯ СТРАТЕГИЧЕСКАЯ НАСТУПАТЕЛЬНАЯ ОПЕРАЦИЯ КАЛИНИНСКОГО И ЗАПАДНОГО ФРОНТОВ (8 ЯНВАРЯ — 20 АПРЕЛЯ 1942 Г.).

ЗАДАНИЕ 18. ПРИЧИННО-СЛЕДСТВЕННЫЕ СВЯЗИ

- ▶ 4. 17 ИЮЛЯ 1942 Г. — 2 ФЕВРАЛЯ 1943 Г. ШЛА СТАЛИНГРАДСКАЯ БИТВА. 25 ИЮЛЯ 1942 Г. НАЧАЛАСЬ БИТВА ЗА КАВКАЗ.
- ▶ УКАЖИТЕ:
- ▶ А) ПРИЧИНУ КАПИТУЛЯЦИИ ВОЙСК 6-Й АРМИИ ПАУЛЮСА ПОД СТАЛИНГРАДОМ;
- ▶ Б) ПРИЧИНУ УСПЕХА КОНТРНАСТУПЛЕНИЯ СОВЕТСКИХ ВОЙСК ПОД СТАЛИНГРАДОМ (ОПЕРАЦИЯ «УРАН»);
- ▶ В) ПОСЛЕДСТВИЕ УСПЕХА КОНТРНАСТУПЛЕНИЯ СОВЕТСКИХ ВОЙСК ПОД СТАЛИНГРАДОМ, ОКАЗАВШЕЕ ВЛИЯНИЕ НА ХОД БИТВЫ ЗА КАВКАЗ.

- ▶ А) ПРОВАЛ НЕМЦЕВ В КОТЕЛЬНИКОВСКОЙ ОПЕРАЦИИ (ОПЕРАЦИИ ВИНТЕРГЕВИТТЕР) ПО ОСВОБОЖДЕНИЮ ИЗ ОКРУЖЕНИЯ ВОЙСК ПАУЛЮСА. Ф. ПАУЛЮС СТРОГО ПОДЧИНЯЛСЯ ПРИКАЗУ ГИТЛЕРА НЕ ПОКИДАТЬ СТАЛИНГРАД, ИЗ-ЗА ЧЕГО СВОЕВРЕМЕННО НЕ ПРОВЁЛ АКТИВНЫХ ДЕЙСТВИЙ ПО ВЫХОДУ ИЗ КОЛЬЦА ОКРУЖЕНИЯ.
- ▶ Б) УДАРЫ БЫЛИ НАНЕСЕНЫ НА УЧАСТКАХ ФРОНТА, ГДЕ КРАСНОЙ АРМИИ ПРОТИВОСТОЯЛИ РУМЫНСКИЕ, ВЕНГЕРСКИЕ, ИТАЛЬЯНСКИЕ ЧАСТИ, КОТОРЫЕ БЫЛИ МЕНЕЕ БОЕСПОСОБНЫМИ, ЧЕМ НЕМЕЦКИЕ. К. К. РОКОССОВСКИЙ (КОМАНДУЮЩИЙ ДОНСКИМ ФРОНТОМ) ПРИНЯЛ РЕШЕНИЕ УДАРИТЬ ПО ДВУМ НАПРАВЛЕНИЯМ ОДНОВРЕМЕННО: С ЗАПАДА И ЮГА. ЭТО РАЗДЕЛИЛО СИЛЫ ГИТЛЕРОВЦЕВ НА ЧАСТИ И УСКОРИЛО ИХ КАПИТУЛЯЦИЮ. ДЛЯ КОНТРНАСТУПЛЕНИЯ ИЗ РЕЗЕРВА СТАВКИ БЫЛИ ВЫДЕЛЕНЫ ДОПОЛНИТЕЛЬНЫЕ СИЛЫ, ОБЕСПЕЧИВШИЕ ДВУКРАТНОЕ ПРЕИМУЩЕСТВО НАД СИЛАМИ ПРОТИВНИКА.
- ▶ В) УСПЕХ ПОД СТАЛИНГРАДОМ ПОЗВОЛИЛ НАПРАВИТЬ ВОЙСКА ДЛЯ УСПЕШНОГО ЗАВЕРШЕНИЯ БИТВЫ НА КАВКАЗЕ, ДЛИВШЕЙСЯ ДО ОСЕНИ 1943 Г. БЫЛ СОРВАН ПЛАН НЕМЕЦКОГО КОМАНДОВАНИЯ ЗАХВАТИТЬ КОНТРОЛЬ ЗА БАКИНСКОЙ НЕФТЬЮ.

**5 ИЮЛЯ — 23 АВГУСТА 1943 Г.
СОСТОЯЛАСЬ КУРСКАЯ БИТВА.**

- **УКАЖИТЕ:**
- **А) ПРИЧИНУ УСПЕХА СОВЕТСКИХ ВОЙСК В ПОДГОТОВКЕ К КУРСКОЙ БИТВЕ, СВЯЗАННУЮ С ДЕЙСТВИЯМИ СОВЕТСКИХ РАЗВЕДЧИКОВ И ДИВЕРСАНТОВ;**
- **Б) ПРИЧИНУ ПРОВАЛА НЕМЦАМИ ОПЕРАЦИИ «ЦИТАДЕЛЬ», СВЯЗАННУЮ С ПОЛЕВОЙ ФОРТИФИКАЦИЕЙ КРАСНОЙ АРМИИ;**
- **В) ПОСЛЕДСТВИЕ КУРСКОЙ БИТВЫ, ПОВЛИЯВШЕЕ НА УКРЕПЛЕНИЕ ОТНОШЕНИЙ ВНУТРИ АНТИГИТЛЕРОВСКОЙ КОАЛИЦИИ.**

- **А) РАБОТА СОВЕТСКИХ ДИВЕРСАНТОВ И РАЗВЕДЧИКОВ ПОЗВОЛИЛА ПОЙМАТЬ НЕМЕЦКОГО ВОЕННОГО (БРУНО ФОРМЕЛЯ) И РАЗУЗНАТЬ У НЕГО ТОЧНОЕ ВРЕМЯ НАЧАЛА ОПЕРАЦИИ «ЦИТАДЕЛЬ». ЭТО ПОМОГЛО СВОЕВРЕМЕННО И ЭФФЕКТИВНО ОРГАНИЗОВАТЬ АРТИЛЛЕРИЙСКУЮ КОНТРПОДГОТОВКУ И РАЗРУШИЛО ВРАЖЕСКИЕ ПЛАНЫ.**
- **Б) СОВЕТСКИЕ ВОЙСКА СОЗДАЛИ ЭШЕЛОНИРОВАННУЮ ОБОРОНУ С ПРОТИВОТАНКОВЫМИ ОРУДИЯМИ, КОТОРЫЕ БЫЛИ ВКОПАНЫ И ЗАМАСКИРОВАНЫ ПОД ЗЕМЛЁЙ. У ВРАГА НЕ БЫЛО КАРТЫ, ПОЭТОМУ ОН НЕ ЗНАЛ О МЕСТОНАХОЖДЕНИИ ОБЪЕКТОВ. ЭТО СТАЛО ДЛЯ НЕГО НЕОЖИДАННОСТЬЮ И ПРИНЕСЛО ПОТЕРИ КАК В САМОХОДНЫХ АРТИЛЛЕРИЙСКИХ УСТАНОВКАХ (САУ), ТАК И В ТАНКАХ.**
- **В) УСПЕХ КУРСКОЙ БИТВЫ И ДРУГИХ ОПЕРАЦИЙ ПОЗВОЛИЛ ПРОВЕСТИ ТЕГЕРАНСКУЮ КОНФЕРЕНЦИЮ В КОНЦЕ 1943 Г. И УКРЕПИТЬ АНТИГИТЛЕРОВСКУЮ КОАЛИЦИЮ. НА КОНФЕРЕНЦИИ ПРИСУТСТВОВАЛИ И. В. СТАЛИН, У. ЧЕРЧИЛЛЬ И Т. РУЗВЕЛЬТ. ПОКАЗАВ В СРАЖЕНИЯХ, НА ЧТО СПОСОБЕН СССР, СОВЕТСКАЯ ДЕЛЕГАЦИЯ ИМЕЛА РЫЧАГИ ДАВЛЕНИЯ НА СОЮЗНИКОВ. ЭТО ПОЗВОЛИЛО ЗАВЕРШИТЬ КОРЕННОЙ ПЕРЕЛОМ В ПОЛЬЗУ СОВЕТСКОГО СОЮЗА.**

28 НОЯБРЯ — 1 ДЕКАБРЯ 1943 Г. ПРОХОДИЛА ТЕГЕРАНСКАЯ КОНФЕРЕНЦИЯ. УКАЖИТЕ:

- А) ПРИЧИНУ ОТКАЗА СОЮЗНИКОВ СССР ОТКРЫВАТЬ ВТОРОЙ ФРОНТ В ЗАПАДНОЙ ЕВРОПЕ ДО ТЕГЕРАНСКОЙ КОНФЕРЕНЦИИ;
- Б) ПРИЧИНУ ОРГАНИЗАЦИИ ТЕГЕРАНСКОЙ КОНФЕРЕНЦИИ, СВЯЗАННУЮ С ИНТЕРЕСАМИ ВЕЛИКОБРИТАНИИ И США;
- В) ПОСЛЕДСТВИЕ ТЕГЕРАНСКОЙ КОНФЕРЕНЦИИ ДЛЯ РЕАЛИЗАЦИИ ИНТЕРЕСОВ СССР.

- А) В 1943 Г. СОЮЗНИКИ ВЫСАДИЛИСЬ НА СИЦИЛИИ, А ЗАТЕМ В КОНТИНЕНТАЛЬНОЙ ИТАЛИИ. ЭТИ ДЕЙСТВИЯ АНГЛИЯ И США СЧИТАЛИ ВТОРЫМ ФРОНТОМ, НО СССР ПОЛАГАЛ, ЧТО ВТОРОЙ ФРОНТ НУЖНО БЫЛО ОТКРЫВАТЬ ВО ФРАНЦИИ. ТАКИМ ОБРАЗОМ, МЕЖДУ УЧАСТНИКАМИ АНТИГИТЛЕРОВСКОЙ КОАЛИЦИИ ВОЗНИКАЛИ РАЗНОГЛАСИЯ. КРОМЕ ТОГО, АНГЛИЯ И США БЫЛИ ЗАИНТЕРЕСОВАНЫ В ОСЛАБЛЕНИИ КАК ГЕРМАНИИ, ТАК И СССР, ПОЭТОМУ ЗАНИМАЛИ ВЫЖИДАТЕЛЬНУЮ ПОЗИЦИЮ. СУЩЕСТВОВАЛИ И ИДЕОЛОГИЧЕСКИЕ ПРОТИВОРЕЧИЯ: АНГЛИЯ И США — КАПИТАЛИСТИЧЕСКИЕ СТРАНЫ, СССР — СОЦИАЛИСТИЧЕСКАЯ ДЕРЖАВА.
- Б) ВЕЛИКОБРИТАНИЯ СТРЕМИЛАСЬ ДОБИТЬСЯ ОБСУЖДЕНИЯ ВОПРОСА О ЛЕГИТИМАЦИИ «ПОЛЬСКОГО ПРАВИТЕЛЬСТВА В ИЗГНАНИИ» (НАХОДИЛОСЬ В ЛОНДОНЕ). США БЫЛИ ЗАИНТЕРЕСОВАНЫ В ВОВЛЕЧЕНИИ СССР В ВОЙНУ ПРОТИВ ЯПОНИИ.
- В) БЛАГОДАРЯ ДАВЛЕНИЮ И. В. СТАЛИНА В ТЕГЕРАНЕ БЫЛО ПРИНЯТО РЕШЕНИЕ, ЧТО ЛЕТОМ 1944 Г. НАЧНЁТСЯ ОПЕРАЦИЯ ВО ФРАНЦИИ (ОН СЧИТАЛ ЭТО ОТКРЫТИЕМ ВТОРОГО ФРОНТА). ПОСТАВКИ ПО ЛЕНД-ЛИЗУ БЫЛИ СУЩЕСТВЕННО УВЕЛИЧЕНЫ. ЗА СОВЕТСКИМ СОЮЗОМ ЗАКРЕПЛЯЛОСЬ ПРАВО ПРИСОЕДИНИТЬ К СЕБЕ ПОСЛЕ ПОБЕДЫ НАД ГЕРМАНИЕЙ ЧАСТЬ ВОСТОЧНОЙ ПРУССИИ (КЁНИГСБЕРГ И ДР.) В КАЧЕСТВЕ КОНТРИБУЦИИ.

В 1945 г. Великая Отечественная война закончилась победой СССР. Позже закончилась и Вторая мировая война. Укажите:

- А) причину организации Ялтинской конференции в феврале 1945 г.;
- Б) последствие Ялтинской конференции для Японии;
- В) последствие Потсдамской конференции для Германии.

- А) со вступлением Красной Армии на территорию стран Восточной Европы возникла необходимость созыва второй (после Тегерана) встречи глав государств, входящих в Антигитлеровскую коалицию. Для СССР успешно закончилась Висло-Одерская операция, была освобождена Варшава. Польский вопрос стал одним из самых актуальных повесток.
- Б) СССР дал обещание начать войну с Японией через 2–3 месяца после капитуляции Германии. В августе началась Советско-Японская кампания. По итогам войны Советский Союз смог вернуть территории, потерянные в ходе Русско-Японской войны 1904–1905 гг., например Южный Сахалин. Также все Курильские острова стали частью Советского государства.
- В) на Потсдамской конференции главным вопросом стала дальнейшая судьба побеждённой Германии. Были согласованы принципы совместной политики стран Антигитлеровской коалиции по отношению к Германии (принцип четырёх «Д»): денацификация, демилитаризация, демонополизация и демократизация. Военные преступники подлежали суду Международного трибунала.

В ПЕРИОД С 8 СЕНТЯБРЯ 1941 Г. ПО 27 ЯНВАРЯ 1944 Г. БЫЛА БЛОКАДА ЛЕНИНГРАДА. УКАЖИТЕ:

- А) ПОСЛЕДСТВИЕ ПОРАЖЕНИЙ В ПЕРВЫЕ МЕСЯЦЫ ВОЙНЫ ДЛЯ ЛЕНИНГРАДА;
- Б) ПРИЧИНУ, БЛАГОДАРЯ КОТОРОЙ ЛЕНИНГРАД ВЫСТОЯЛ И НЕ БЫЛ СДАН ПРОТИВНИКУ В ТЕЧЕНИЕ 872 ДНЕЙ БЛОКАДЫ;
- В) ПОСЛЕДСТВИЕ БЛОКАДЫ ЛЕНИНГРАДА, НАШЕДШЕЕ ОТРАЖЕНИЕ В КУЛЬТУРЕ.


- А) ДО ВЕЛИКОЙ ОТЕЧЕСТВЕННОЙ ВОЙНЫ В ЛЕНИНГРАДЕ ПРОЖИВАЛО БОЛЕЕ 3 МЛН ЧЕЛОВЕК. С НАЧАЛА ВОЙНЫ И ДО НАЧАЛА БЛОКАДЫ БЫЛИ ЭВАКУИРОВАНЫ 636 ТЫСЯЧ ЧЕЛОВЕК. 8 СЕНТЯБРЯ НЕМЕЦКИМ ВОЙСКАМ УДАЛОСЬ ПОЛНОСТЬЮ ЗАБЛОКИРОВАТЬ ГОРОД, ОТРЕЗАВ ЕГО ОТ ВНЕШНЕГО МИРА. В ЭТОТ ЖЕ ДЕНЬ ВРАЖЕСКОЙ АВИАЦИЕЙ БЫЛИ УНИЧТОЖЕНЫ БАДАЕВСКИЕ СКЛАДЫ С ПРОДОВОЛЬСТВИЕМ. С НОЯБРЯ 1941 Г. В ГОРОДЕ НАЧАЛСЯ ГОЛОД. ХЛЕБНЫЙ ПАЁК БЫЛ ОЧЕНЬ МАЛЕНЬКИМ.
- Б) СПАСАЛА ЛЕНИГРАДЦЕВ ДОРОГА ЖИЗНИ, КОТОРАЯ ПРОХОДИЛА ПО ЛАДОЖСКОМУ ОЗЕРУ. С 21 НОЯБРЯ 1941 Г. ПО ЭТОМУ МАРШРУТУ В ГОРОД ДОСТАВЛЯЛОСЬ ПРОДОВОЛЬСТВИЕ, БОЕПРИПАСЫ, А НА ОБРАТНОМ ПУТИ ЭВАКУИРОВАЛОСЬ ГРАЖДАНСКОЕ НАСЕЛЕНИЕ, В ПЕРВУЮ ОЧЕРЕДЬ ЖЕНЩИНЫ И ДЕТИ.
- В) Д. Д. ШОСТАКОВИЧ, НАХОДЯСЬ В ЭВАКУАЦИИ, ЗАКОНЧИЛ НАПИСАНИЕ ПРОИЗВЕДЕНИЯ, СТАВШЕГО МУЗЫКАЛЬНЫМ ПАМЯТНИКОМ ПОДВИГА ЛЕНИНГРАДА И ЕГО ЖИТЕЛЕЙ. ЭТО БЫЛА 7-Я («ЛЕНИНГРАДСКАЯ») СИМФОНИЯ. ЕЁ ПРЕМЬЕРА СОСТОЯЛАСЬ В БЛОКАДНОМ ГОРОДЕ В МАРТЕ 1942 Г. О. Ф. БЕРГГОЛЬЦ НАПИСАЛА «ЛЕНИНГРАДСКУЮ ПОЭМУ», А ТАКЖЕ БЫЛА АВТОРОМ КРЫЛАТОЙ ФРАЗЫ «НИКТО НЕ ЗАБЫТ, НИЧТО НЕ ЗАБЫТО», СТАВШЕЙ ЛОЗУНГОМ, ВЫСЕЧЕННЫМ НА МЕМОРИАЛЬНОЙ СТЕНЕ ПИСКАРЁВСКОГО КЛАДБИЩА, ГДЕ ПОХОРОНЕНЫ МНОГИЕ ЖЕРТВЫ БЛОКАДЫ.

ЗАДАНИЕ 19. ИСТОРИКО-КУЛЬТУРНЫЙ СТАНДАРТ (2013) ОСНОВНЫЕ ПОНЯТИЯ И ТЕРМИНЫ

- АНТИГИТЛЕРОВСКАЯ КОАЛИЦИЯ
- АНТИФАШИСТСКОЕ ПОДПОЛЬЕ
- БЛИЦКРИГ
- БЛОКАДА
- БРЕСТСКАЯ КРЕПОСТЬ
- ВТОРОЙ ФРОНТ
- ГЕНЕРАЛЬНЫЙ ПЛАН «ОСТ»
- ГКО
- ДЕПОРТАЦИЯ
- КАПИТУЛЯЦИЯ
- КОЛЛАБОРАЦИОНИЗМ
- КОНЦЛАГЕРЯ
- КОРЕННОЙ ПЕРЕЛОМ В ВОЙНЕ
- ЛЕНД-ЛИЗ
- НАРОДНОЕ ОПОЛЧЕНИЕ
- НАСИЛЬСТВЕННОЕ ПЕРЕСЕЛЕНИЕ
- ОККУПАЦИЯ
- ООН

- ОСВОБОДИТЕЛЬНАЯ МИССИЯ КРАСНОЙ АРМИИ
- ПАРТИЗАНСКИЕ ОТРЯДЫ
- ПЛАН «БАРБАРОССА»
- ПОТСДАМСКАЯ КОНФЕРЕНЦИЯ
- ПРИКАЗ № 227 («НИ ШАГУ НАЗАД!»)
- РЕПАРАЦИИ
- РЕПАТРИАЦИЯ
- ТЕГЕРАНСКАЯ КОНФЕРЕНЦИЯ
- ХОЛОКОСТ
- ЭВАКУАЦИЯ
- ЯДЕРНОЕ ОРУЖИЕ
- ЯЛТИНСКАЯ КОНФЕРЕНЦИЯ
- «БАНДЕРОВЦЫ»
- «ВЛАСОВЦЫ»
- «ЕВРЕЙСКИЙ АНТИФАШИСТСКИЙ КОМИТЕТ»
- «КУКРЫНИКСЫ»
- «ЛЕСНЫЕ БРАТЬЯ»

«СТРАННАЯ ВОЙНА»



➤ ИСПОЛЬЗУЯ ЗНАНИЯ ПО ИСТОРИИ РОССИИ, РАСКРОЙТЕ СМЫСЛ ПОНЯТИЙ. ПРИВЕДИТЕ ОДИН ИСТОРИЧЕСКИЙ ФАКТ, КОНКРЕТИЗИРУЮЩИЙ КАЖДОЕ ПОНЯТИЕ ПРИМЕНИТЕЛЬНО К ИСТОРИИ РОССИИ. ПРИВЕДЁННЫЙ ФАКТ НЕ ДОЛЖЕН СОДЕРЖАТЬСЯ В ДАННОМ ВАМИ ОПРЕДЕЛЕНИИ ПОНЯТИЯ.

- БЛИЦКРИГ
- ДОРОГА ЖИЗНИ
- АНТИФАШИСТСКОЕ ПОДПОЛЬЕ
- ГКО
- КОРЕННОЙ ПЕРЕЛОМ (В ХОДЕ ВЕЛИКОЙ ОТЕЧЕСТВЕННОЙ ВОЙНЫ)
- ХОЛОКОСТ
- МОБИЛИЗАЦИЯ
- ВТОРОЙ ФРОНТ
- ВОЕННАЯ БЛОКАДА
- ЭВАКУАЦИЯ
- ДЕПОРТАЦИЯ
- КАПИТУЛЯЦИЯ
- АНТИГИТЛЕРОВСКАЯ КОАЛИЦИЯ
- ЛЕНД-ЛИЗ
- НЮРНБЕРГСКИЙ ПРОЦЕСС
- «БОЛЬШАЯ ТРОЙКА» (В ГОДЫ ВТОРОЙ МИРОВОЙ ВОЙНЫ)
- КОЛЛАБОРАЦИОНИЗМ

- **БЛИЦКРИГ** - МЕТОД ВЕДЕНИЯ МОЛНИЕНОСНОЙ ВОЙНЫ, СОГЛАСНО КОТОРОМУ ПОБЕДА ДОСТИГАЕТСЯ В КОРОТКИЕ СРОКИ, ИСЧИСЛЯЕМЫЕ ДНЯМИ, НЕДЕЛЯМИ ИЛИ МЕСЯЦАМИ, ДО ТОГО, КАК ПРОТИВНИК СУМЕЕТ МОБИЛИЗОВАТЬ И РАЗВЕРНУТЬ СВОИ ОСНОВНЫЕ ВОЕННЫЕ СИЛЫ. ТАКТИКА БЛИЦКРИГА БЫЛА ПОЛОЖЕНА В ОСНОВУ НАСТУПАТЕЛЬНОГО ПЛАНА ГЕРМАНИИ НА СССР (ОПЕРАЦИЯ «БАРБАРОССА»).
- **ГКО (ГОСУДАРСТВЕННЫЙ КОМИТЕТ ОБОРОНЫ)** - ЧРЕЗВЫЧАЙНЫЙ ОРГАН РУКОВОДСТВА СТРАНОЙ В ГОДЫ ВЕЛИКОЙ ОТЕЧЕСТВЕННОЙ ВОЙНЫ, СОСРЕДОТОЧИВШИЙ В СВОИХ РУКАХ ВСЮ ПОЛНОТУ ВЛАСТИ. ГКО БЫЛ ОБРАЗОВАН 30 ИЮНЯ 1941 Г.; ПРЕДСЕДАТЕЛЕМ ГКО БЫЛ И. В. СТАЛИН.
- **МОБИЛИЗАЦИЯ** - КОМПЛЕКС МЕРОПРИЯТИЙ, ОБЕСПЕЧИВАЮЩИХ ПЕРЕВОД ВООРУЖЁННЫХ СИЛ И ОРГАНИЗАЦИЙ ТЫЛА НА ВОЕННОЕ ПОЛОЖЕНИЕ ПОСЛЕ НАЧАЛА ВЕЛИКОЙ ОТЕЧЕСТВЕННОЙ ВОЙНЫ. ЭКОНОМИКА СССР БЫЛА ПЕРЕВЕДЕНА НА «ВОЕННЫЕ РЕЛЬСЫ», НАЧАЛСЯ МАССОВЫЙ ПРИЗЫВ ВОЕННООБЯЗАННЫХ ЗАПАСА В КРАСНУЮ АРМИЮ.
- **ЭВАКУАЦИЯ** - КОМПЛЕКС МЕРОПРИЯТИЙ ПО ОРГАНИЗОВАННОМУ ВЫВОЗУ (ВЫВОДУ) ОБЪЕКТОВ ЭКОНОМИКИ И НАСЕЛЕНИЯ ИЗ ОПАСНЫХ ЗОН И РАЗМЕЩЕНИЮ ИХ В БЕЗОПАСНЫХ РАЙОНАХ. ПОСЛЕ НАЧАЛА ВЕЛИКОЙ ОТЕЧЕСТВЕННОЙ ВОЙНЫ ВЫВОЗ НАСЕЛЕНИЯ, ПРЕДПРИЯТИЙ, МАТЕРИАЛЬНЫХ ЦЕННОСТЕЙ КООРДИНИРОВАЛ СОВЕТ ПО ЭВАКУАЦИИ
- **АНТИГИТЛЕРОВСКАЯ КОАЛИЦИЯ** - СОЮЗ СССР, США, ВЕЛИКОБРИТАНИИ И РЯДА ДРУГИХ ГОСУДАРСТВ, СЛОЖИВШИЙСЯ ПОСЛЕ НАПАДЕНИЯ ГЕРМАНИИ НА СССР И НАПРАВЛЕННЫЙ ПРОТИВ НАЦИСТСКОЙ ГЕРМАНИИ, А ТАКЖЕ ЕЁ СОЮЗНИКОВ. В РАМКАХ СОТРУДНИЧЕСТВА СТРАН АНТИГИТЛЕРОВСКОЙ КОАЛИЦИИ США ОКАЗЫВАЛИ ПОМОЩЬ ПО ЛЕНД-ЛИЗУ.
- **«БОЛЬШАЯ ТРОЙКА»** (В ГОДЫ ВТОРОЙ МИРОВОЙ ВОЙНЫ) - НАЗВАНИЯ ОСНОВНЫХ СТРАН — УЧАСТНИЦ АНТИГИТЛЕРОВСКОЙ КОАЛИЦИИ — СССР, США И ВЕЛИКОБРИТАНИИ, А ТАКЖЕ ФАМИЛИИ РУКОВОДИТЕЛЕЙ ЭТИХ СТРАН: И. В. СТАЛИНА, ФР. РУЗВЕЛЬТА И У. ЧЕРЧИЛЛЯ.«БОЛЬШАЯ ТРОЙКА» ПРОВОДИЛА ВСТРЕЧИ ЛИДЕРОВ — ТЕГЕРАНСКАЯ, ЯЛТИНСКАЯ И БЕРЛИНСКАЯ КОНФЕРЕНЦИИ.
- **ДОРОГА ЖИЗНИ** - ЕДИНСТВЕННАЯ ТРАНСПОРТНАЯ МАГИСТРАЛЬ ЧЕРЕЗ ЛАДОЖСКОЕ ОЗЕРО, КОТОРАЯ СВЯЗЫВАЛА В 1941– 1943 ГГ. БЛОКАДНЫЙ ЛЕНИНГРАД С ОСТАЛЬНОЙ СТРАНОЙ. ОБЩЕЕ КОЛИЧЕСТВО ГРУЗОВ, ПЕРЕВЕЗЁННЫХ В ЛЕНИНГРАД ПО ДОРОГЕ ЖИЗНИ ЗА ВЕСЬ ПЕРИОД ЕЁ ДЕЙСТВИЯ, СОСТАВИЛО СВЫШЕ 1600 ТЫСЯЧ ТОНН; ЗА ЭТО ЖЕ ВРЕМЯ ИЗ ГОРОДА БЫЛО ЭВАКУИРОВАНО БОЛЕЕ 1,3 МЛН ЧЕЛОВЕК.

- **КОРЕННЫЙ ПЕРЕЛОМ** (В ХОДЕ ВЕЛИКОЙ ОТЕЧЕСТВЕННОЙ ВОЙНЫ) - ЭТАП ВЕЛИКОЙ ОТЕЧЕСТВЕННОЙ ВОЙНЫ, В ХОДЕ КОТОРОГО СТРАТЕГИЧЕСКАЯ ИНИЦИАТИВА ПЕРЕШЛА ОТ НЕМЕЦКИХ ВОЙСК К КРАСНОЙ АРМИИ. В ХОДЕ КОРЕННОГО ПЕРЕЛОМА БЫЛО ОБЕСПЕЧЕНО ПРЕВОСХОДСТВО ОБОРОННОЙ ПРОМЫШЛЕННОСТИ И ТЫЛОВОЙ ЭКОНОМИКИ СССР НАД НЕМЕЦКОЙ.
- **ВТОРОЙ ФРОНТ** - НАИМЕНОВАНИЕ БОЕВЫХ ДЕЙСТВИЙ, ПРОХОДИВШИХ ВО ВРЕМЯ ВТОРОЙ МИРОВОЙ ВОЙНЫ В ЗАПАДНОЙ ЕВРОПЕ И НАЧАВШИХСЯ С ВЫСАДКИ СОЮЗНИКОВ В НОРМАНДИИ В ИЮНЕ 1944 Г. ПРОБЛЕМА ВТОРОГО ФРОНТА ОБСУЖДАЛАСЬ НА ТЕГЕРАНСКОЙ КОНФЕРЕНЦИИ «БОЛЬШОЙ ТРОЙКИ».
- **ДЕПОРТАЦИЯ** - ПРИНУДИТЕЛЬНАЯ ВЫСЫЛКА, ПЕРЕСЕЛЕНИЕ ПО НАЦИОНАЛЬНОМУ И СОЦИАЛЬНОМУ ПРИЗНАКАМ, ИНДИВИДУАЛЬНО ИЛИ ЦЕЛЫМИ ГРУППАМИ ЛЮДЕЙ, КОТОРЫХ ВЛАСТЬ СЧИТАЕТ НЕБЛАГОНАДЁЖНЫМИ, В ДРУГОЕ ГОСУДАРСТВО ИЛИ ДРУГУЮ МЕСТНОСТЬ. В 30-Е ГГ. XX В. ДЕПОРТАЦИИ ПОДВЕРГАЛИ КРЕПКИХ КРЕСТЬЯН, НЕ ЖЕЛАВШИХ ИДТИ В КОЛХОЗЫ, ИХ РАСКУЛАЧИВАЛИ И ВЫСЫЛАЛИ ЗА УРАЛ, В СИБИРЬ, В СРЕДНЮЮ АЗИЮ; В ГОДЫ ВЕЛИКОЙ ОТЕЧЕСТВЕННОЙ ВОЙНЫ ДЕПОРТАЦИИ ПОДВЕРГЛИСЬ ЦЕЛЫЕ НАРОДЫ: ИНГУШИ, КАЛМЫКИ, ПОВОЛЖСКИЕ НЕМЦЫ И ДР.
- **ЛЕНД-ЛИЗ** - ГОСУДАРСТВЕННАЯ ПРОГРАММА, ПО КОТОРОЙ СОЕДИНЁННЫЕ ШТАТЫ АМЕРИКИ ПЕРЕДАВАЛИ СВОИМ СОЮЗНИКАМ ПО АНТИГИТЛЕРОВСКОЙ КОАЛИЦИИ ВО ВТОРОЙ МИРОВОЙ ВОЙНЕ (В ТОМ ЧИСЛЕ СССР), БОЕПРИПАСЫ, ТЕХНИКУ, ПРОДОВОЛЬСТВИЕ И СТРАТЕГИЧЕСКОЕ СЫРЬЁ. 7 НОЯБРЯ 1941 Г. США ОФИЦИАЛЬНО РАСПРОСТРАНИЛИ ДЕЙСТВИЕ ЗАКОНА О ЛЕНД-ЛИЗЕ НА СССР, ХОТЯ В РЕАЛЬНОСТИ ПОСТАВКИ НАЧАЛИСЬ СРАЗУ ПОСЛЕ НАПАДЕНИЯ ГЕРМАНИИ НА СОВЕТСКИЙ СОЮЗ.
- **КОЛЛАБОРАЦИОНИЗМ** - ДОБРОВОЛЬНОЕ ОСОЗНАННОЕ СОТРУДНИЧЕСТВО С ОККУПАНТАМИ ВО ВРЕД СВОЕЙ РОДИНЕ. ПРИМЕРОМ КОЛЛАБОРАЦИОНИЗМА В ГОДЫ ВЕЛИКОЙ ОТЕЧЕСТВЕННОЙ ВОЙНЫ БЫЛИ ВЛАСОВЦЫ; НА ОККУПИРОВАННОЙ ТЕРРИТОРИИ КОЛЛАБОРАЦИОНИСТЫ СЛУЖИЛИ ВО ВСПОМОГАТЕЛЬНЫХ ВОЙСКАХ И ПОЛИЦИИ, ИЗ НИХ НАЗНАЧАЛИСЬ СТАРОСТЫ И БУРГОМИСТРЫ.

- **АНТИФАШИСТСКОЕ ПОДПОЛЬЕ** - ОБЩЕЕ НАЗВАНИЕ ГРУПП И ОРГАНИЗАЦИЙ, БОРОВШИХСЯ С НАЦИСТСКИМ ОККУПАЦИОННЫМ РЕЖИМОМ В ПЕРИОД ВЕЛИКОЙ ОТЕЧЕСТВЕННОЙ ВОЙНЫ. В КРАСНОДОНЕ БОРОЛАСЬ ПОДПОЛЬНАЯ АНТИФАШИСТСКАЯ КОМСОМОЛЬСКАЯ ОРГАНИЗАЦИЯ «МОЛОДАЯ ГВАРДИЯ», ДЕЯТЕЛЬНОСТЬ КОТОРОЙ ЛЕГЛА В ОСНОВУ ОДНОИМЕННОГО РОМАНА А. А. ФАДЕЕВА; ЗА УЧАСТИЕ В ПОДПОЛЬНОЙ АНТИФАШИСТСКОЙ ОРГАНИЗАЦИИ В НЕМЕЦКОМ ПЛЕНУ БЫЛ КАЗНЁН ИЗВЕСТНЫЙ ТАТАРСКИЙ ПОЭТ МУСА ДЖАЛИЛЬ.
- **ХОЛОКОСТ** - СИСТЕМАТИЧЕСКОЕ ПРЕСЛЕДОВАНИЕ И ИСТРЕБЛЕНИЕ НАЦИСТАМИ ЕВРЕЕВ В ГОДЫ ВТОРОЙ МИРОВОЙ ВОЙНЫ. ПРИМЕРОМ ХОЛОКОСТА СТАЛ БАБИЙ ЯР В КИЕВЕ, ГДЕ В СЕНТЯБРЕ 1941 Г. БЫЛО РАССТРЕЛЯНО СВЫШЕ 100 ТЫС. ЕВРЕЕВ.
- **ВОЕННАЯ БЛОКАДА** - ДЕЙСТВИЯ, НАПРАВЛЕННЫЕ НА ИЗОЛЯЦИЮ НЕПРИЯТЕЛЬСКОГО ОБЪЕКТА ПУТЁМ ПРЕСЕЧЕНИЯ ЕГО ВНЕШНИХ СВЯЗЕЙ С ЦЕЛЬЮ ИСТОЩЕНИЯ И ПРИНУЖДЕНИЯ К КАПИТУЛЯЦИИ. БЛОКАДА ЛЕНИНГРАДА В ГОДЫ ВЕЛИКОЙ ОТЕЧЕСТВЕННОЙ ВОЙНЫ ПРОДОЛЖАЛАСЬ ПОЧТИ 900 ДНЕЙ.
- **КАПИТУЛЯЦИЯ** - ПРЕКРАЩЕНИЕ ВООРУЖЁННОЙ БОРЬБЫ И СДАЧА ПОБЕДИТЕЛЮ НА ПРЕДЪЯВЛЕННЫХ ИМ УСЛОВИЯХ. В. КЕЙТЕЛЬ В МАЕ 1945 Г. В БЕРЛИНЕ ПОДПИСАЛ АКТ О БЕЗОГОВОРОЧНОЙ КАПИТУЛЯЦИИ ГЕРМАНИИ.
- **НЮРНБЕРГСКИЙ ПРОЦЕСС** - МЕЖДУНАРОДНЫЙ СУДЕБНЫЙ ТРИБУНАЛ НАД ГЕРМАНСКИМИ НАЦИСТСКИМИ ПРЕСТУПНИКАМИ. НЮРНБЕРГСКИЙ ПРОЦЕСС ПРОХОДИЛ С НОЯБРЯ 1945 ПО ОКТЯБРЬ 1946 Г.

ЗАДАНИЕ 20. СРАВНЕНИЕ ИСТОРИЧЕСКИХ ЯВЛЕНИЙ, ПРОЦЕССОВ, СОБЫТИЙ

- ▶ СССР и США воевали во Второй мировой войне против Германии. Используя исторические знания, приведите аргументы в подтверждение точки зрения, что обе страны внесли огромный вклад в разгром нацистской Германии: один аргумент для СССР и один для США. При изложении аргументов обязательно используйте исторические факты.

Правильный ответ должен содержать аргументы:

- ▶ 1) для СССР, например: большая часть решающих сражений Второй мировой войны произошли на советско-германском фронте (Московская наступательная операция, Сталинградская битва, битва на Курской дуге, Берлинская операция и др.): на нём было сосредоточено более 2/3 сухопутных сил Германии (до 1944 г. — 70–75%); на восточном фронте Вермахт потерял более 3/4 личного состава, танков, артиллерии, авиации.
- ▶ 2) для США, например: США осуществляли поставки по ленд-лизу в самый тяжёлый для советского союза период на фронте, когда ещё не было максимально налажено собственное производство вооружения и техники, а потери были очень велики. Кроме военных поставок США поставляли в СССР большое количество пороха, снарядов, горючего, цветных металлов, стали и станков, необходимых для промышленного производства и снабжения армии. При этом высадка союзников (в том числе и войск США) в Нормандии существенно приблизила окончательный разгром нацистской Германии и завершение войны.

ЗАДАНИЯ 1-21. ПЕРСОНАЛИИ ИСТОРИКО-КУЛЬТУРНЫЙ СТАНДАРТ (2013)

А.И. АНТОНОВ
И.Х. БАГРАМЯН
Б.Л. ВАННИКОВ
А.М. ВАСИЛЕВСКИЙ
Н.Ф. ВАТУТИН
Н.А. ВОЗНЕСЕНСКИЙ
К.Е. ВОРОШИЛОВ
Л.А. ГОВОРОВ
А.А. ГРОМЫКО
Л.М. ДОВАТОР
М.А. ЕГОРОВ
А.А. ЖДАНОВ
Г.К. ЖУКОВ

Р. ЗОРГЕ
Н.И. КУЗНЕЦОВ
Н.Г. КУЗНЕЦОВ
М. КАЗЕЙ
М.В. КАНТАРИЯ
Д.М. КАРБЫШЕВ
В.Г. КЛОЧКОВ
С.А. КОВПАК
И.Н. КОЖЕДУБ
И.С. КОНЕВ
З.А. КОСМОДЕМЬЯНСКАЯ
В. КОТИК
О.В. КОШЕВОЙ
А.А. ПЕЧЕРСКИЙ

А.И. ПОКРЫШКИН
М.М. ЛИТВИНОВ
И.М. МАЙСКИЙ
Р.Я. МАЛИНОВСКИЙ
В.А. МАЛЫШЕВ
К.А. МЕРЕЦКОВ
В.М. МОЛОТОВ
Х.Н. НУРАДИЛОВ
Д.Г. ПАВЛОВ
И.В. ПАНФИЛОВ
М.Г. ПЕРВУХИН
П.К. ПОНОМАРЕНКО
К.К. РОКОССОВСКИЙ
И.В. СТАЛИН

В.В. ТАЛАЛИХИН
С.К. ТИМОШЕНКО
Ф.И. ТОЛБУХИН
Д.Ф. УСТИНОВ
А.Ф. ФЕДОРОВ
И.Д. ЧЕРНЯХОВСКИЙ
В.И. ЧУЙКОВ
Б.М. ШАПОШНИКОВ
А.И. ШАХУРИН
Н.М. ШВЕРНИК
М.С. ШУМИЛОВ

О.Ф. Берггольц, В.С. Гроссман, М. Джалиль, В.И. Лебедев-Кумач, Ю.Б. Левитан, Л.А. Русланова, патриарх Сергий, К.С. Симонов, А.Т. Твардовский, Л.О. Утесов, Д.Д. Шостакович, К.И. Шульженко

В.А. Дегтярев, С.В. Ильюшин, М.И. Кошкин, С.А. Лавочкин, Е.О. Патон, А.Н. Туполев, Г.С. Шпагин, А.С. Яковлев

НАЧАЛЬНИКИ ГЕНЕРАЛЬНОГО ШТАБА ВО ВРЕМЯ ВОЙНЫ



**Жуков Георгий
Константинович
(январь – июль 1941)**



**Шапошников Борис
Михайлович
(июль 1941 – май
1942)**



**Василевский
Александр
Михайлович
(май 1942 –
февраль 1945)**



**Антонов Алексей
Иннокентьевич
(февраль 1945 –
март 1946)**



Маршал Советского Союза
Г. К. ЖУКОВ.



Маршал Советского Союза
А. М. ВАСИЛЕВСКИЙ.



Маршал Советского Союза
К. Е. ВОРОШИЛОВ.



Маршал Советского Союза
С. К. ТИМОШЕНКО.



Маршал Советского Союза
С. М. БУДЕННЫЙ.



Маршал Советского Союза
Н. А. МЕРЦКОВ.



Маршал Советского Союза
Л. А. ГОБУНОВ.



Маршал Советского Союза
Н. Н. РОКОССОВСКИЙ.



Маршал Советского Союза
Н. С. КОНЕВ.



Маршал Советского Союза
Р. Я. МАЛИНОВСКИЙ.



Маршал Советского Союза
Б. М. ТОЛБУХИН.



Главный Маршал артиллерии
Н. Н. ВОРНОВ.



Главный Маршал кавалерии
А. А. НОВИКОВ.



Главный Маршал инженерии
А. Е. ГОЛОВАНОВ.



Маршал бронетанковых войск
Л. Н. ФЕДОРЧЕНКО.



Маршал механизированных войск
М. П. ВОРОБЬЕВ.



Маршал войск связи
И. Т. ПЕРЫСИНИЧ.



Адмирал флота
Н. Г. КУЗНЕЦОВ.



Адмирал флота
Н. С. ИСАКОВ.



Начальник Главного управления
автомобильного транспорта
Д. ЗЯЕНХАУЗЕР.



Первый заместитель
начальника Главного управления
автомобильного транспорта
фельдмаршал Г. АЛЕКСАНДЕР.



Командующий 21-й армейской группой
фельдмаршал Б. МОНТГОМЕРИ.

МАРШАЛЫ ПОБЕДЫ



Маршал Г. К. Жуков



Маршал
А. М. Василевский



Генералиссимус
И. В. Сталин



Маршал
К. К. Рокоссовский



Маршал И. С. Конев



Маршал
Р. Я. Малиновский



Маршал
Ф. И. Толбухин



Маршал
Л. А. Говоров



Маршал Г. К. Жуков




Маршал
К.А. Мерецков




Генерал армии
А.И. Антонов

ЭТОТ ЧЕЛОВЕК КОМАНДОВАЛ ВОЙСКАМИ 1-ГО УКРАИНСКОГО ФРОНТА,
ОСВОБОЖДАВШИМИ КОНЦЛАГЕРЬ ОСВЕНЦИМ.






ЭТОТ ЧЕЛОВЕК В ГОДЫ ПЕРВОЙ МИРОВОЙ ВОЙНЫ НАГРАЖДЕН ЧЕТЫРЬМЯ ГЕОРГИЕВСКИМИ КРЕСТАМИ, В ГОДЫ ГРАЖДАНСКОЙ ВОЙНЫ КОМАНДОВАЛ 1-Й КОННОЙ АРМИЕЙ, В ГОДЫ ВЕЛИКОЙ ОТЕЧЕСТВЕННОЙ ВОЙНЫ КОМАНДОВАЛ КАВАЛЕРИЙСКИМИ ВОЙСКАМИ.





ЭТОТ ЧЕЛОВЕК БЫЛ КОМАНДУЮЩИМ УРАЛЬСКИМ
ВОЕННЫМ ОКРУГОМ В 1948-1953 ГОДАХ.




ЭТОТ ЧЕЛОВЕК БЫЛ МАРШАЛОМ ДВУХ СТРАН.






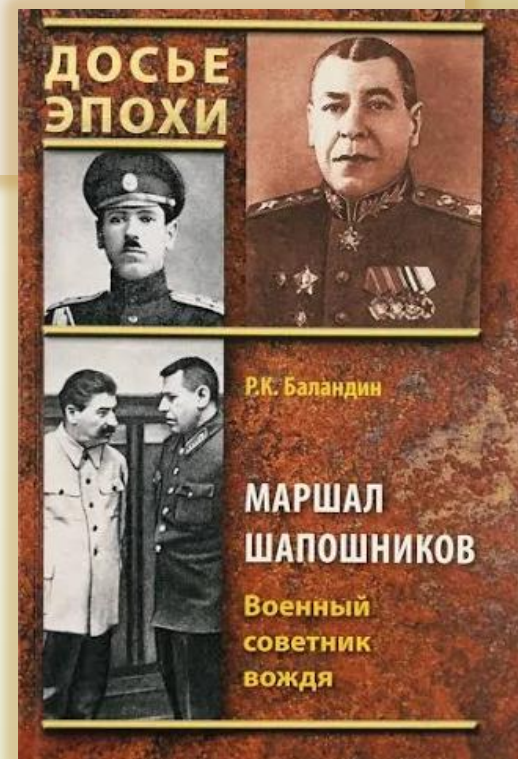
ЭТОТ ВОЕНАЧАЛЬНИК БЫЛ НАЧАЛЬНИКОМ
ГЕНШТАБА В 1942-1945 ГОДАХ,
КОМАНДОВАЛ СОВЕТСКИМИ ВОЙСКАМИ
В МАНЬЖУРСКОЙ ОПЕРАЦИИ



- ОН БЫЛ НАРОДНЫМ КОМИССАРОМ ОБОРОНЫ СССР В 1940-1941 ГОДАХ, КОМАНДОВАЛ ХАРЬКОВСКИМ, СЕВЕРО-КАВКАЗСКИМ, КИЕВСКИМ ВОЕННЫМИ ОКРУГАМИ, ФРОНТАМИ В ВЕЛИКОЙ ОТЕЧЕСТВЕННОЙ ВОЙНЕ.





- ▶ **ВОЕННЫЙ ТЕОРЕТИК. МНОГО И УСПЕШНО РАБОТАЛ НАД РАЗВИТИЕМ ВОЕННОЙ НАУКИ, НАД ОБОБЩЕНИЕМ БОЕВОГО ОПЫТА ПЕРВОЙ МИРОВОЙ И ГРАЖДАНСКОЙ ВОЙН. УЧАСТВОВАЛ В КОМИССИИ ПО РАЗРАБОТКЕ УСТАВОВ РККА. МАРШАЛ СОВЕТСКОГО СОЮЗА (1940). УМЕР ОТ ТЯЖЁЛОЙ БОЛЕЗНИ (ТУБЕРКУЛЁЗ ЛЁГКИХ) 26 МАРТА 1945 ГОДА, НЕ ДОЖИВ 44 ДНЯ ДО ПОБЕДЫ.**






- В МАЕ 1941 ГОДА, ЗА МЕСЯЦ ДО НАЧАЛА ВОЙНЫ, НАЗНАЧЕН НАЧАЛЬНИКОМ АРТИЛЛЕРИЙСКОЙ АКАДЕМИИ РККА ИМЕНИ Ф. Э. ДЗЕРЖИНСКОГО. С 23 ИЮЛЯ 1941 ГОДА НАХОДИТСЯ НА ФРОНТЕ, ГДЕ ВЫПОЛНЯЕТ ОБЯЗАННОСТИ НАЧАЛЬНИКА АРТИЛЛЕРИИ ЗАПАДНОГО СТРАТЕГИЧЕСКОГО НАПРАВЛЕНИЯ. КОМАНДУЮЩИЙ ВОЙСКАМИ ЛЕНИНГРАДСКОГО ФРОНТА.






- ▶ В АВГУСТЕ 1941 ГОДА НАЗНАЧЕН КОМАНДУЮЩИМ РЕЗЕРВНОЙ АРМИЕЙ ЮЖНОГО ФРОНТА. ВО ГЛАВЕ АРМИИ УЧАСТВОВАЛ В ДОНБАССКО-РОСТОВСКОЙ ОБОРОНИТЕЛЬНОЙ ОПЕРАЦИИ. 25 ДЕКАБРЯ 1941 ГОДА НАЗНАЧЕН КОМАНДУЮЩИМ ВОЙСКАМИ ЮЖНОГО ФРОНТА. В МАЕ 1944 ГОДА ПЕРЕВЕДЁН КОМАНДУЮЩИМ НА 2-Й УКРАИНСКИЙ ФРОНТ, КОТОРЫЙ ВМЕСТЕ С 3-М УКРАИНСКИМ ФРОНТОМ (ПОД КОМАНДОВАНИЕМ Ф. И. ТОЛБУХИНА) ПРОДОЛЖИЛ НАСТУПЛЕНИЕ НА ЮЖНОМ НАПРАВЛЕНИИ, РАЗГРОМИВ ВОЙСКА ГЕРМАНСКОЙ ГРУППЫ АРМИЙ «ЮЖНАЯ УКРАИНА» В ХОДЕ ЯССКО-КИШИНЁВСКОЙ СТРАТЕГИЧЕСКОЙ ОПЕРАЦИИ. НАРОДНЫЙ ГЕРОЙ ЮГОСЛАВИИ (1964).

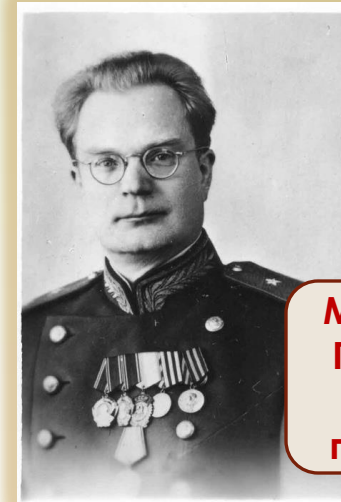


- С 17 ДЕКАБРЯ 1941 ГОДА — КОМАНДУЮЩИЙ ВОЙСКАМИ ВОЛХОВСКОГО ФРОНТА. В ЭТОЙ ДОЛЖНОСТИ ПРОВЁЛ ЛЮБАНСКУЮ ОПЕРАЦИЮ. В СЕРЕДИНЕ ФЕВРАЛЯ 1944 ГОДА, КОГДА ВОЛХОВСКИЙ ФРОНТ БЫЛ УПРАЗДНЁН, НАЗНАЧЕН КОМАНДУЮЩИМ ВОЙСКАМИ КАРЕЛЬСКОГО ФРОНТА. НАНЕСШЕГО ПОРАЖЕНИЯ ФИНСКИМ И НЕМЕЦКИМ ВОЙСКАМ НА СЕВЕРНОМ НАПРАВЛЕНИИ. ВЕЛИКУЮ ОТЕЧЕСТВЕННУЮ ВОЙНУ ЗАКОНЧИЛ НА ТЕРРИТОРИИ НОРВЕГИИ В ОКТЯБРЕ 1944 ГОДА. КАВАЛЕР СЕМИ ОРДЕНОВ ЛЕНИНА.





**Дмитрий Федорович Устинов (народный комиссар вооружения СССР).
Вячеслав Александрович Малышев (нарком танковой промышленности).
Борис Львович Ванников (нарком вооружения, в годы войны – нарком боеприпасов, «ядерный нарком»).**



**Михаил Георгиевич
Первухин (нарком
химической
промышленности)**



**Алексей Иванович Шахурин
(нарком авиационной
промышленности)**



- **ХАНПАША НУРАДИЛОВИЧ НУРАДИЛОВ (1924-1942)**
- ПУЛЕМЁТЧИК, КОМАНДИР ПУЛЕМЁТНОГО ВЗВОДА, ГЕРОЙ СОВЕТСКОГО СОЮЗА. УНИЧТОЖИЛ БОЛЕЕ 920 НЕМЕЦКИХ СОЛДАТ, 7 ПУЛЕМЁТНЫХ РАСЧЁТОВ, ВЗЯЛ В ПЛЕН 12 СОЛДАТ ПРОТИВНИКА. ЧЕТЫРЕЖДЫ ПРЕДСТАВЛЯЛСЯ К ЗВАНИЮ ГЕРОЯ СОВЕТСКОГО СОЮЗА. СЧИТАЕТСЯ САМЫМ РЕЗУЛЬТАТИВНЫМ СОВЕТСКИМ ПУЛЕМЁТЧИКОМ ВЕЛИКОЙ ОТЕЧЕСТВЕННОЙ ВОЙНЫ.

ПИОНЕРЫ-ГЕРОИ



1. ВИТЯ КОРОБКОВ
2. АБРАМ (МУСЯ ПИНКЕНЗОН)
3. НАДЯ БОГДАНОВА
4. ВИТЯ ХОМЕНКО
5. ВОЛОДЯ КАЗНАЧЕЕВ
6. САША БОРОДУЛИН
7. **МАРАТ КАЗЕЙ**
8. ВИЛОР ЧЕКМАК
9. ГРИША АКОПЯН
10. **ЗИНА ПОРТНОВА**
11. САША КОЛЕСНИКОВ
12. **ВАЛЯ КОТИК**
13. САША ЧЕКАЛИН
14. ЮТА БОНДАРОВСКАЯ
15. **ЛЕНЯ ГОЛИКОВ**



**Володя
Дубинин
(1927-1942)**



ЛЕОНИД АЛЕКСАНДРОВИЧ ГОЛИКОВ (1926-1933) – ПИОНЕР-ГЕРОЙ, ТИМУРОВЕЦ, ПАРТИЗАН, ГЕРОЙ СОВЕТСКОГО СОЮЗА (ПОСМЕРТНО)



- РОДИЛСЯ В СЕМЬЕ РАБОЧЕГО.
- ОКОНЧИЛ 7 КЛАССОВ. РАБОТАЛ НА ФАНЕРНОМ ЗАВОДЕ № 2 ПОСЁЛКА ПАРФИНО НОВОГОРОДСКОЙ ОБЛАСТИ.
- БРИГАДНЫЙ РАЗВЕДЧИК 67-ГО ОТРЯДА 4-Й ЛЕНИНГРАДСКОЙ ПАРТИЗАНСКОЙ БРИГАДЫ, ДЕЙСТВОВАВШЕЙ НА ТЕРРИТОРИИ НОВГОРОДСКОЙ И ПСКОВСКОЙ ОБЛАСТЕЙ.
- УЧАСТВОВАЛ В 27 БОЕВЫХ ОПЕРАЦИЯХ.
- ВСЕГО ИМ УНИЧТОЖЕНО: 78 НЕМЦЕВ, 2 ЖЕЛЕЗНОДОРОЖНЫХ И 12 ШОССЕЙНЫХ МОСТОВ, 2 ПРОДОВОЛЬСТВЕННО-ФУРАЖНЫХ СКЛАДА И 10 АВТОМАШИН С БОЕПРИПАСАМИ.
- СОПРОВОЖДАЛ ОБОЗ С ПРОДОВОЛЬСТВИЕМ (250 ПОДВОД) В БЛОКАДНЫЙ ЛЕНИНГРАД.
- ЗА ДОБЛЕСТЬ И ОТВАГУ НАГРАЖДЁН ОРДЕНОМ ЛЕНИНА, ОРДЕНОМ КРАСНОГО ЗНАМЕНИ, МЕДАЛЬЮ «ЗА ОТВАГУ» И МЕДАЛЬЮ ПАРТИЗАНУ ОТЕЧЕСТВЕННОЙ ВОЙНЫ II СТЕПЕНИ ПОСМЕРТНО.

ЛЕНЯ ГОЛИКОВ



- 13 АВГУСТА 1942 ГОДА, ВОЗВРАЩАЯСЬ ИЗ РАЗВЕДКИ ОТ ШОССЕ «ЛУГА—ПСКОВ», НЕПОДАЛЁКУ ОТ ДЕРЕВНИ ВАРНИЦЫ СТРУГО-КРАСНЕНСКОГО РАЙОНА ГРАНАТОЙ ПОДОРВАЛ ЛЕГКОВУЮ МАШИНУ, В КОТОРОЙ НАХОДИЛСЯ НЕМЕЦКИЙ ГЕНЕРАЛ-МАЙОР ИНЖЕНЕРНЫХ ВОЙСК РИХАРД ФОН ВИРТЦ. В ДОНЕСЕНИИ КОМАНДИРА ОТРЯДА УКАЗЫВАЛОСЬ, ЧТО ГОЛИКОВ В ПЕРЕСТРЕЛКЕ ЗАСТРЕЛИЛ ГЕНЕРАЛА ИЗ АВТОМАТА, НО ТОТ ОСТАЛСЯ ЖИВ И В 1945 ГОДУ БЫЛ ВЗЯТ В ПЛЕН АМЕРИКАНСКИМИ ВОЙСКАМИ. В ШТАБ БРИГАДЫ РАЗВЕДЧИК ДОСТАВИЛ ПОРТФЕЛЬ С ДОКУМЕНТАМИ. В ИХ ЧИСЛЕ БЫЛИ ЧЕРТЕЖИ И ОПИСАНИЕ НОВЫХ ОБРАЗЦОВ НЕМЕЦКИХ МИН, ИНСПЕКЦИОННЫЕ ДОНЕСЕНИЯ ВЫШЕСТОЯЩЕМУ КОМАНДОВАНИЮ И ДРУГИЕ ВАЖНЫЕ БУМАГИ ВОЕННОГО ХАРАКТЕРА.
- 24 ЯНВАРЯ 1943 ГОДА В БОЮ В СЕЛЕ ОСТРАЯ ЛУКА ПСКОВСКОЙ ОБЛАСТИ ЛЕОНИД ГОЛИКОВ ПОГИБ. ПРЕДСТАВЛЕН К ЗВАНИЮ ГЕРОЯ СОВЕТСКОГО СОЮЗА ПОСМЕРТНО.
- ВНЕСЁН В СПИСОК ПИОНЕРОВ-ГЕРОЕВ, ХОТЯ УЖЕ К НАЧАЛУ ВОЙНЫ ЕМУ ИСПОЛНИЛОСЬ 15 ЛЕТ.
- ДОЛГОЕ ВРЕМЯ СЧИТАЛОСЬ, ЧТО ФОТОГРАФИЙ ЛЁНИ ГОЛИКОВА НЕ СОХРАНИЛОСЬ, И ДЛЯ ПОРТРЕТА, СОЗДАННОГО ВИКТОРОМ ФОМИНЫМ В 1958 ГОДУ, ПОЗИРОВАЛА СЕСТРА ЛЁНИ — ЛИДА. НО ЕСТЬ И ПОДЛИННАЯ ФОТОГРАФИЯ ГЕРОЯ.
- О ПОДВИГЕ ГОЛИКОВА НАПИСАЛ ОЧЕРКИСТ АНАТОЛИЙ ВАХОВ. ВО ВРЕМЯ ВЕЛИКОЙ ОТЕЧЕСТВЕННОЙ ВОЙНЫ ВЫШЛА ЕГО ПЕРВАЯ КНИГА ОЧЕРКОВ О ПАРТИЗАНАХ «ДЕВЯТЬ БЕССТРАШНЫХ» (1944). В КНИГЕ А. А. ВАХОВА ПОМЕЩЕНА ФОТОГРАФИЯ ЛЁНИ ГОЛИКОВА НА СТР. 61, СДЕЛАННАЯ В ТЫЛУ ВРАГА КОРРЕСПОНДЕНТОМ ЛЕНТАСС, О ЧЁМ СВИДЕТЕЛЬСТВУЕТ ШТАМП В НИЖНЕМ ПРАВОМ УГЛУ. ЭТО, ВОЗМОЖНО, ЕДИНСТВЕННОЕ СОХРАНИВШЕЕСЯ ПОДЛИННОЕ ФОТО ГЕРОЯ.

МАРАТ ИВАНОВИЧ КАЗЕЙ (1929-1944) – СОВЕТСКИЙ БЕЛОРУССКИЙ ПИОНЕР-ГЕРОЙ, ЮНЫЙ КРАСНЫЙ ПАРТИЗАН- РАЗВЕДЧИК, ГЕРОЙ СОВЕТСКОГО СОЮЗА (1965, ПОСМЕРТНО)



- ▶ ОТЕЦ МАРАТА — ИВАН ГЕОРГИЕВИЧ КАЗЕЙ — КОММУНИСТ, АКТИВИСТ, ПРОСЛУЖИЛ 10 ЛЕТ НА БАЛТИЙСКОМ ФЛОТЕ. ПРОХОДИЛ ВОЕННУЮ СЛУЖБУ НА ЛИНКОРЕ «МАРАТ», В ЧЕСТЬ КОТОРОГО НАЗВАЛ СЫНА МАРАТОМ. ЗАТЕМ РАБОТАЛ НА ДЗЕРЖИНСКОЙ МАШИННО-ТРАКТОРНОЙ СТАНЦИИ, ВОЗГЛАВЛЯЛ КУРСЫ ПОДГОТОВКИ ТРАКТОРИСТОВ, БЫЛ ПРЕДСЕДАТЕЛЕМ ТОВАРИЩЕСКОГО СУДА, В 1935 Г. БЫЛ АРЕСТОВАН ЗА «ВРЕДИТЕЛЬСТВО», РЕАБИЛИТИРОВАН ПОСМЕРТНО В 1959 Г.
- ▶ МАТЬ АННА АЛЕКСАНДРОВНА КАЗЕЙ ТОЖЕ БЫЛА АКТИВИСТКОЙ, ВХОДИЛА В ИЗБИРАТЕЛЬНУЮ КОМИССИЮ ПО ВЫБОРАМ В ВЕРХОВНЫЙ СОВЕТ СССР. КАК И МУЖ, ПОДВЕРГАЛАСЬ РЕПРЕССИЯМ, ДВАЖДЫ АРЕСТОВЫВАЛАСЬ ПО ОБВИНЕНИЮ В «ТРОЦКИЗМЕ», НО БЫЛА ОТПУЩЕНА. НЕСМОТРИ НА АРЕСТЫ, ПРОДОЛЖАЛА АКТИВНО ПОДДЕРЖИВАТЬ СОВЕТСКУЮ ВЛАСТЬ. ВО ВРЕМЯ ВЕЛИКОЙ ОТЕЧЕСТВЕННОЙ ВОЙНЫ ПРЯТАЛА У СЕБЯ РАНЕННЫХ ПАРТИЗАН И ЛЕЧИЛА ИХ, ЗА ЧТО В 1942 Г. БЫЛА ПОВЕШЕНА НЕМЦАМИ В МИНСКЕ.
- ▶ ПОСЛЕ СМЕРТИ МАТЕРИ МАРАТ СО СТАРШЕЙ СЕСТРОЙ АРИАДНОЙ В НОЯБРЕ 1942 Г. УШЛИ В ПАРТИЗАНСКИЙ ОТРЯД ИМ. 25-ЛЕТИЯ ОКТЯБРЯ.

МАРАТ КАЗЕЙ

- ЗИМОЙ 1943 Г., КОГДА ОТРЯД ВЫХОДИЛ ИЗ ОКРУЖЕНИЯ, АРИАДНА КАЗЕЙ ПОЛУЧИЛА ТЯЖЕЛОЕ ОБМОРОЖЕНИЕ СТУПНЕЙ НОГ, ТРЕБОВАЛАСЬ АМПУТАЦИЯ. БЫЛО ПРИНЯТО РЕШЕНИЕ ОТПРАВИТЬ ЕЁ НА «БОЛЬШУЮ ЗЕМЛЮ», НО СОСТОЯНИЕ УХУДШАЛОСЬ, И АМПУТАЦИЮ ПРОВЕЛИ В ПОЛЕВЫХ УСЛОВИЯХ. АРИАДНА БЫЛА ЭВАКУИРОВАНА НА САМОЛЁТЕ ТОЛЬКО 14 ИЮНЯ 1943 Г. МАРАТУ, КАК НЕСОВЕРШЕННОЛЕТНЕМУ, БЫЛО ПРЕДЛОЖЕНО ЭВАКУИРОВАТЬСЯ ВМЕСТЕ С СЕСТРОЙ, НО ОН ОТКАЗАЛСЯ И ОСТАЛСЯ В ОТРЯДЕ.
- ВПОСЛЕДСТВИИ МАРАТ СТАЛ РАЗВЕДЧИКОМ ШТАБА 200-ОЙ ПАРТИЗАНСКОЙ БРИГАДЫ ИМ. К. К. РОКОССОВСКОГО ПОД КОМАНДОВАНИЕМ КОМБРИГА Н. Ю. БАРАНОВА. КРОМЕ РАЗВЕДОК, УЧАСТВОВАЛ В РЕЙДАХ И ДИВЕРСИЯХ. ЗА СМЕЛОСТЬ И ОТВАГУ В БОЯХ НАГРАЖДЁН ОРДЕНОМ ОТЕЧЕСТВЕННОЙ ВОЙНЫ I СТЕПЕНИ, МЕДАЛЯМИ «ЗА ОТВАГУ» (БУДУЧИ РАНЕН, ПОДНЯЛ ПАРТИЗАН В АТАКУ) И «ЗА БОЕВЫЕ ЗАСЛУГИ».
- В МАЕ 1944 Г., ВОЗВРАЩАЯСЬ ИЗ РАЗВЕДКИ, МАРАТ И НАЧАЛЬНИК РАЗВЕДКИ ШТАБА ПАРТИЗАНСКОЙ БРИГАДЫ ЛАРИН НА ЛОШАДЯХ ПРИЕХАЛИ В ДЕРЕВНЮ ХОРОМИЦКИЕ, ГДЕ ОНИ ДОЛЖНЫ БЫЛИ ВСТРЕТИТЬСЯ СО СВЯЗНЫМ ПАРТИЗАН. МЕНЬШЕ ЧЕМ ЧЕРЕЗ ПОЛЧАСА ДЕРЕВНЮ ОКРУЖИЛА ЦЕПЬ ГИТЛЕРОВЦЕВ ИЗ СОСТАВА КАРАТЕЛЬНОЙ ЗОНДЕРКОМАНДЫ ДИВИЗИИ СС «ДИРЛЕВАНГЕР» И ПОЛИЦАЕВ. В НАЧАВШЕЙСЯ ПЕРЕСТРЕЛКЕ ЛАРИН ПОГИБ ПОЧТИ СРАЗУ. МАРАТУ УДАЛОСЬ ДОБРАТЬСЯ ДО КУСТАРНИКА У ОПУШКИ ЛЕСА. ДЕРЖА ОБОРОНУ, ОН ОТСТРЕЛИВАЛСЯ ДО ПОСЛЕДНЕГО ПАТРОНА, ЗАТЕМ ОДНУ ГРАНАТУ БРОСИЛ В НЕМЦЕВ, А ВТОРОЙ ПОДОРВАЛ СЕБЯ, КОГДА НЕМЦЫ ПОДОШЛИ СОВСЕМ БЛИЗКО.
- ЗА ПРОЯВЛЕННЫЙ ГЕРОИЗМ В БОРЬБЕ С НЕМЕЦКО-ФАШИСТСКИМИ ЗАХВАТЧИКАМИ УКАЗОМ ПРЕЗИДИУМА ВЕРХОВНОГО СОВЕТА СССР ОТ 8 МАЯ 1965 ГОДА КАЗЕЮ МАРАТУ ИВАНОВИЧУ ПРИСВОЕНО ЗВАНИЕ ГЕРОЯ СОВЕТСКОГО СОЮЗА (ПОСМЕРТНО) — ЧЕРЕЗ 21 ГОД ПОСЛЕ ГИБЕЛИ.

ПАМЯТНИК МАРАТУ КОЗЕЮ В МИНСКЕ



ВАЛЕНТИН АЛЕКСАНДРОВИЧ КОТИК (1930-1944) - СОВЕТСКИЙ ПИОНЕР-ГЕРОЙ, ПАРТИЗАН-РАЗВЕДЧИК.



- РОДИЛСЯ В СЕЛЕ ХМЕЛЁВКА ШЕПЕТОВСКОГО РАЙОНА, КАМЕНЕЦ-ПОДОЛЬСКОЙ (С 1954 ГОДА И ПО НАСТОЯЩЕЕ ВРЕМЯ — ХМЕЛЬНИЦКОЙ) ОБЛАСТИ УКРАИНЫ В СЕМЬЕ СЛУЖАЩЕГО.
- НА МОМЕНТ ГИБЕЛИ ЕМУ ЕДВА ИСПОЛНИЛОСЬ 14 ЛЕТ
- К НАЧАЛУ ВОЙНЫ ОН ТОЛЬКО ПЕРЕШЁЛ В ПЯТЫЙ КЛАСС ШКОЛЫ № 4 ГОРОДА ШЕПЕТОВКА.
- ОСЕНЬЮ 1941 ГОДА ВМЕСТЕ С ТОВАРИЩАМИ, УСТРОИВ ЗАСАДУ, УБИЛ ГЛАВУ ПОЛЕВОЙ ЖАНДАРМЕРИИ БЛИЗ ГОРОДА ШЕПЕТОВКИ, ПОДОРВАВ ГРАНАТОЙ МАШИНУ, В КОТОРОЙ И ЕХАЛ ГЛАВА ЖАНДАРМЕРИИ.
- С 1942 г. БЫЛ СВЯЗНЫМ ШЕПЕТОВСКОЙ ПОДПОЛЬНОЙ ОРГАНИЗАЦИИ, ЗАТЕМ УЧАСТВОВАЛ В БОЯХ.
- С АВГУСТА 1943 г. – В ПАРТИЗАНСКОМ ОТРЯДЕ ИМЕНИ КАРМЕЛЮКА ПОД КОМАНДОВАНИЕМ ИВАНА АЛЕКСЕЕВИЧА МУЗАЛЁВА, БЫЛ ДВАЖДЫ РАНЕН.



**Памятник Вале
Котику
в Челябинске**

ВАЛЯ КОТИК

- В ОКТЯБРЕ 1943 г. ОН ОБНАРУЖИЛ ПОДЗЕМНЫЙ ТЕЛЕФОННЫЙ КАБЕЛЬ, КОТОРЫЙ ВСКОРЕ БЫЛ ПОДОРВАН.
- ВНЁС СВОЙ ВКЛАД В ПОДРЫВ ШЕСТИ ЖЕЛЕЗНОДОРОЖНЫХ ЭШЕЛОНОВ И СКЛАДОВ.
- 29 ОКТЯБРЯ 1943 г., БУДУЧИ В ДОЗОРЕ, ЗАМЕТИЛ КАРАТЕЛЕЙ, СОБИРАВШИХСЯ УСТРОИТЬ ОБЛАВУ НА ОТРЯД. УБИВ ОФИЦЕРА, ПОДНЯЛ ТРЕВОГУ; БЛАГОДАРЯ ЕГО ДЕЙСТВИЯМ, ПАРТИЗАНЫ УСПЕЛИ ДАТЬ ОТПОР ВРАГУ.
- В БОЮ ЗА ГОРОД ИЗЯСЛАВ 16 ФЕВРАЛЯ 1944 г. БЫЛ ТЯЖЕЛО РАНЕН И НА СЛЕДУЮЩИЙ ДЕНЬ СКОНЧАЛСЯ.
- В ИЮНЕ 1958 г. ВАЛЕНТИНУ КОТИКУ ПРИСВОЕНО ЗВАНИЕ ГЕРОЯ СОВЕТСКОГО СОЮЗА (ПОСМЕРТНО).

ЗИНАИДА МАРТЫНОВНА (ЗИНА) ПОРТНОВА (1926-1944) - ПИОНЕР-ГЕРОЙ , СОВЕТСКАЯ ПОДПОЛЬЩИЦА, ПАРТИЗАНКА, ГЕРОЙ СОВЕТСКОГО СОЮЗА (1958)



- РОДИЛАСЬ В ЛЕНИНГРАДЕ В СЕМЬЕ РАБОЧЕГО. ПО НАЦИОНАЛЬНОСТИ БЕЛОРУСКА. ОКОНЧИЛА 7 КЛАССОВ (1941).
- В НАЧАЛЕ ИЮНЯ 1941 г. ПРИЕХАЛА НА ШКОЛЬНЫЕ КАНИКУЛЫ В ДЕРЕВНЮ ЗУИ, БЛИЗ СТАНЦИИ ОБОЛЬ ШУМИЛИНСКОГО РАЙОН ВИТЕБСКОЙ ОБЛАСТИ.
- ПОСЛЕ НАПАДЕНИЯ ГИТЛЕРОВЦЕВ НА СССР ОКАЗАЛАСЬ НА ОККУПИРОВАННОЙ ТЕРРИТОРИИ.
- С 1942 ГОДА — ЧЛЕН ОБОЛЬСКОЙ ПОДПОЛЬНОЙ ОРГАНИЗАЦИИ «ЮНЫЕ МСТИТЕЛИ», РУКОВОДИТЕЛЬНИЦЕЙ КОТОРОЙ БЫЛА БУДУЩИЙ ГЕРОЙ СОВЕТСКОГО СОЮЗА Е. С. ЗЕНЬКОВА, ЧЛЕН КОМИТЕТА ОРГАНИЗАЦИИ. В ПОДПОЛЬЕ БЫЛА ПРИНЯТА В ВСЕСОЮЗНЫЙ ЛЕНИНСКИЙ КОММУНИСТИЧЕСКИЙ СОЮЗ МОЛОДЁЖИ.
- УЧАСТВОВАЛА В РАСПРОСТРАНЕНИИ ЛИСТОВОК СРЕДИ НАСЕЛЕНИЯ И ДИВЕРСИЯХ ПРОТИВ ЗАХВАТЧИКОВ.

ЗИНА ПОРТНОВА



- ▶ РАБОТАЯ В СТОЛОВОЙ КУРСОВ ПЕРЕПОДГОТОВКИ НЕМЕЦКИХ ОФИЦЕРОВ, ПО УКАЗАНИЮ ПОДПОЛЯ ОТРАВИЛА СУП (ПОГИБЛО БОЛЕЕ СТА ОФИЦЕРОВ). НАЦИСТЫ НАЧАЛИ ПОИСК ЗЛОУМЫШЛЕННИКОВ, ПОДОЗРЕВАЯ ВСЕХ И КАЖДОГО. ПОПАЛА ПОД ПОДОЗРЕНИЕ И ЗИНА, КОТОРУЮ НЕМЦЫ ПОЧТИ НАСИЛЬНО НАКОРМИЛИ ТЕМ САМЫМ СУПОМ. ОНА НЕ ПОМНИЛА, КАК ДОБРАЛАСЬ ДО КРЫЛЕЧКА БАБУШКИНОГО ДОМА, НО ТА ОТПОИЛА ЕЁ ТРАВЯНЫМИ ОТВАРАМИ И МОЛОЧНОЙ СЫВОРОТКОЙ, В РЕЗУЛЬТАТЕ ДЕВУШКА ОСТАЛАСЬ ЖИВА.
- ▶ ПРОИЗОШЕДШЕГО ОСТАВАТЬСЯ В ДЕРЕВНЕ БЫЛО СМЕРТЕЛЬНО ОПАСНО, И ПОРТНОВУ ПЕРЕПРАВИЛИ В ПАРТИЗАНСКИЙ ОТРЯД.
- ▶ С АВГУСТА 1943 г. - РАЗВЕДЧИЦА ПАРТИЗАНСКОГО ОТРЯДА ИМЕНИ К. Е. ВОРОШИЛОВА.
- ▶ В ДЕКАБРЕ 1943 г., ВОЗВРАЩАЯСЬ С ЗАДАНИЯ ПО ВЫЯСНЕНИЮ ПРИЧИН ПРОВАЛА ОРГАНИЗАЦИИ «ЮНЫЕ МСТИТЕЛИ», СХВАЧЕНА В ДЕРЕВНЕ МОСТИЩЕ И ОПОЗНАНА НЕКОЙ АННОЙ ХРАПОВИЦКОЙ.
- ▶ НА ОДНОМ ИЗ ДОПРОСОВ В ГЕСТАПО ДЕРЕВНИ ГОРЯНЫ (НЫНЕ ПОЛОЦКОГО РАЙОНА ВИТЕБСКОЙ ОБЛАСТИ БЕЛАРУСИ) ЕЙ УГРОЖАЛ СЛЕДОВАТЕЛЬ ПИСТОЛЕТОМ, В КОТОРОМ БЫЛ "ОДИН" ПАТРОН, ЗИНА ХРАБРО МОЛЧАЛА, ВДРУГ ВО ДВОР ВЪЕХАЛИ МАШИНЫ И СЛЕДОВАТЕЛЬ ОТВЛЕКСЯ. ТОГДА СХВАТИВ СО СТОЛА ПИСТОЛЕТ СЛЕДОВАТЕЛЯ, ЗАСТРЕЛИЛА ЕГО И ЕЩЁ ДВУХ ГИТЛЕРОВЦЕВ, ПЫТАЛАСЬ БЕЖАТЬ, НО ОКОЛО РЕКИ БЫЛА СХВАЧЕНА.
- ▶ ПОСЛЕ ЭТОГО ЕЁ ПЫТАЛИ БОЛЬШЕ МЕСЯЦА, ПЫТАЯСЬ ПОЛУЧИТЬ КАКУЮ-ЛИБО ИНФОРМАЦИЮ О ПАРТИЗАНАХ.
- ▶ УТРОМ 10 ЯНВАРЯ 1944 ГОДА ЕЁ РАССТРЕЛЯЛИ В ТЮРЬМЕ ГОРОДА ПОЛОЦК (ПО ДРУГОЙ ВЕРСИИ — В ДЕРЕВНЕ ГОРЯНЫ).

АЛЕКСАНДР ПАВЛОВИЧ ЧЕКАЛИН (1925-1941) - ЮНЫЙ ПАРТИЗАН-РАЗВЕДЧИК, ГЕРОЙ СОВЕТСКОГО СОЮЗА (1942, ПОСМЕРТНО)



- РОДИЛСЯ В СЕЛЕ ПЕСКОВАТСКОЕ (НЫНЕ — СУВОРОВСКОГО РАЙОНА ТУЛЬСКОЙ ОБЛАСТИ) В СЕМЬЕ СЛУЖАЩЕГО.
- РУССКИЙ. СЫН ОХОТНИКА, С МАЛЫХ ЛЕТ НАУЧИЛСЯ МЕТКО СТРЕЛЯТЬ, ХОРОШО ЗНАЛ ОКРЕСТНЫЕ ЛЕСА. ИГРАЛ НА МАНДОЛИНЕ, УВЛЕКАЛСЯ ФОТОГРАФИЕЙ.
- В 1932 г. ПОСТУПИЛ В СЕЛЬСКУЮ ШКОЛУ. С 1938 г. СЕМЬЯ ПЕРЕЕХАЛА В ГОРОД ЛИХВИН.
- В МАЕ 1941 г. ОКОНЧИЛ 8 КЛАССОВ СРЕДНЕЙ ШКОЛЫ.
- ЧЛЕН ВЛКСМ С 1939 г.
- В ШКОЛЕ БОЛЬШЕ ВСЕГО ИНТЕРЕСОВАЛСЯ ФИЗИКОЙ И ПРИРОДОВЕДЕНИЕМ: ЗНАЛ ЛАТИНСКИЕ НАЗВАНИЯ МНОГИХ ЛУГОВЫХ ТРАВ И ЦВЕТОВ.
- В 15 ЛЕТ НОСИЛ НА ГРУДИ ЗНАЧКИ «ВОРОШИЛОВСКИЙ СТРЕЛОК», ПВХО (ПРОТИВОВОЗДУШНАЯ И ПРОТИВОХИМИЧЕСКАЯ ОБОРОНА) И ГТО, ИМЕЛ СОБСТВЕННОРУЧНО СОБРАННЫЙ РАДИОПРИЁМНИК. ТОВАРИЩИ ПРОЗВАЛИ ЕГО НЕУГОМОННЫМ, А В СЕМЬЕ — САШЕЙ-НЕПОСЕДОЙ.

ШУРА ЧЕКАЛИН



- ▶ С НАЧАЛОМ ВЕЛИКОЙ ОТЕЧЕСТВЕННОЙ ВОЙНЫ ВСТУПИЛ ДОБРОВОЛЬЦЕМ В ИСТРЕБИТЕЛЬНЫЙ ОТРЯД, А ЗАТЕМ, КОГДА ТЕРРИТОРИЯ ТУЛЬСКОЙ ОБЛАСТИ БЫЛА ЧАСТИЧНО ОККУПИРОВАНА НЕМЕЦКИМИ ВОЙСКАМИ, СТАЛ РАЗВЕДЧИКОМ В ПАРТИЗАНСКОМ ОТРЯДЕ «ПЕРЕДОВОЙ».
- ▶ В НАЧАЛЕ НОЯБРЯ 1941 г. БЫЛ ЗАХВАЧЕН, ПОДВЕРГНУТ ПЫТКАМ И 6 НОЯБРЯ ПОВЕШЕН НА ГОРОДСКОЙ ПЛОЩАДИ ГОРОДА ЛИХВИНА.
- ▶ В 1944 г. ГОРОД ЛИХВИН БЫЛ ПЕРЕИМЕНОВАН В ЧЕКАЛИН, В ЕГО ЧЕСТЬ НАЗВАНЫ УЛИЦЫ ВО МНОГИХ НАСЕЛЁННЫХ ПУНКТАХ РОССИИ И ГОСУДАРСТВАХ БЫВШЕГО СССР.
- ▶ ПОДВИГУ КОМСОМОЛЬЦА АЛЕКСАНДРА ЧЕКАЛИНА ПОСВЯЩЕНЫ МНОГИЕ ЛИТЕРАТУРНЫЕ ПРОИЗВЕДЕНИЯ И КИНОФИЛЬМ «ПЯТНАДЦАТАЯ ВЕСНА» (СССР, 1972).

БОРИС АНДРЕЕВИЧ ЦАРИКОВ (1925-1943) - ПИОНЕР-ГЕРОЙ, ГЕРОЙ СОВЕТСКОГО СОЮЗА (1943)



- РОДИЛСЯ В ГОРОДЕ ГОМЕЛЬ БЕЛОРУССИИ В СЕМЬЕ СЛУЖАЩЕГО. БЕЛОРУС. ОБРАЗОВАНИЕ СРЕДНЕЕ. КОМСОМОЛЕЦ.
- В КРАСНОЙ АРМИИ С 1941 г. В ДЕЙСТВУЮЩЕЙ АРМИИ С ФЕВРАЛЯ 1943 г.
- РАЗВЕДЧИК 43-ГО СТРЕЛКОВОГО ПОЛКА 106-Й СТРЕЛКОВОЙ ДИВИЗИИ 65-Й АРМИИ ЦЕНТРАЛЬНОГО ФРОНТА.
- МЛАДШИЙ СЕРЖАНТ.
- 15 ОКТЯБРЯ 1943 г. С ГРУППОЙ МИНЁРОВ ПЕРВЫМ ПЕРЕПРАВИЛСЯ ЧЕРЕЗ РЕКУ ДНЕПР В РАЙОНЕ ПОСЁЛКА ГОРОДСКОГО ТИПА ЛОЕВ ГОМЕЛЬСКОЙ ОБЛАСТИ БЕЛОРУССИИ, ВОДРУЗИВ НА ПРАВОМ БЕРЕГУ КРАСНОЕ ЗНАМЯ, И В ТЕЧЕНИЕ 5 СУТОК УЧАСТВОВАЛ В БОЯХ ПО РАСШИРЕНИЮ ПЛАЦДАРМА; 17-ЛЕТНИЙ ВОИН НЕСКОЛЬКО РАЗ ВОЗВРАЩАЛСЯ НА ЛЕВЫЙ БЕРЕГ С БОЕВЫМИ ДОНЕСЕНИЯМИ В ШТАБ. ЗА ЭТОТ ПОДВИГ УДОСТОЕН ЗВАНИЯ ГЕРОЯ СОВЕТСКОГО СОЮЗА.
- ПОГИБ В БОЮ 13 НОЯБРЯ 1943 ГОДА. ПОХОРОНЕН В БРАТСКОЙ МОГИЛЕ В ПОСЁЛКЕ ГОРОДСКОГО ТИПА ЛОЕВ ГОМЕЛЬСКОЙ ОБЛАСТИ БЕЛОРУССИИ.
- НАГРАЖДЁН ОРДЕНАМИ ЛЕНИНА И КРАСНОГО ЗНАМЕНИ.


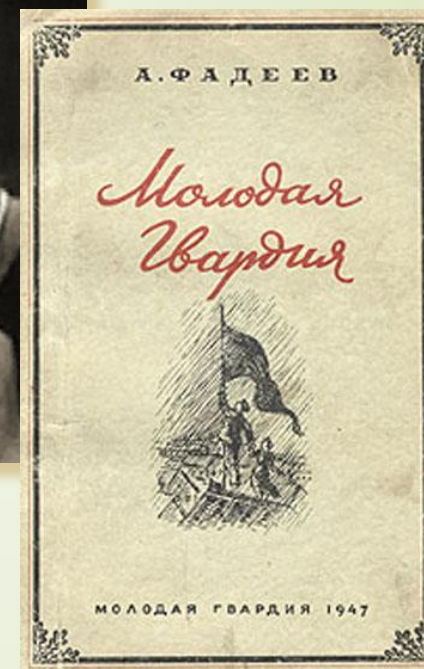
**АЛЛЕЯ ПИОНЕРОВ-ГЕРОЕВ.
ЛИПЕЦКАЯ ОБЛАСТЬ. РОССИЯ.**





**«МОЛОДАЯ
ГВАРДИЯ»
(г. КРАСНОДОН)**

1. ВИКТОР ТРЕТЬЯКЕВИЧ
2. ИВАН ЗЕМНУХОВ
3. УЛЬЯНА ГРОМОВА
4. ОЛЕГ КОШЕВОЙ
5. ИВАН ТУРКЕНИЧ
6. ЛЮБОВЬ ШЕВЦОВА
7. СЕРГЕЙ ТЮЛЕНИН
8. ВИКТОР ОСЬМУХИН







1941-1945 ГГ. ПОКАЗАЛИ, КАК МОГУТ
РАЗВИВАТЬСЯ ОТЕЧЕСТВЕННЫЕ НАУКА И
ТЕХНИКА, СОВЕТСКИЙ СОЮЗ СМОГ
САМОСТОЯТЕЛЬНО РЕШИТЬ МНОГИЕ
ПРОБЛЕМЫ В ЭТОЙ ОБЛАСТИ.



В.Г. ФЕДОРОВ

А.А. БЛАГОПРАВОВ

В.А. ДЕГТЯРЕВ



Ф.В. ТОКАРЕВ

С.Г. СИМОНОВ

Г.С. ШПАГИН



П.М. ГОРЮНОВ

А.И. СУДАЕВ

С.В. ВЛАДИМИРОВ




М.И.
Кошкин



Ж.Я. Котин



ПАМЯТНЫЕ МЕСТА РОДНОГО ГОРОДА





izabella-irro@mail.ru

СПАСИБО ЗА ВНИМАНИЕ!

