




Географическая игра

Путешественники	<u>10</u>	<u>20</u>	<u>30</u>	<u>40</u>
Планета Земля	<u>10</u>	<u>20</u>	<u>30</u>	<u>40</u>
Материки и океаны	<u>10</u>	<u>20</u>	<u>30</u>	<u>40</u>
Карта	<u>10</u>	<u>20</u>	<u>30</u>	<u>40</u>
План местности	<u>10</u>	<u>20</u>	<u>30</u>	<u>40</u>



Кто впервые
добрался до
Антарктиды?



Беллинсгаузен и Лазарев



Кто открыл Америку, но всю свою
жизнь думал, что добрался до
Индии?



Христофор Колумб



Кто совершил первое кругосветное путешествие?

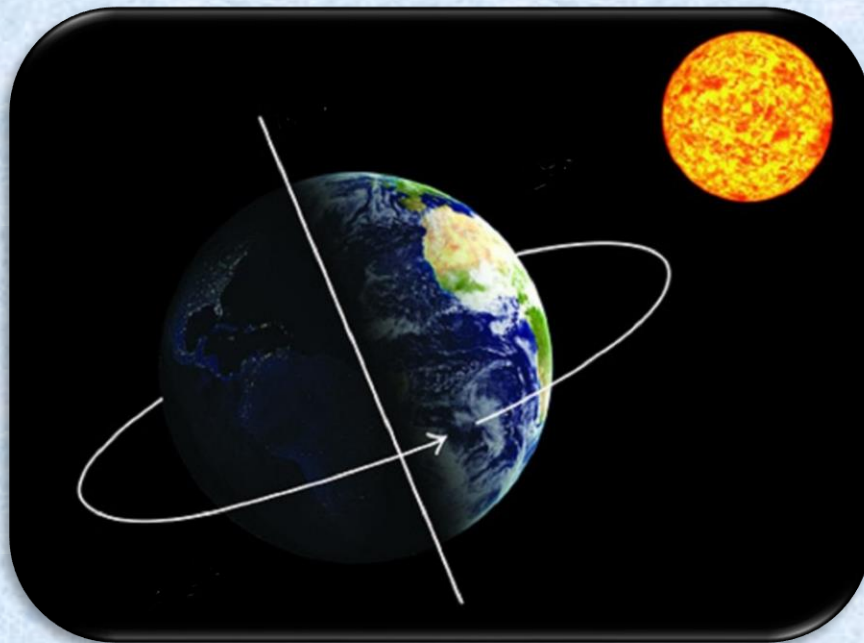


Кто открыл Австралию и назвал
его материком?

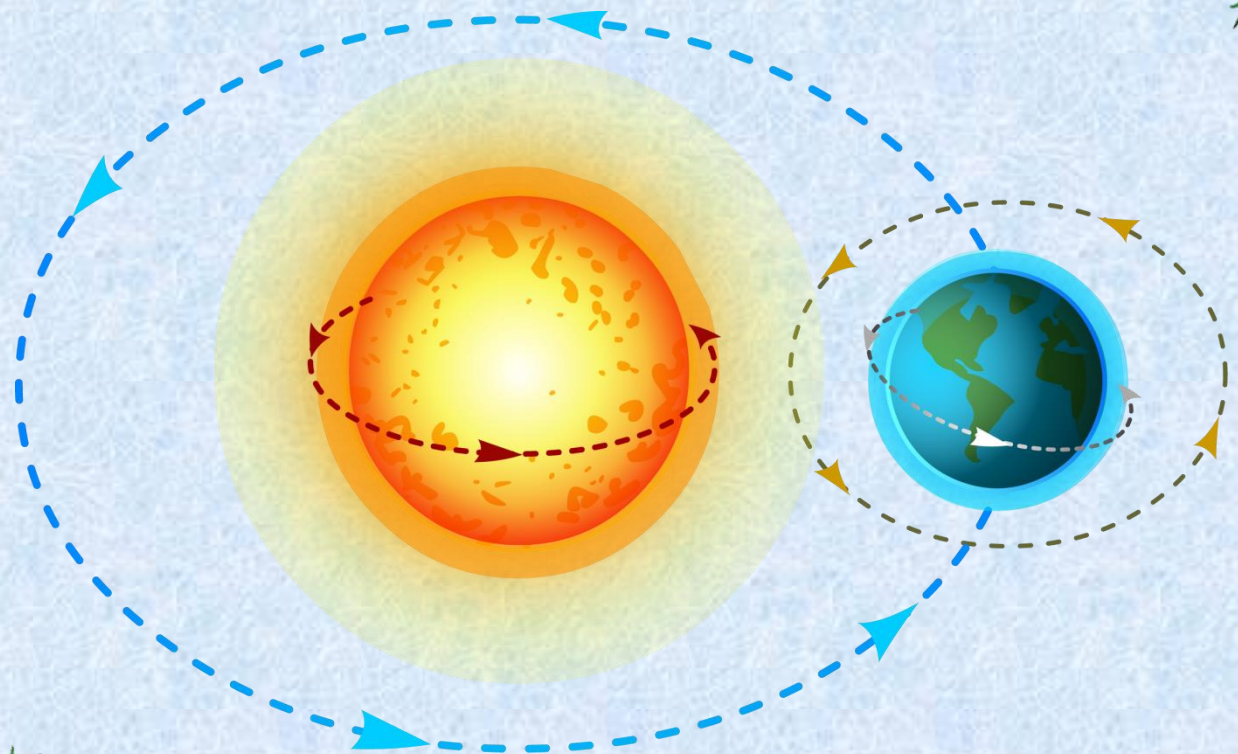
Джеймс Кук



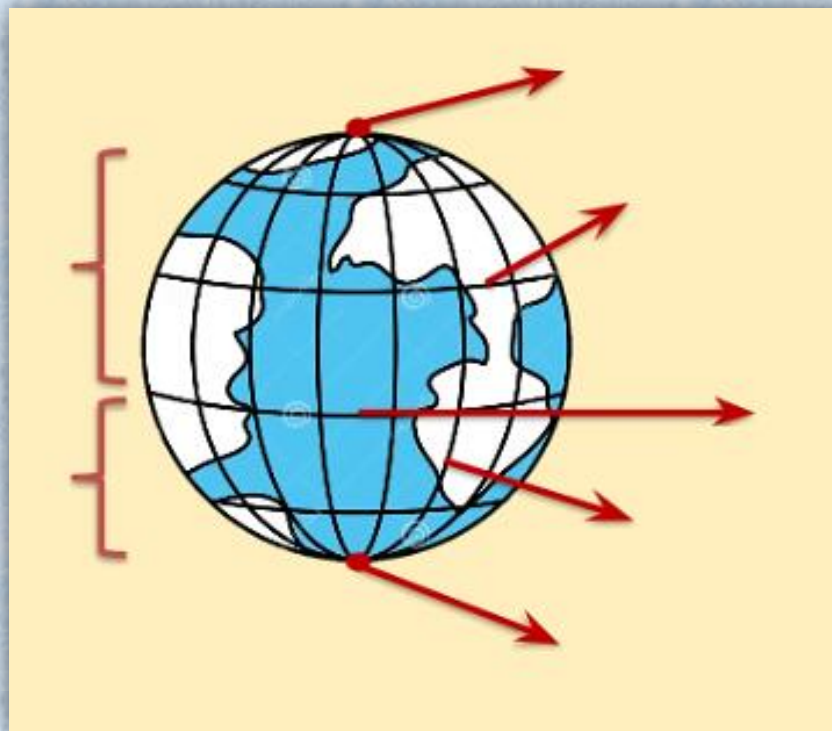
Что происходит вследствие вращения Земли вокруг своей оси? За сколько она делает полный оборот?



За сколько Земля делает полный оборот вокруг Солнца? Что изменяется в ходе этого процесса?



Назовите все условные линии
на земном шаре

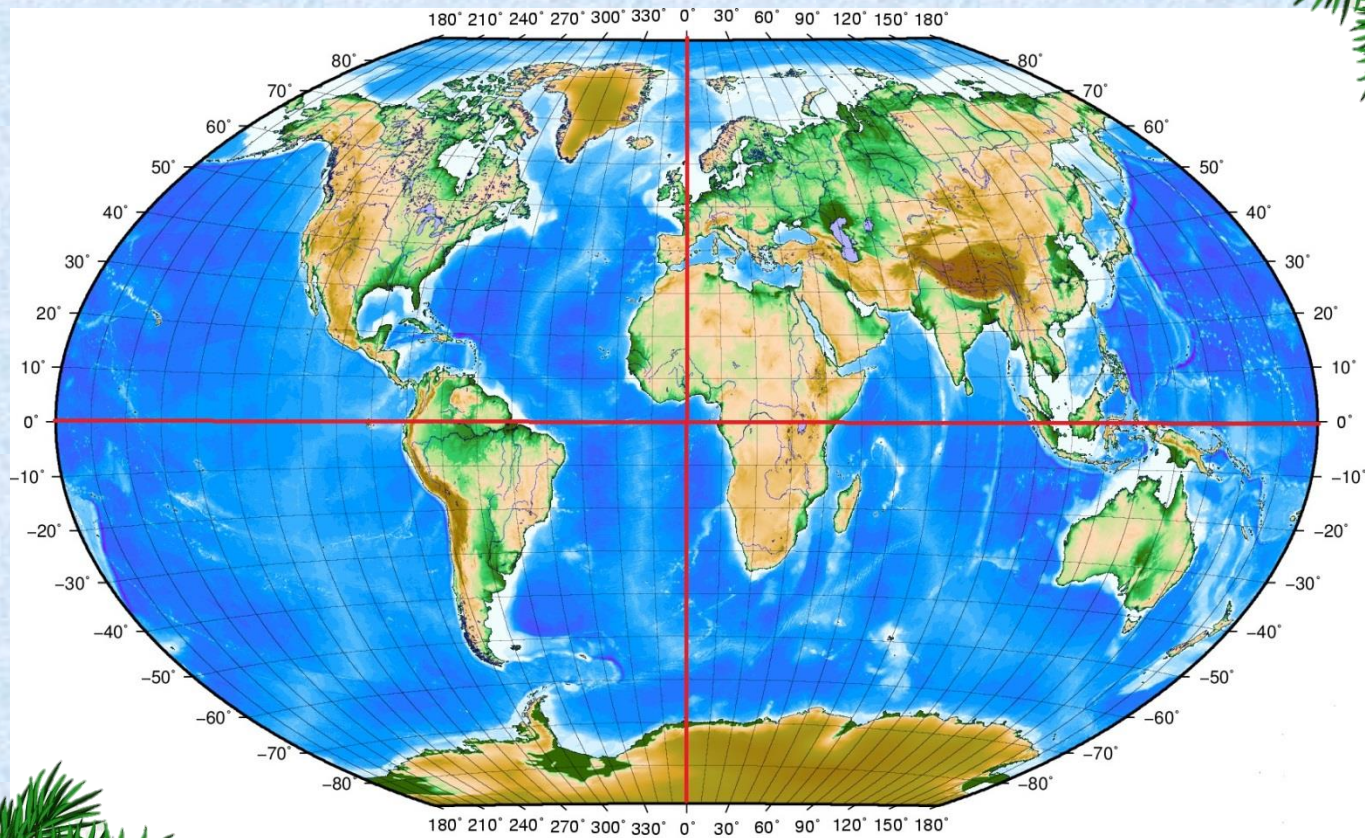


Назовите точный
космический адрес Земли:

- 1) Галактика –
- 2) Система планет –
- 3) ... планета от Солнца



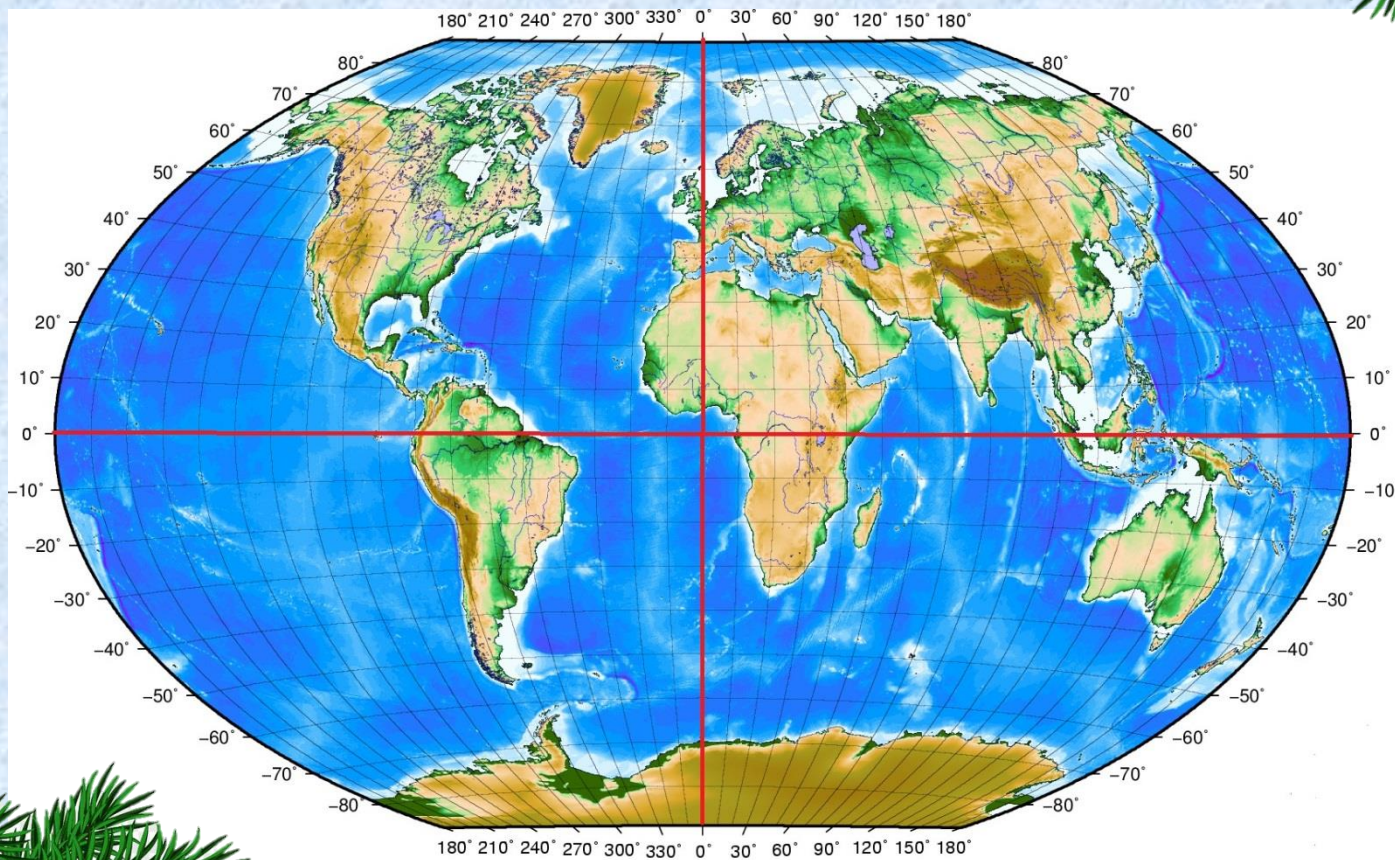
Какие материки пересекает
экватор?



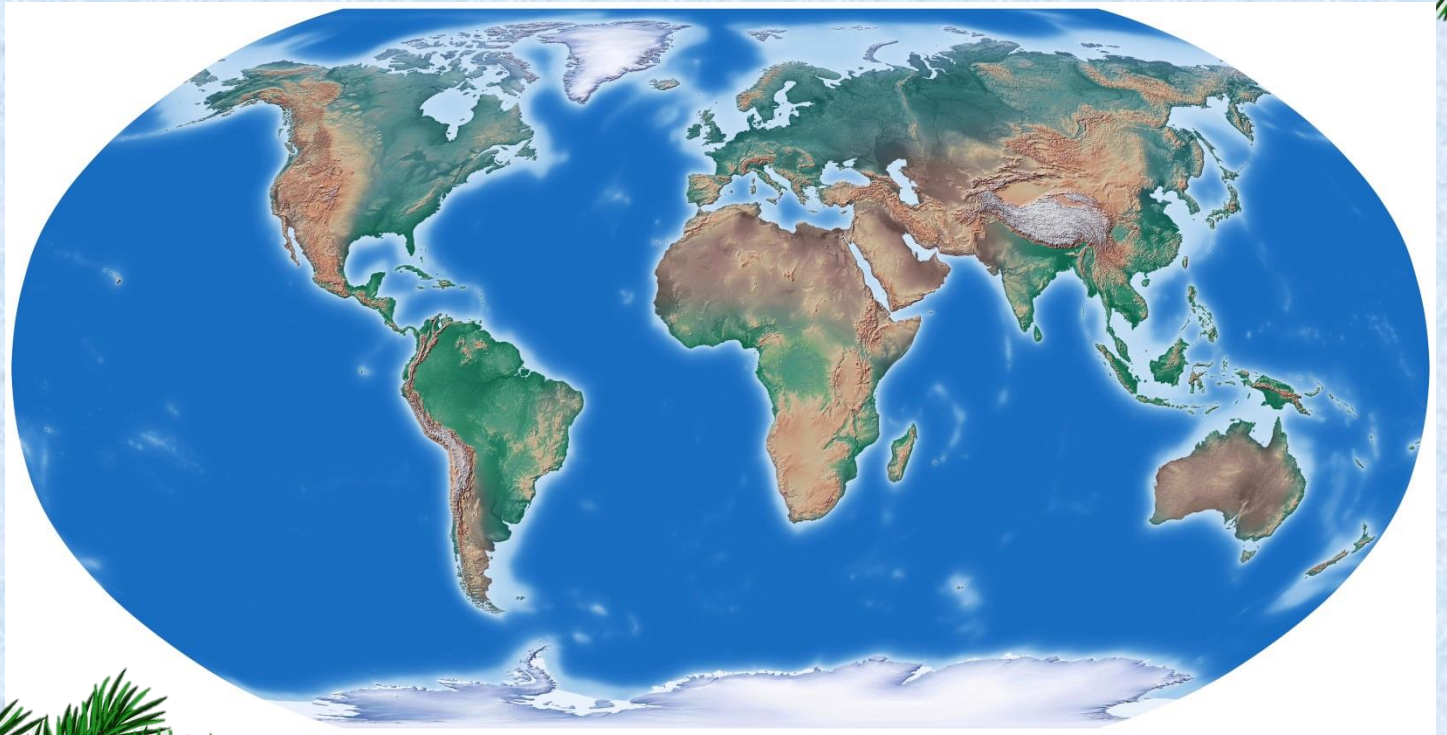
Какой океан является самым
большим и глубоким на
Земле? Почему ему дали такое
название?



Назовите все материки и их географическое положение (широта и долгота)



Назовите все океаны и
покажите их на карте.



Составьте определение слова «Карта»



Что появилось раньше карта или
глобус? Объясните свой ответ?



Какие элементы обязательно должны быть на карте?



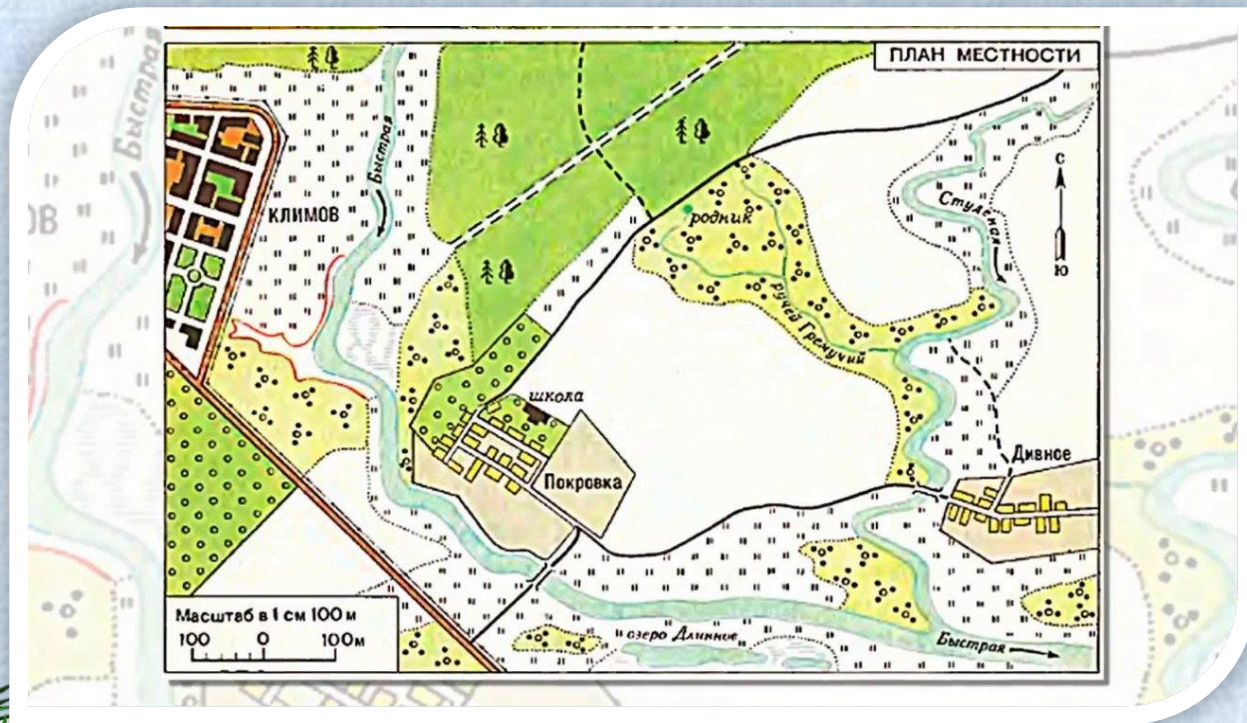
Какая это карта по содержанию? Оцените её качество, все ли элементы присутствуют?



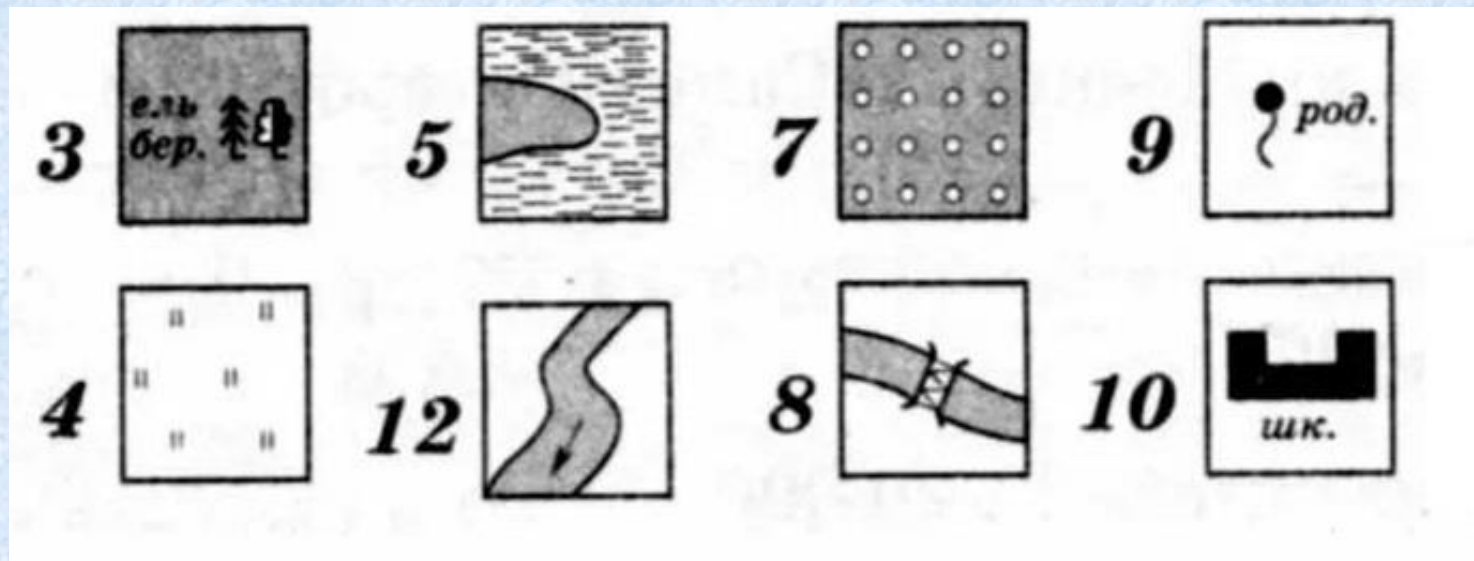
ЕВРОПА			АЗИЯ		АЗИЯ		АФРИКА		АМЕРИКА		
1 Эстония	6 Лихтенштейн	10 Сербия и Черногория	13 Грузия	19 Палестинские территории ⁵ (Западный берег реки Иордан и сектор Газа)	24 Катар	29 Бангладеш	39 Кот-д'Ивуар	45 Центрально-африканская Республика	55 Гаити	61 Никарагуа	
2 Нидерланды	7 Словения	11 Македония	14 Армения	20 Израиль	25 Объединенные Арабские Эмираты	30 Камбоджа	40 Бурунди	50 Замбия	56 Доминиканская Республика	62 Коста-Рика	
3 Бельгия	8 Хорватия	12 Албания	15 Азербайджан	21 Корея	26 Кореяская Народно-Демократическая Республика	31 Малайзия	41 Гана	51 Мали	57 Бельма	63 Панама	
4 Люксембург	9 Босния и Герцеговина		16 Киргизия	22 Кувейт	27 Республика Корея	32 Бруней	38 Гвинея	42 Того	46 Эритрея	52 Зимбабве	64 Суринам
5 Швейцария			17 Таджикистан	23 Оман	28 Бутан	33 Тунис	37 Сьерра-Леоне	43 Бенин	47 Джибути	53 Свазиленд	65 Гвинея (Фр.)
			18 Ливан	24 Бразилия		34 Гамбия	44 Экваториальная Гвинея	48 Руанда	54 Лесото	58 Гондурас	66 Уругвай
				20 Индия		40 Бурунди	46 Эритрея	52 Зимбабве	58 Гондурас	66 Уругвай	

Примечания:
 1. Не признаны международным сообществом: Республика Абхазия, Республика Южная Осетия, Республика Северная Осетия-Алания, Республика Крым, Республика ДНР, Республика ЛНР, Республика ПНР, Республика ТАРС, Республика ДНР, Республика ЛНР, Республика ПНР, Республика ТАРС.
 2. Сахары подлежат урегулированию согласно соответствующему решению ООН.
 3. Территориальная единица Франции. Генеральная Ассамблея ООН признает право наций на самоопределение.
 4. Фолклендские (Мальвинские) Острова – спорная между Аргентиной и Великобританией территория; фактически является владением Великобритании и центром Порт-Стэнли.
 5. Палестинские территории (Западный берег реки Иордан и сектор Газа) оккупированы Израилем в 1967 г. В настоящее время в рамках местного урегулирования на Ближнем Востоке идет процесс формирования палестинского самоуправления.
 6. Палестинские территории (Западный берег реки Иордан и сектор Газа) оккупированы Израилем в 1967 г. В настоящее время в рамках местного урегулирования на Ближнем Востоке идет процесс формирования палестинского самоуправления.
 7. 3 июня 2006 г. по результатам референдума была провозглашена независимость Черногории; 5 июня 2006 г. провозглашена независимость Сербии.
 8. Граница между Республикой Сербия и Республикой Черногория.

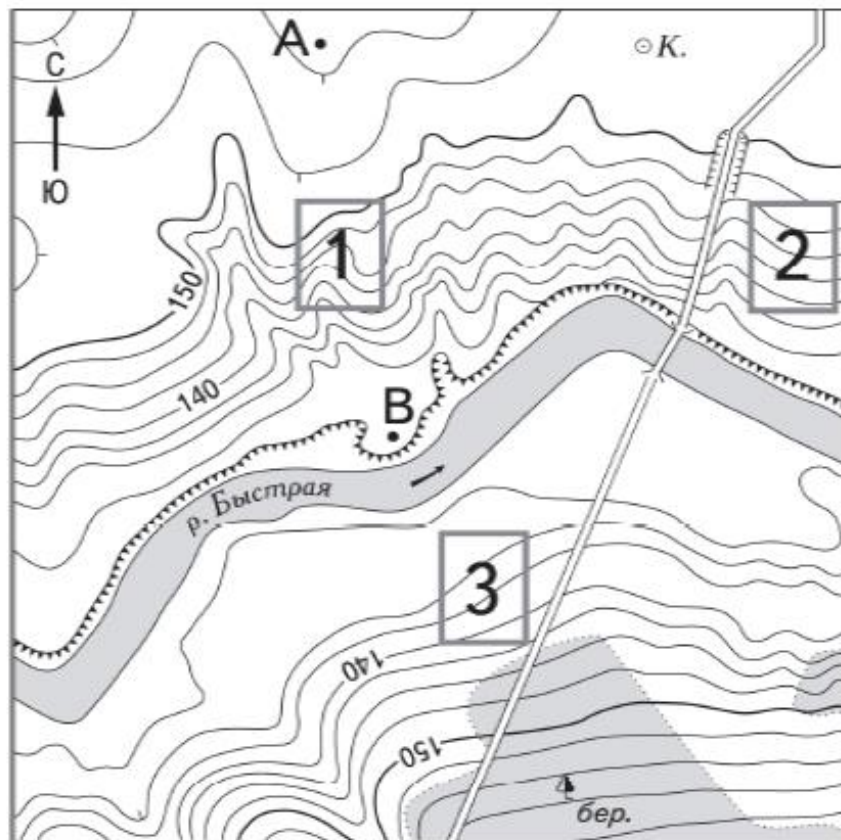
Чем отличается план местности от карты? Зачем он нужен?



Какие условные знаки
изображены на картинке?



Назовите условные знаки на плане местности. В каком направлении от точки **В** расположен **колодец**?



Назовите условные знаки на плане местности. Какой участок лучше всего подходит для катания на санках и почему ?

